

## فعالیت کلاسی



۱. جاهای خالی را با کلمات و اعداد مناسب پر کن.
- الف: یک بسته ۱۰۰ تایی = ۱۰ ده تایی = ۱۰۰ یکی
- ب: ۵۰ سکه ۱ ریالی = ۵ سکه ۱۰ ریالی
- ب: ۳۰ سکه ۱ ریالی = ۳ سکه ۱۰ ریالی
- ت: ۱۰۰ سکه ۱ ریالی = ۲ سکه ۵۰ ریالی

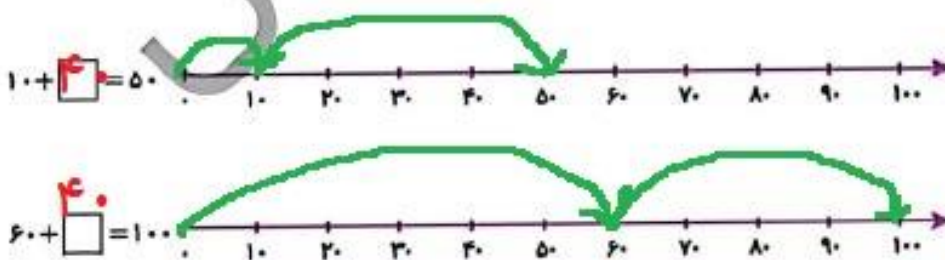
۲. پاسخ صحیح را به گزینه‌های سمت راست وصل کن.

- |                  |                                 |
|------------------|---------------------------------|
| ۱۰ بسته ۱۰ ریالی | ۲۰ دقیقه بعد از ساعت ۳:۱۰ دقیقه |
| ۳:۳۰ دقیقه       | ۳۰ + ۷۰                         |
| ۷:۳۰ دقیقه       | ۳۰ دقیقه بعد از ساعت ۷          |
| ۱۰۰ ریال         | ۱۰ سکه ۱۰ ریالی                 |

۳. به اندازه‌ی زمان خواسته شده، عقربه‌های ساعت را تغییر بده و در ساعت (۲) عقربه بکش. سپس زمان را زیر آن بنویس.



۴. در هر قسمت با استفاده از محور از محور در جای خالی عدد مناسب بنویس.



## علوی

### تمرین

۱ عدد صحیح مربوط به هر جای خالی را به آن وصل کن.

- ۳ تا سکه ۱۰ ریالی برابر است با ..... ریال
- ۷۰ سکه ۱ ریالی برابر است با ۷ سکه ..... ریالی
- ۱۰ سکه ده ریالی برابر است با یک سکه ..... ریالی
- یک سکه ۱۰۰ ریالی برابر است با ۲ سکه ..... ریالی

۲ درست  و نادرست  هر عبارت را مشخص کن.


الف: در شمارش اعداد به ترتیب عدد قبل از ۹۸، ۹۹ و عدد بعد از آن ۱۰۰ می‌باشد.

ب: در شمارش ۱۰ تا ۱۰۰، عدد بعد از ۹۰، ۱۰۰ است.


پ: حاصل جمع  $۱۰ + ۱۷۰$  حاصل تفریق  $۲۰ - ۹۰$  برابر است.

۲ زمان را تغییر بده و برای ساعت (۲) عقربه بکش، سپس زمان آن را بنویس.


الف:

(۱)   $۱:۵۰$


۵ دقیقه بعد  $\rightarrow$

(۲)   $۱:۵۵$

ب:

(۱)   $۸:۲۰$

۳۰ دقیقه بعد  $\rightarrow$

(۲)   $۹:۰۰$

۲ یک ربع طول می‌کشد که درنا نصف راه خانه نامدرسه را برود. چقدر طول می‌کشد که او از مدرسه به خانه برسد؟

خانه

۱۵ دقیقه

۱۵ دقیقه

مدرسه

۳۰ دقیقه طول می‌کشد

