

ق
ا
ب



فصل ۴

۱۰۰

عددهای سه رقمی



آیا می‌دانید؟ دسته‌های پول در بانک به صورت صدتایی بسته‌بندی می‌شوند. در تصویر برای مثال ۱۰۰ اسکناس ۱۰۰ تومانی در یک بسته دیده می‌شود.

به نام خداوند بخشنده و مهربان

فصل سوم عددهای سه رقمی

آموزگار: خانم خاکسار

دبستان و پیش دبستان علوی

صفحه ی ۵۹



سکه



چرتکه




صدتایی




ده تایی



یکی



معرفی عددهای سه رقمی



۱ - سعیده از مادرش تعدادی سکه گرفت.
او می‌خواست بداند چقدر پول دارد. پول‌هایش را
به مدرسه برد و مانند شکل روبه‌رو روی میز
قرار داد.

او با دسته‌های صدتایی، ده‌تایی و یکی که از
آموزگار گرفته بود، همان عدد را به صورت روبه‌رو
درست کرد و به معلم خود نشان داد.



اما آموزگار یک وسیله‌ی دیگر به کلاس آورده بود.
به سعیده گفت: حالا از چرتکه استفاده کن و با انداختن
مه‌ره در میله همان عدد را درست کن. سعیده هم دست به کار شد.

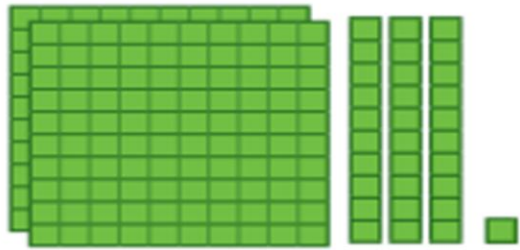
آموزگار از او خواست با کامل کردن جدول، عدد را بسازد تا کم‌کم متوجه شود که چقدر
پول دارد. سعیده عدد را از جدول خارج کرد و نوشت:

ص	د	ی

آموزگار هم این عدد را برایش خواند و گفت: دویست و سی و یک



معرفی عددهای سه رقمی



۱ - سعیده از مادرش تعدادی سکه گرفت. او می‌خواست بداند چقدر پول دارد. پول‌هایش را به مدرسه برد و مانند شکل روبه‌رو روی میز قرار داد.

او با دسته‌های صدتایی، ده‌تایی و یکی که از آموزگار گرفته بود، همان عدد را به صورت روبه‌رو درست کرد و به معلم خود نشان داد.



اما آموزگار یک وسیله‌ی دیگر به کلاس آورده بود. به سعیده گفت: حالا از چرتکه استفاده کن و با انداختن مهره در میله همان عدد را درست کن. سعیده هم دست به کار شد.

آموزگار از او خواست با کامل کردن جدول، عدد را بسازد تا کم‌کم متوجه شود که چقدر پول دارد. سعیده عدد را از جدول خارج کرد و نوشت: **دویست و سی و یک**

آموزگار هم این عدد را برایش خواند و گفت: دویست و سی و یک



ص	د	س
۲	۳	۱

۳ دسته‌ی صدتایی ۴ دسته‌ی ده‌تایی و ۷ تا یکی.

به عدد:

به حروف:

۵ دسته‌ی صدتایی ۳ دسته‌ی ده‌تایی و ۴ تا یکی.

به عدد:

به حروف:

ص	د	ی

ص	د	ی

۳ دسته‌ی صدتایی ۴ دسته‌ی ده‌تایی و ۷ تا یکی.

به عدد: ۳۴۷

به حروف: سیصد و چهل و هفت

ص	د	ی
۳	۴	۷

۵ دسته‌ی صدتایی ۳ دسته‌ی ده‌تایی و ۴ تا یکی.

به عدد: ۵۳۴

به حروف: پانصد و سی و چهار

ص	د	ی
۵	۳	۴

۳- الگوها را ادامه دهید.

۱۰۰, ۲۰۰, ۳۰۰, _____, _____, _____, _____, _____

صد، (ویست، سیصد، چهارصد، پانصد، _____, _____, _____)

۳- الگوها را ادامه دهید.

۱۰۰, ۲۰۰, ۳۰۰, ۴۰۰, ۵۰۰, ۶۰۰, ۷۰۰, ۸۰۰, ۹۰۰

صد، (ویست، سیصد، چهارصد، پانصد، ششصد، هفتصد، هشتصد، نهصد