

۱- با سه کارت که روی آن‌ها رقم‌های ۲ و ۳ و ۵ نوشته شده است، تمام عددهای سه رقمی را که می‌توان ساخت، درست کنید و مانند نمونه بنویسید. چند عدد سه رقمی درست شد؟



235 - 253 - 352 - 325 - 532 - 523

۲- حالا با سه کارت که روی آن‌ها رقم‌های ۷ و ۰ و ۹ نوشته شده است، تمام عددهای سه رقمی را که می‌توان ساخت، درست کنید.



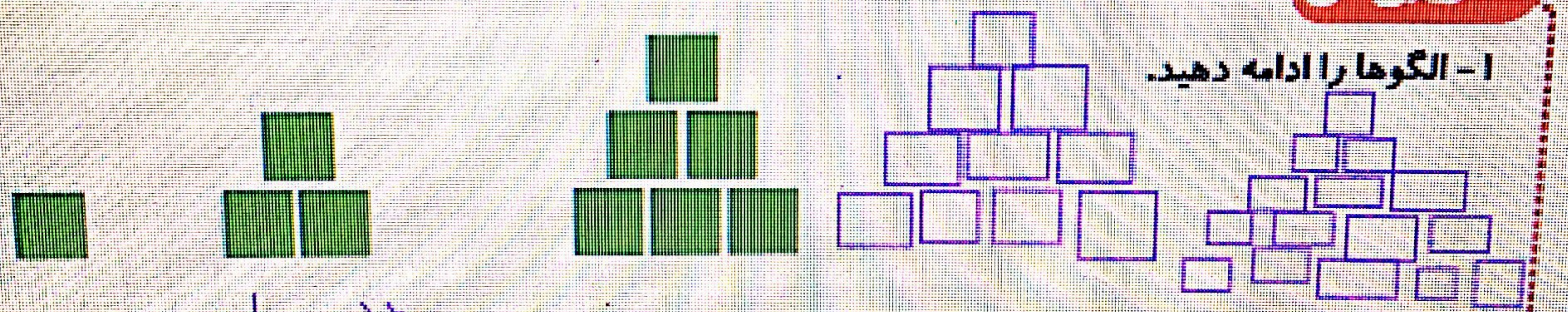
970-907-709-790

9	0	7
9	7	0
7	0	9
7	9	0

4 عدد

کارت صفر


الگویابی کن



۱- الگوها را ادامه دهید.

1 3 6 10

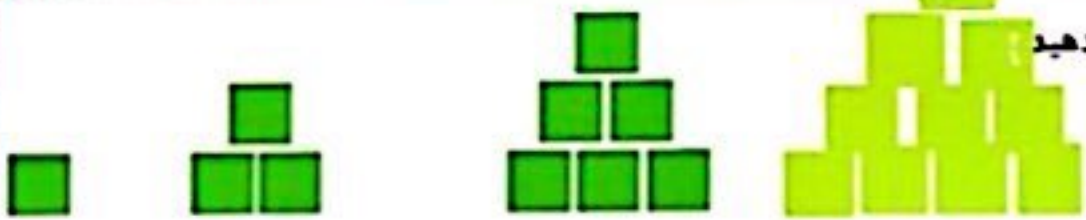
۲- هر شکل از چند کاشی مربع درست شده است؟ الگوی آن را ادامه دهید.



1 4




۱- الگوها را ادامه دهید



۱ - ۳ - ۶ - ۱۰ - ۱۵ - ۲۱

۲- هر شکل از چند کاشی مربع شکل درست شده است؟ الگوی آن را ادامه دهید



۱ - ۴ - ۹ - ۱۶