

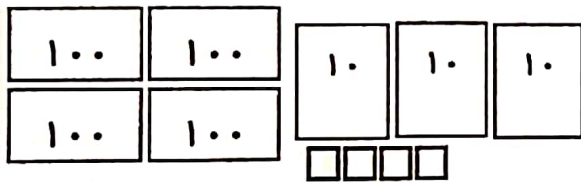
۱۱- پاسخ کوتاه دهید.

- (۱) ۲۰ دقیقه بعد از ساعت ۱۱:۰۰ چه ساعتی است.
- (۲) ۱۵ دقیقه بعد از ساعت ۱۲:۳۰ چه ساعتی است.
- (۳) ۱۰ دقیقه بعد از ساعت ۴:۴۵ چه ساعتی است.

۱۲- هادی ساعت ۴:۱۵ به کتابخانه رفت. او یک ربع بعد به آنجا رسید یعنی چه ساعتی به کتابخانه رسیده؟

اگر نیم ساعت در آنجا بماند چه ساعتی به خانه بر می گردد؟

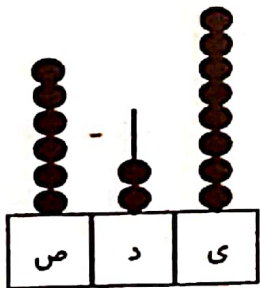
۱۳- با استفاده از شکل ها و جدول جاهای خالی را پر کنید.



ص	د	ی

عدد:

حروف:

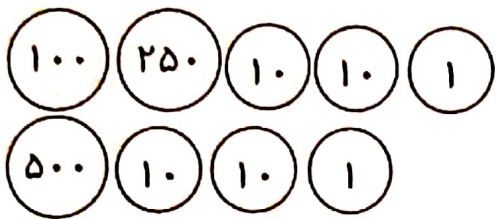


ص	د	ی

عدد:

حروف:

۱۴- مادر علی سکه های زیر را به او داده است. و گفت: بشمار به علی کمک کن تا پول هایش را بشمارند.



.....
.....

۱۵- جاهای خالی را کامل کنید.


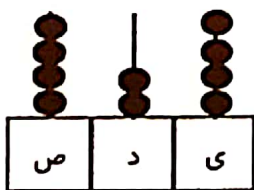
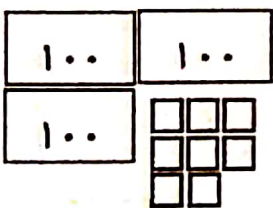
..... ده تایی ، یکی و صدتایی برابر است با ۶۵۳

..... ۶ یکی ، ۵ صدتایی ، ۴ ده تایی برابر است با

..... صدتایی و ۴ یکی و ده تایی برابر است با ۷۵۴

..... یکی ، صدتایی و ده تایی برابر است با ۹۶۰

۱۶- هر شکل را به عدد مربوط وصل کنید.



۹۲۸

۴۲۴

۳۰۸

۱۷- با سه کارت ۵ و ۶ و ۸ چند عدد سه رقمی می توان نوشت؟