

۱ - ۳۳ تا از بچه‌های کلاس سوم به استخر رفتند. ۱۵ تا تو آب پریدند. بقیه کنار استخر نشستند. چند بچه کنار استخر هست؟

۲- قبل و بعد این عددها را بنویس.

□ ۴۰۰ □

□ ۲۵۰ □

□ ۳۸۹ □

□ ۱۶۸ □ □

۳- ارزش سکه‌های هر قسمت را بنویس.

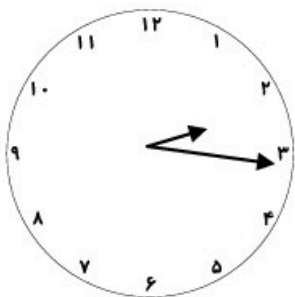


..... ریال



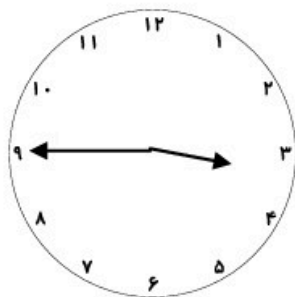
..... ریال

۳- ساعت چند است؟ به دو صورت بنویس.



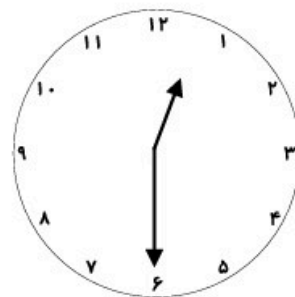
..... :

.....



..... :

.....



..... :

.....

۱- به اندازه‌ی هر عدد داده شده، سگه بکش.

ریال ۳۵۲

ریال ۴۷۶

ریال ۱۷۹

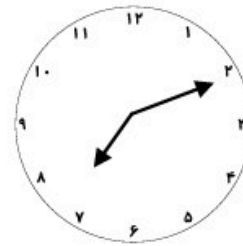
ریال ۵۸۷

۲- ساعت‌های زیر را کامل کن و عقربه‌های آن را بکش.



..... :

ساعت و دقیقه

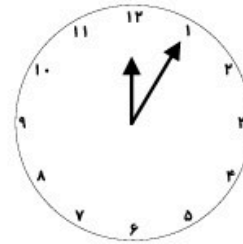


نیم ساعت بعد از ۷:۱۰



..... :

ساعت و دقیقه



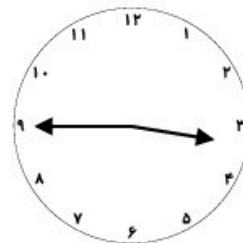
یک ربع بعد از ساعت

۱۲ و ۵ دقیقه



..... :

ساعت و دقیقه



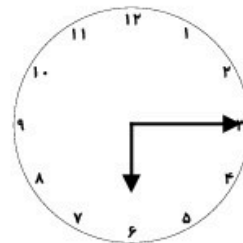
یک ربع بعد از ساعت

۳:۴۵



..... :

ساعت و دقیقه



نیم ساعت بعد از ساعت

۶:۱۵