



تاریخ:

کلاس:

به نام خدا

پیش دبستان و دبستان علوی

دوره ای درس ریاضی (فصل یک)

علوی

نام و نام خانوادگی:

نام آموزگار:



۱- الگوهای زیر را ادامه دهید.

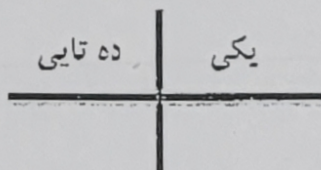

۲ - ۴ - ۶ - - - -

۳ - ۶ - ۹ - - - -

۱۰ - ۲۰ - ۳۰ - - - -

۵ - ۱۰ - ۱۵ - - - -

۲- دسته های ده تایی جدا کن و جاهای خالی را پر کن.

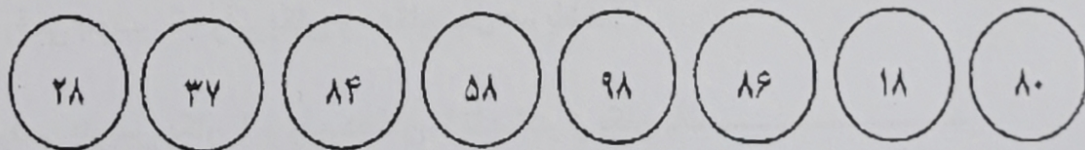


به عدد:

به حروف:

۳- با رقم های ۸ و ۹ اعداد دو رقمی بنویس.

۴- عدد های که رقم یکان آن مثل هم می باشد را با رنگ قرمز رنگ کن.



۵- حاصل جمع و تفریق های زیر را بنویس.

$۲ + ۱۰ + ۵ + ۵ + ۱۰ + ۲۰ = \dots\dots\dots$

$۵ + ۵ + ۶ = \dots\dots\dots$

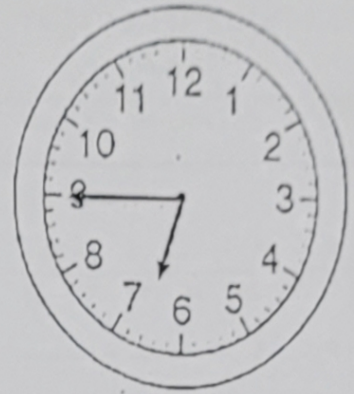
$۱۰ + ۱۰ + ۵ + ۵ = \dots\dots\dots$

$۴۰ - ۲۰ = \dots\dots\dots$

$۱۸ - ۹ = \dots\dots\dots$

۶- با کارت های ۵ و ۳ چند عدد دو رقمی می توان نوشت آن ها را بنویس.

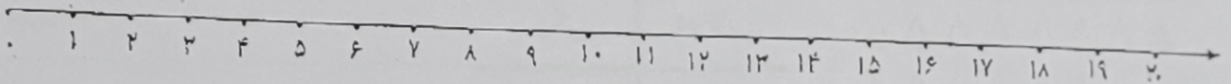
۷- با توجه به ساعت جاهای خالی را کامل کن.



ساعت از گذشته است.

ساعت به مانده است.

۸- سینا ۱۲ سال دارد ۷ سال بعد او چند ساله می شود (با کشیدن روی محور جواب را به دست آور؟)



۹- کامل کنید.

عدد دو رقمی بنویس که رقم یکان ۶ و رقم دهگان آن ۳ باشد.....

عدد دو رقمی بنویس که رقم دهگان ۸ و رقم یکان ۵ تا کمتر از دهگان باشد.....

عدد دو رقمی بنویس که رقم یکان و دهگان مثل هم باشد.

عدد دورقمی بنویس یکان ۶ و رقم دهگان ۳ تا بیشتر از یکان باشد.....

۱۰- در شمارش ۸ تا ۸ تا بعد از ۳۲ را بنویس.....

در شمارش ۵ تا ۵ تا، عدد قبل از ۳۰ را بنویس.....

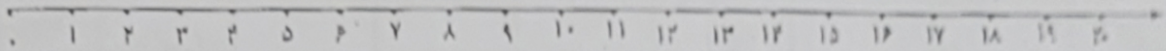
۱۱- حاصل جمع های زیر را با رسم چوب خط پیدا کن.

$9 + 7 = \dots\dots\dots$

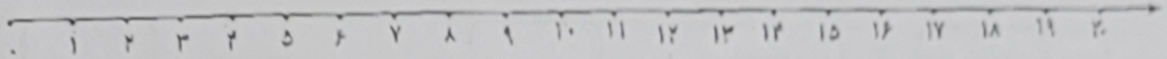
$6 + 5 = \dots\dots\dots$

$5+2+3=$

۱۲- جمع و تفریق های زیر را روی محور نشان بده.



$16-9=$



۱۳- در جاهای خالی عدد مناسب بنویس.

$7+\bigcirc=9$

$\bigcirc+6=16$

$4+\bigcirc=14$

$20-5=\bigcirc$

$8-\bigcirc=4$

$30-20=\bigcirc$

۱۴- حروف زیر را ادامه بده.

چهل و شش، چهل و هفت،

هشتاد و یک، هشتاد و دو،



پسر کلمه موفق باشی ...