

نام و نام خانوادگی:

آموزگار: خانم کاشانی

موضوع:

پایه:

تاریخ:

هدف:



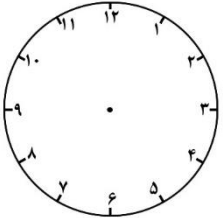
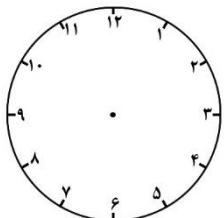
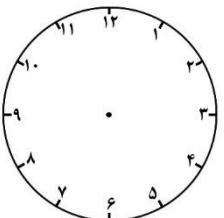
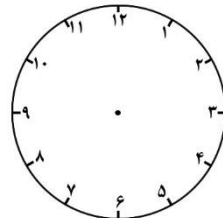
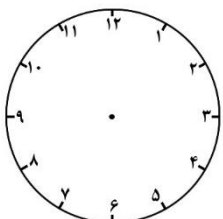
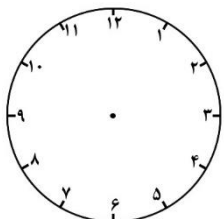
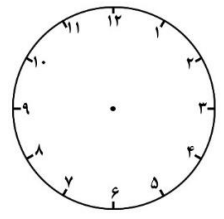
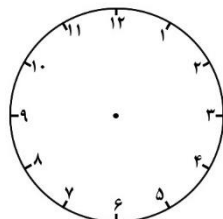
۱- با سه کارت که روی آنها رقم‌های ۸ ، ۵ و ۳ نوشته شده است ، تمام عددهای سه رقمی را که می‌توان درست کرد را بنویسید. کوچکترین و بزرگترین عدد را مشخص کن.

\* کوچکترین عدد به دست آمده کدام است؟ .....

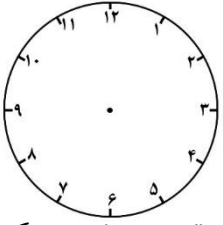
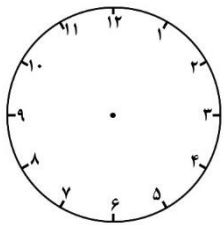
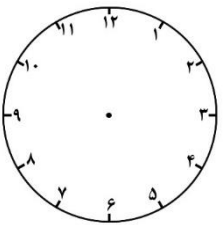
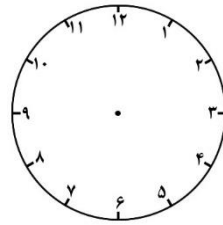
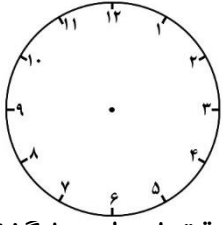
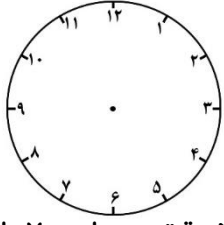
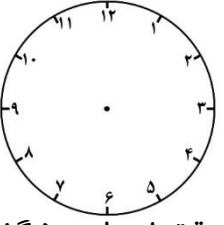
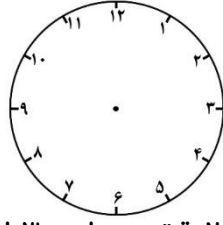
\* بزرگترین عدد به دست آمده کدام است؟ .....

\* از بین عددهای به دست آمده ، عددهایی را بنویسید که صدگان آنها کمتر از یکان آنها باشد؟

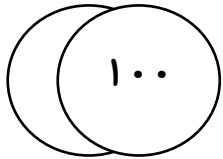
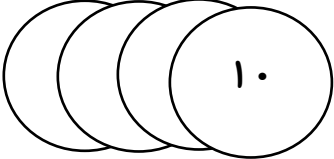
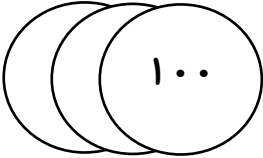
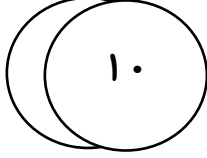

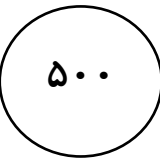

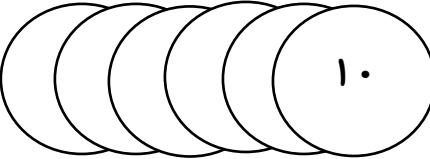
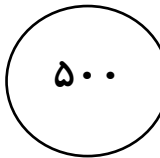
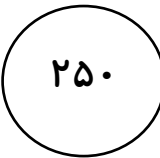
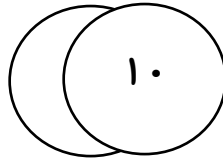
۲- زمان‌های خواسته شده را نشان بدهید.

 <p>یک ربع از ساعت ۹ گذشته ساعت ..... است.</p>	 <p>یک ربع به ساعت ۵ مانده ساعت ..... است.</p>	 <p>ده دقیقه از ساعت ۷ گذشته ساعت ..... است.</p>	 <p>نیم ساعت به ساعت ۴ مانده ساعت ..... است.</p>
 <p>یک ربع از ساعت ۵ گذشته ساعت ..... است.</p>	 <p>یک ربع به ساعت ۳ مانده ساعت ..... است.</p>	 <p>نیم ساعت از ۱ گذشته ساعت ..... است.</p>	 <p>۲۰ دقیقه به ۸ مانده ساعت ..... است.</p>



 <p>۱۰ دقیقه از ساعت ۵ گذشته ساعت ..... است.</p>	 <p>۱۰ دقیقه به ساعت ۱۱ مانده ساعت ..... است.</p>	 <p>۲۰ دقیقه از ساعت ۳ گذشته ساعت ..... است.</p>	 <p>۲۰ دقیقه به ساعت ۱۰ مانده ساعت ..... است.</p>
 <p>۵ دقیقه از ساعت ۸ گذشته ساعت ..... است.</p>	 <p>۵ دقیقه به ساعت ۷ مانده ساعت ..... است.</p>	 <p>۱۵ دقیقه از ساعت ۵ گذشته ساعت ..... است.</p>	 <p>۲۰ دقیقه به ساعت ۳ مانده ساعت ..... است.</p>

۳- مقدار پول را در هر قسمت به دست آورید.

 	ریال .....
  	ریال .....
  	ریال .....
  	ریال .....

