



به نام خداوند بخشنده و مهربان

ارزشیابی

۷. پس از رسم عقربه‌های ساعت شماره (۲)، زمان‌هایی که ساعت‌ها نشان می‌دهند را زیر آن‌ها بنویس.



..... :

(۱)



..... :

(۱)

یک ربع بعد



..... :

(۲)

یک ربع قبل



..... :

(۲)

۷. پس از رسم عقربه‌های ساعت شماره (۲)، زمان‌هایی که ساعت‌ها نشان می‌دهند را زیر آن‌ها بنویس.



۱۲ : ۴۵

(۱)

یک ربع بعد



۱ : ۰۰

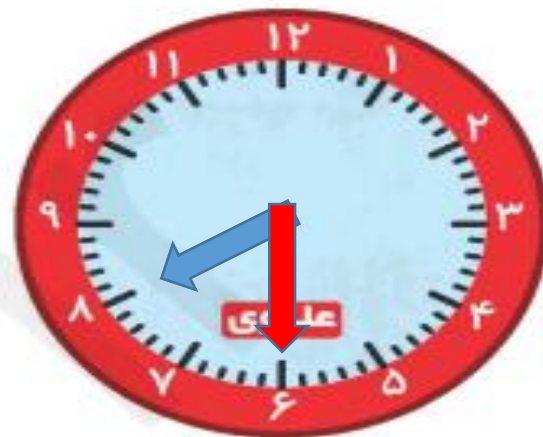
(۲)



۸ : ۴۵

(۱)

یک ربع قبل



۸ : ۳۰

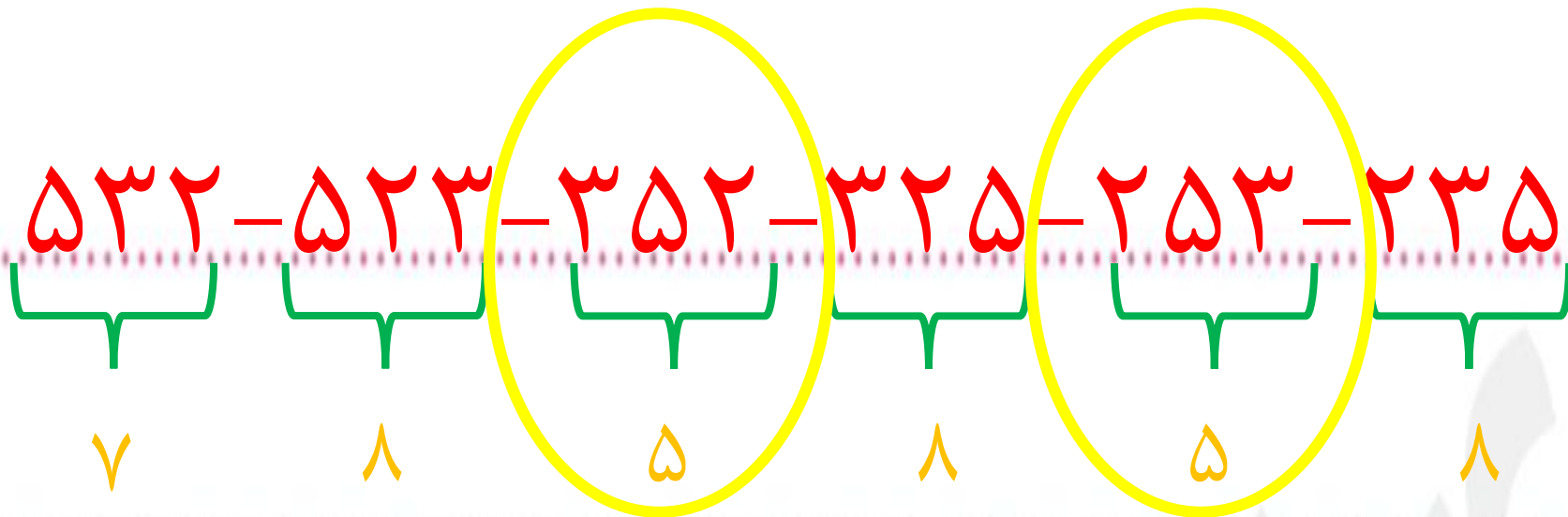
(۲)

۱۰. با رقم‌های ۵، ۲ و ۳ همه عددهای سه‌رقمی را بنویس که جمع یکان و صدگان برابر با دهگان باشد.


(به روش حذف حالت‌های نامطلوب)

۱۰. با رقم‌های ۲، ۳ و ۵ همه عددهای سه رقمی را بنویس که جمع یکان و صدگان برابر با دهگان باشد.

(به روش حذف حالت‌های نامطلوب)



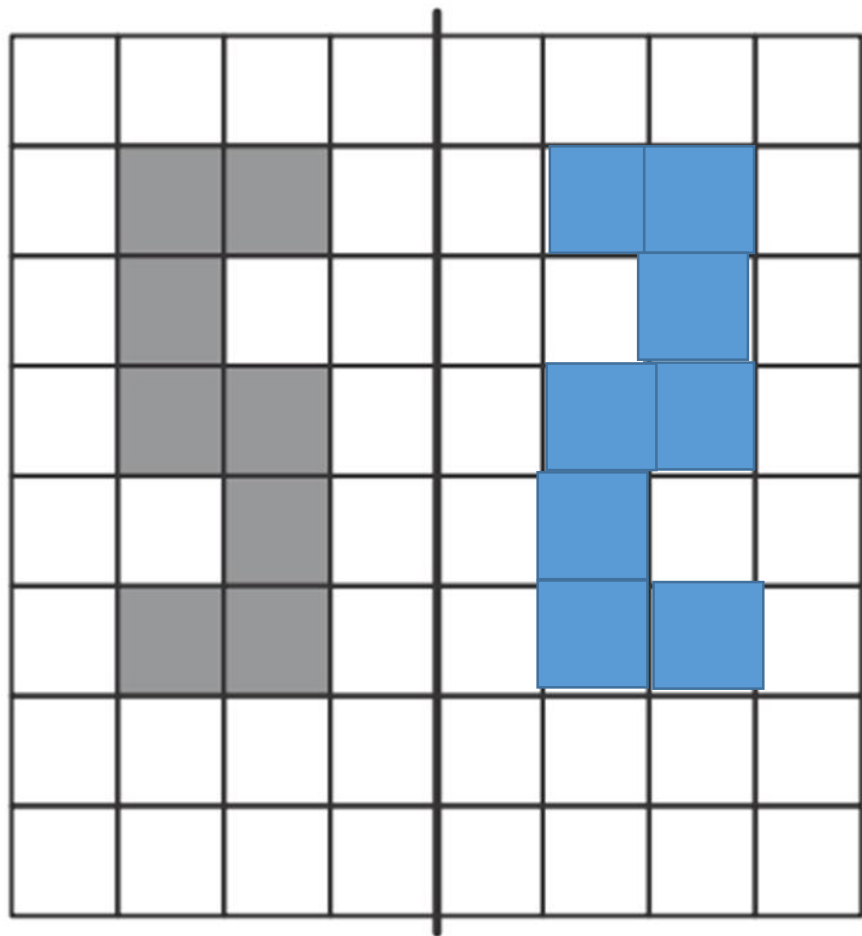
الف) با استفاده از خط تقارن نیمه‌ی دیگر شکل را کامل کن.



ب) کدام عدد دو رقمی ساخته شده است؟ آن را در جای خالی بنویس.

به عدد:

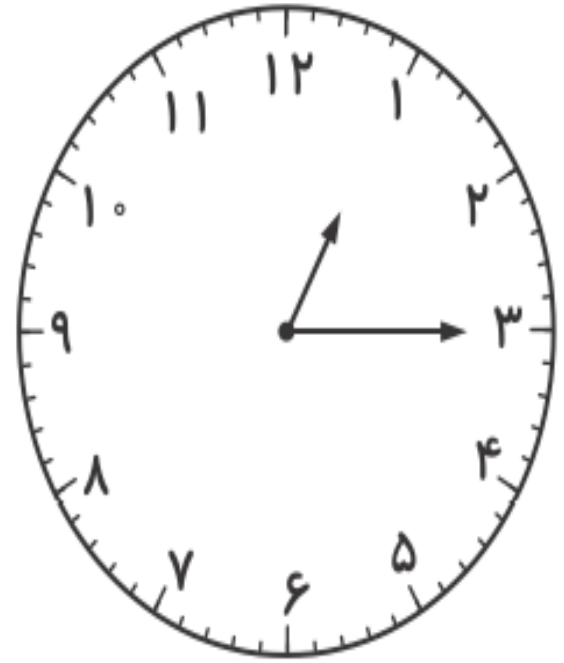
الف) با استفاده از خط تقارن نیمه‌ی دیگر شکل را کامل کن.



ب) کدام عدد دو رقمی ساخته شده است؟ آن را در جای خالی بنویس.

به عدد: **52**

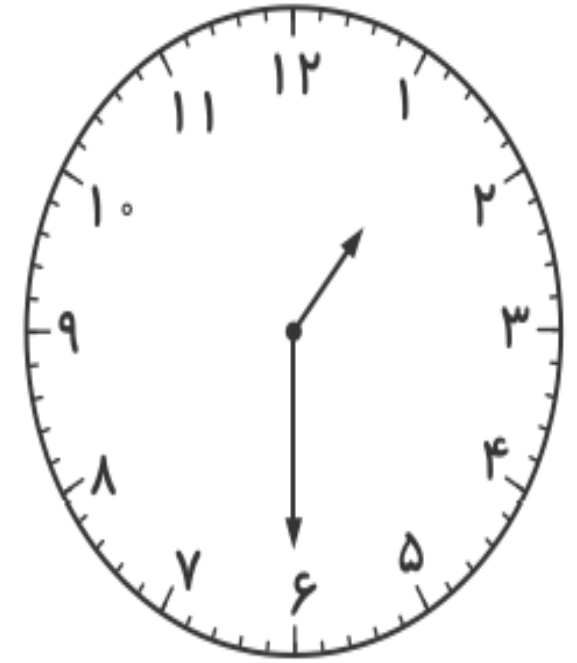
هر ساعت را به زمان مربوط به آن وصل کن.



دوازده و نیم


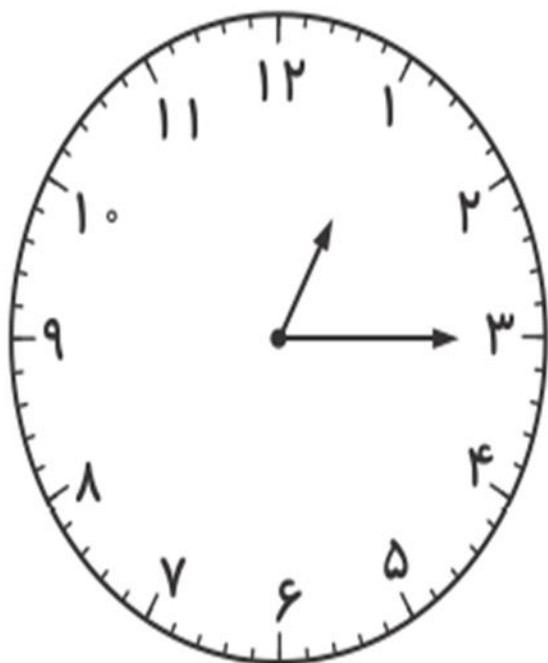


یک و ربع




نیم ساعت مانده به ۲

هر ساعت را به زمان مربوط به آن وصل کن.




دوازده و نیم



یک و ربع



نیم ساعت مانده به ۲



همه‌ی عددهای دو رقمی که رقم یکانشان ۲ یا ۱ و رقم دهگانشان ۴ یا ۸ باشد را بنویس.

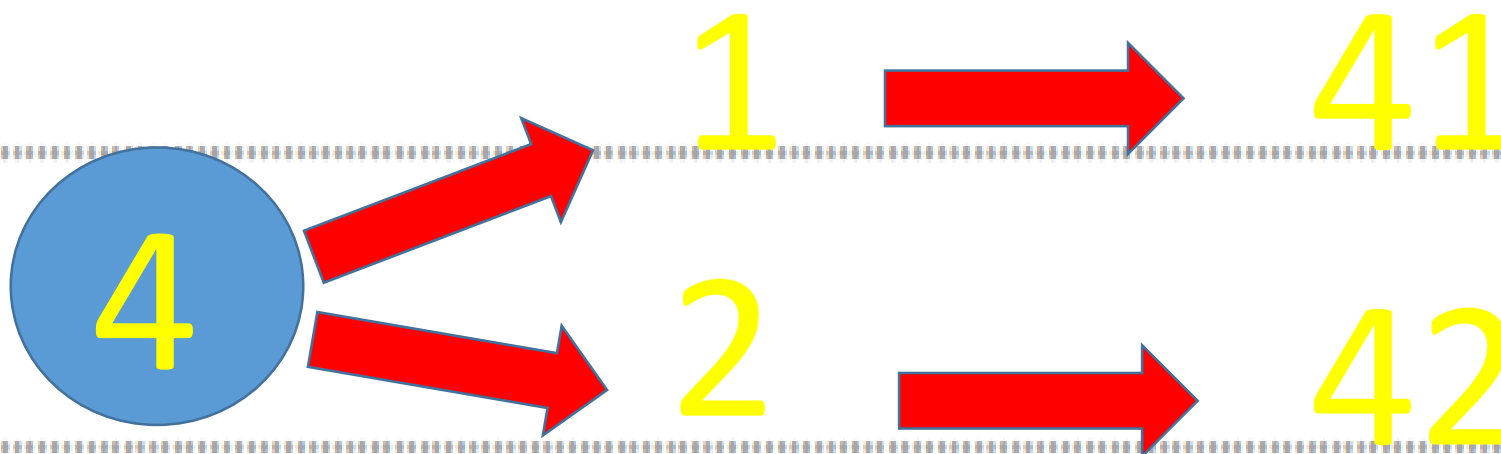
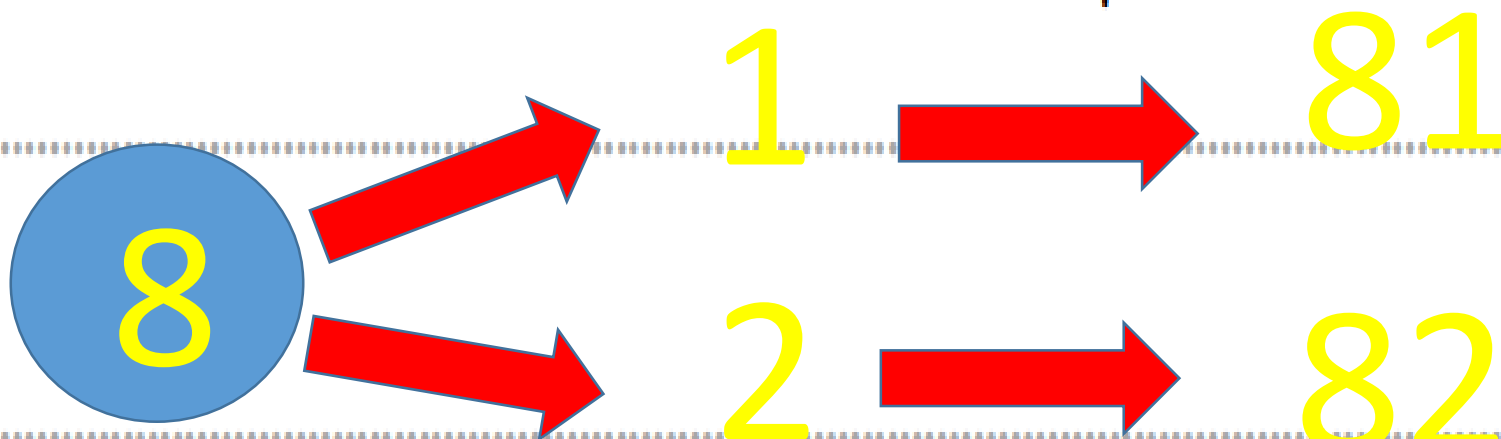
.....

.....

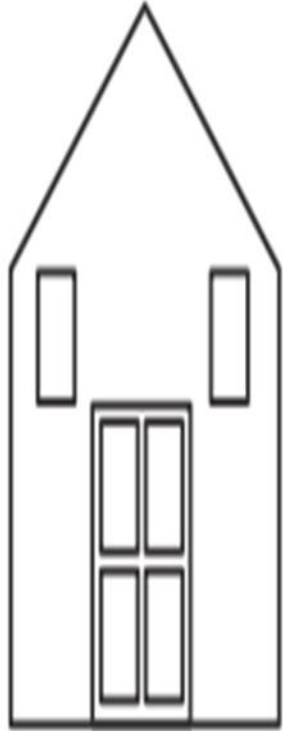
.....

.....

همه‌ی عددهای دو رقمی که رقم یگان‌شان ۲ یا ۱ و رقم دهگان‌شان ۴ یا ۸ باشد را بنویس.



کدام شکل دو خط تقارن دارد؟ خط‌های تقارن آن را رسم کن.



(۱)



(۲)

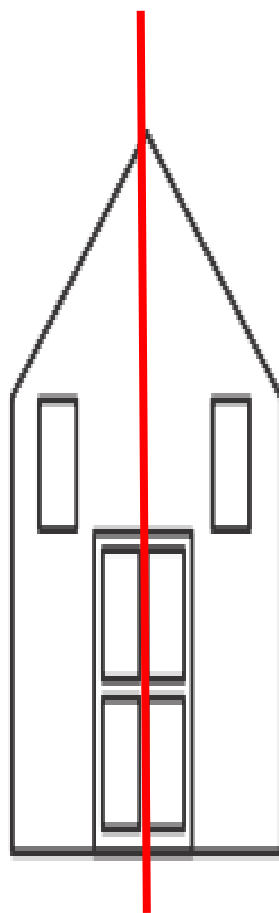


(۳)

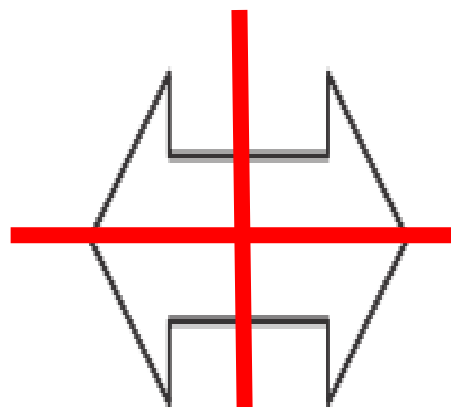


(۴)

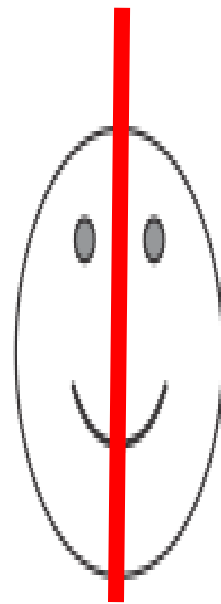
کدام شکل دو خط تقارن دارد؟ خط‌های تقارن آن را رسم کن.



(۱)



(۲)



(۳)



(۴)

۸. حاصل جمع و تفریق‌ها را با استفاده از جدول اعداد زیر بنویس و روی جدول نشان بده.

۹۱	۹۲	۹۳	۹۴	۹۵	۹۶	۹۷	۹۸	۹۹	۱۰۰
۱۰۱	۱۰۲	۱۰۳	۱۰۴	۱۰۵	۱۰۶	۱۰۷	۱۰۸	۱۰۹	۱۱۰
۱۱۱	۱۱۲	۱۱۳	۱۱۴	۱۱۵	۱۱۶	۱۱۷	۱۱۸	۱۱۹	۱۲۰
۱۲۱	۱۲۲	۱۲۳	۱۲۴	۱۲۵	۱۲۶	۱۲۷	۱۲	۱۲۹	۱۳۰

$$\begin{array}{r} ۱۰۳ \\ - ۶ \\ \hline \end{array}$$

$$\begin{array}{r} ۱۱۴ \\ + ۹ \\ \hline \end{array}$$

$$\begin{array}{r} ۱۰۸ \\ - ۸ \\ \hline \end{array}$$

۸. حاصل جمع و تفریق‌ها را با استفاده از جدول اعداد زیر بنویس و روی جدول نشان بده.

۹۱	۹۲	۹۳	۹۴	۹۵	۹۶	۹۷	۹۸	۹۹	۱۰۰
۱۰۱	۱۰۲	۱۰۳	۱۰۴	۱۰۵	۱۰۶	۱۰۷	۱۰۸	۱۰۹	۱۱۰
۱۱۱	۱۱۲	۱۱۳	۱۱۴	۱۱۵	۱۱۶	۱۱۷	۱۱۸	۱۱۹	۱۲۰
۱۲۱	۱۲۲	۱۲۳	۱۲۴	۱۲۵	۱۲۶	۱۲۷	۱۲۸	۱۲۹	۱۳۰

$$\begin{array}{r} 103 \\ - 6 \\ \hline 97 \end{array}$$

$$\begin{array}{r} 114 \\ + 9 \\ \hline 123 \end{array}$$

$$\begin{array}{r} 108 \\ - 8 \\ \hline 100 \end{array}$$