

مرور فصل اول تا چهارم

۱. با کارت های ۶ و ۸ و ۲ چند عدد سه رقمی میتوان نوشت؟
الف. بزرگترین و کوچک ترین عدد کدام است؟ اعداد را از بزرگ به کوچک مرتب کنید.
ب. در کدام عدد صدگان حاصل اختلاف یکان و دهگان است؟
ج. عددی که جمع یکان و صدگان برابر با دهگان است، کدام است؟

۲. جاهای خالی را با عبارت مناسب پر کنید.

- الف. دقیقه یک ربع گفته می شود.
ب. هشت و چهل دقیقه یعنی مانده به
ج. نیم ساعت بعد از ساعت ۳ و نیم، ساعت است.
د. سه سکه صد ریالی و چهار سکه ده ریالیو یک سکه ۲۵۰ ریالی برابر است با
ر. سه ده تایی و هفت یکی برابر است با
م. ۷۸۹ یعنی صد تایی و یکی و ده تایی.
ز. در الگوی ده تا ده تا عدد بعد از ۳۴۵ عدد است.
ن. بزرگترین عدد سه رقمی عدد و کوچک ترین عدد سه رقمی است.
خ. عدد ۳۴ به نزدیک است.

۲. عددی که یکان آن چهار تا از دهگان عدد ۶۷۹ کمتر و صدگان آن برابر با یکان عدد ۸۵۴ و دهگان آن از دهگان بزرگترین عدد سه رقمی شش تا کمتر است. عدد را پیدا و سپس برای آن شکل کشیده و در جدول ارزش مکانی قرار بده باهوشم.

۳. حاصل جمع های زیر را حساب کنید.

$$۲۰+۳۰+۲۳+۵+۵+۵=$$

$$۳۰۰+۵۰۰+۱۰۰=$$

$$۲۳+۱۵+۵+۱۰+۵+۱۵=$$

$$۵۰+۵۰+۵۰+۱۰۰+۳۰۰=$$

۴. تمام جمع هایی که حاصل آن ۸ می شود را بنویسید.

۵. الگو های زیر را ادامه دهید.

۱۲-۱۴-۱۶-.....-.....-.....-.....-.....

۱۲۷-۱۳۰-۱۳۳-.....-.....-.....-.....-.....

۸۰-۹۰-.....-.....-.....-.....-.....



۱-۳-۵-.....

۳-۵-۷-.....

۴-۹-۱۶-.....

۳:۳۰-۴:۴۰-.....

۱۲:۱۵-۱۲:۳۰-.....

۱-۲-۴-.....

۶. احسان برای روز مادر تصمیم گرفت گل بخرد. یک دسته گل با گل های یاس، نرگس و رز خرید. اگر قیمت گل رز ۵۵ ریال، گل یاس صد ریال و گل نرگس ۷۸ ریال باشد :

الف. اختلاف گل نرگس و گل رز چند ریال است؟ از روش فرآیندی محاسبه کنید.

ب. به صورت تقریبی برای گل نرگس و رز چند ریال پرداخت کرده است؟

د. احسان چند ریال برای دسته گل پرداخت کرد؟

۷. با توجه به ساعت پاسخ دهید.



الف. نیم ساعت بعد ساعت چند است؟

ب. یک ربع قبل ساعت چند بوده است؟

د. یک ساعت و ۴۰ دقیقه بعد ساعت چند است؟

۸. با رقم و حروف بنویسید.

سیصدونود و شش

یکصد و بیست و یک

نهدوسی و هفت

۶۴۳

۷۸۹

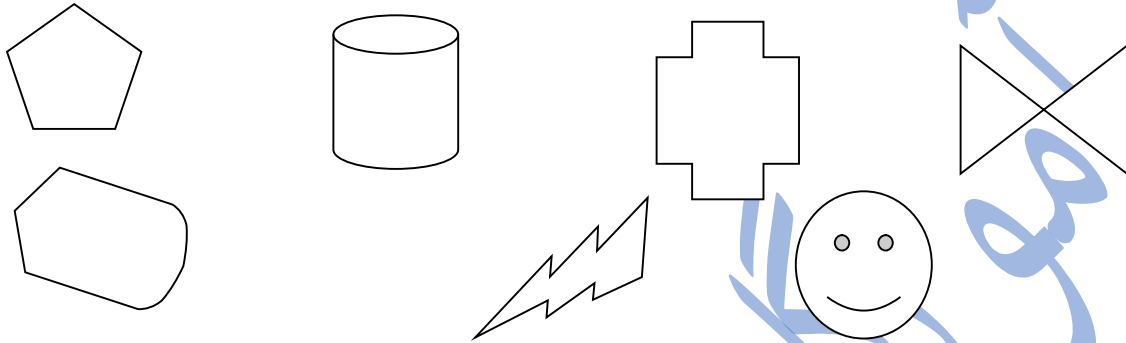
۹. آقای کشاورز ساعت ۴ و نیم برای آبیاری به باغ رفت. کار او ۳۰ دقیقه طول کشید. یک ربع بعد به سمت خانه به راه افتاد و ساعت ۵:۳۵ به خانه رسید.

الف. چه ساعتی کار او تمام شد؟

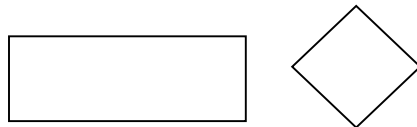
ب. چه ساعتی به سمت خانه به راه افتاد؟

د. از باغ تا خانه چند دقیقه طول کشید؟

۱۰. کدام یک از شکل های زیر خط تقارن دارند؟



۱۱. تفاوت و شباهت شکل های زیر را بنویسید.



تفاوت.....

شباهت.....

۱۲. اگر سام ۷۰ ریال به بانک بدهد چند سکه ده ریالی می تواند بگیرد؟

ب. اگر حمید ۴۰۰ سکه به بانک بدهد چند سکه ده ریالی و چند سکه یک ریالی از بانک می گیرد؟

ج. اگر رضا ۱۰ سکه ۱۰ ریالی به بانک بدهد یک سکه ی چند ریالی خواهد گرفت؟

۱۳. مقدار پول را حساب کنید.




.....



.....



.....



.....

۱۴. رقم صدگان کدام یک از اعداد زیر حاصل جمع یکان و دهگان است؟

۱۲۳

۵۶۷

۸۹۰

۶۴۲

۱۵. نوید چهار سکه صد ریالی و هشت سکه ده ریالی و نه سکه یک ریالی خود را در قلک انداخت. پدر بزرگ نوید برای سال جدید به او دو سکه پنجاه ریالی و یک ۲۵۰ ریالی و سه ده ریالی به نوید عیدی داد نوید هم آن را در قلک انداخت اکنون نوید چند ریال پس انداز کرده است؟

با آرزوی
موفقیت