



فصل ۵

## اندازه گیری



آیا می‌دانید؟ پزشکان با اندازه‌گیری قد و وزن نوزادان از هنگام تولد، مراحل رشد آن‌ها را زیر نظر می‌گیرند.

به نام خداوند بخشنده و مهربان


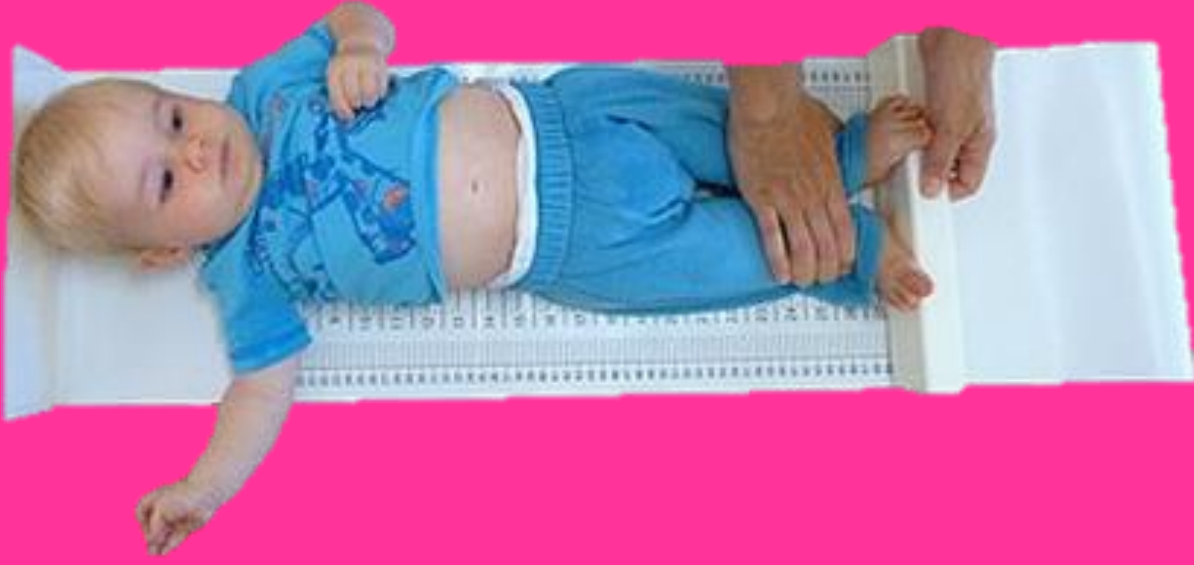
فصل پنجم صفحه ی ۷۴


آموزگار: خانم خاکسار

دبستان و پیش دبستان علوی









## اندازه گیری طول



۱- هر شکل با یک واحد اندازه گیری شده است. اندازه ی طول آن شکل را با کامل کردن جاهای خالی نشان دهید.

طول مداد بین ..... گیره و ..... گیره است.  
یعنی از ..... گیره بیشتر است ولی به ..... گیره نمی رسد.



فعالیت



## اندازه گیری طول




۱- هر شکل با یک واحد اندازه گیری شده است. اندازه ی طول آن شکل را با کامل کردن جاهای خالی نشان دهید.

طول مداد بین ..... ۵ ..... گیره و ..... ۶ ..... گیره است.  
یعنی از ..... ۵ ..... گیره بیشتر است ولی به ..... ۶ ..... گیره نمی رسد.




فعالیت

طول شانه بین ..... پاک کن و ..... پاک کن است.  
یعنی از ..... پاک کن بیشتر است ولی به ..... پاک کن نمی رسد.

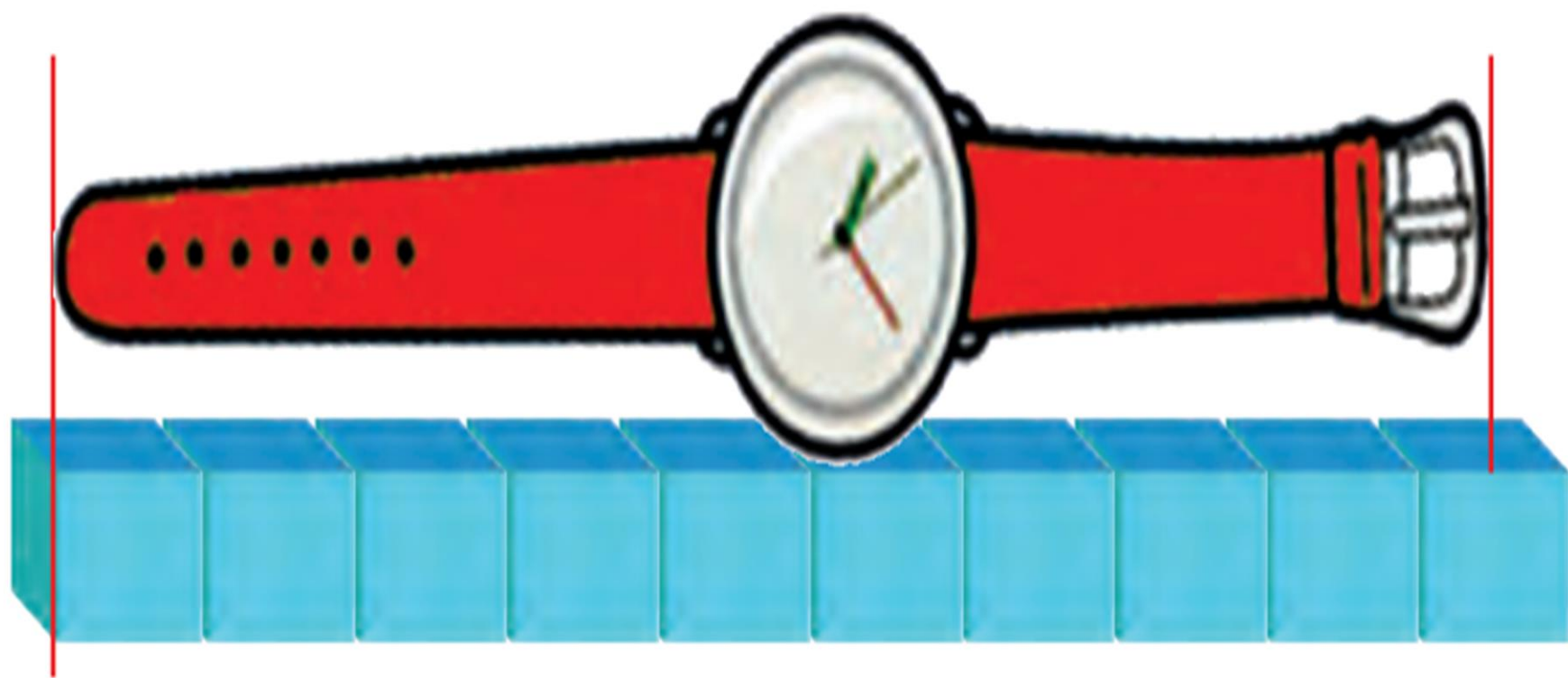


طول شانه بین ..... ۵ ..... پاک کن و ..... ۶ ..... پاک کن است.  
یعنی از ..... ۵ ..... پاک کن بیشتر است ولی به ..... ۶ ..... پاک کن نمی رسد.

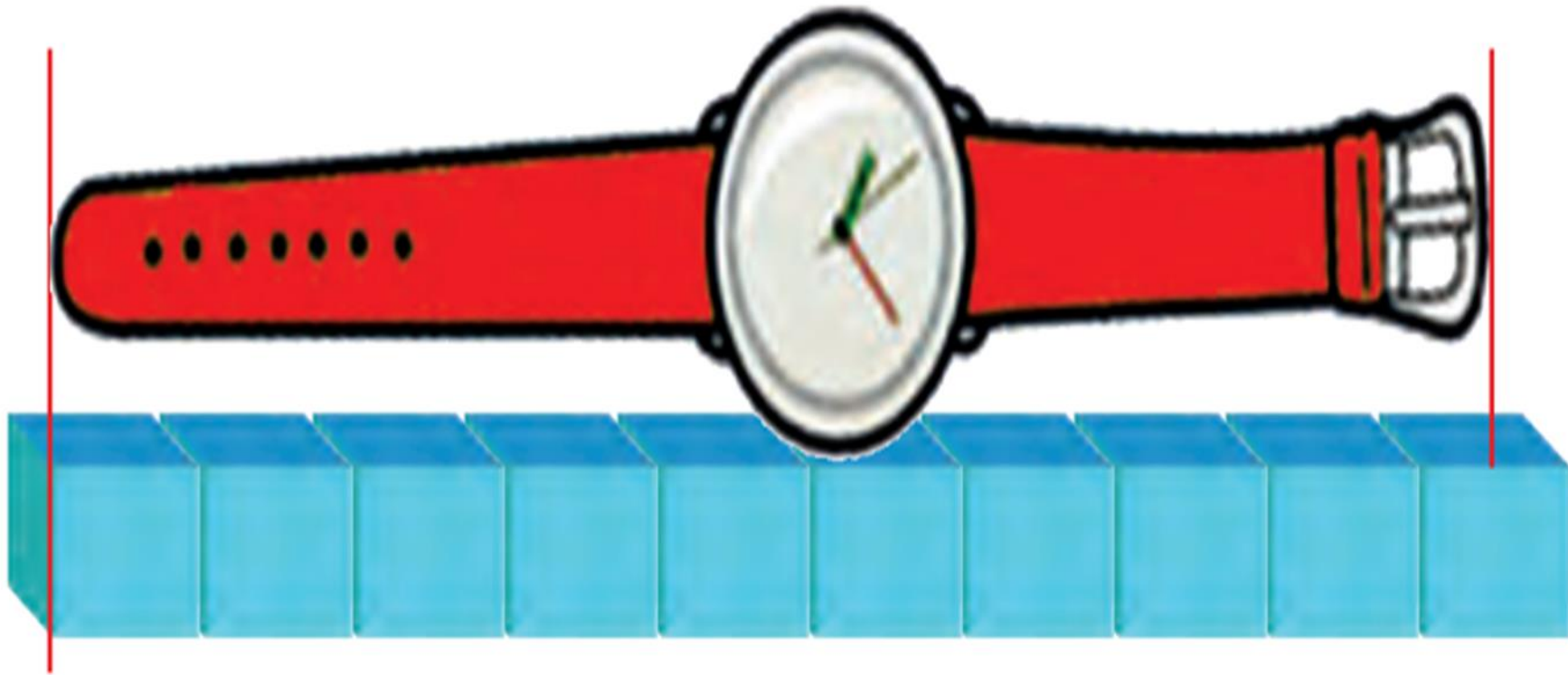




طول ساعت بین ..... چینه و ..... چینه است. یعنی از ..... چینه بیشتر است  
ولی به ..... چینه نمی‌رسد.



طول ساعت بین ۹ چینه و ۱۰ چینه است. یعنی از ۹ چینه بیشتر است ولی به ۱۰ چینه نمی‌رسد.



۲- به همین ترتیب با استفاده از تراش خود طول کتاب ریاضی را اندازه گیری کنید و بنویسید:

طول کتاب بین ..... تراش و ..... تراش است. **بر عهده ی دانش آموز**

۳- حالا با یک مداد طول میز خود را اندازه گیری کنید و بنویسید:

طول میز بین ..... مداد و ..... مداد است.

برای اندازه گیری طول های مختلف از وسایل مختلف استفاده کردیم. در مورد این که این روش اندازه گیری چه اشکالی دارد، در کلاس با دوستان خود گفت و گو کنید.