

اندازه گیری طول




۱- هر شکل با یک واحد اندازه گیری شده است. اندازه ی طول آن شکل را با کابل کردن جاهای خالی نشان دهید.

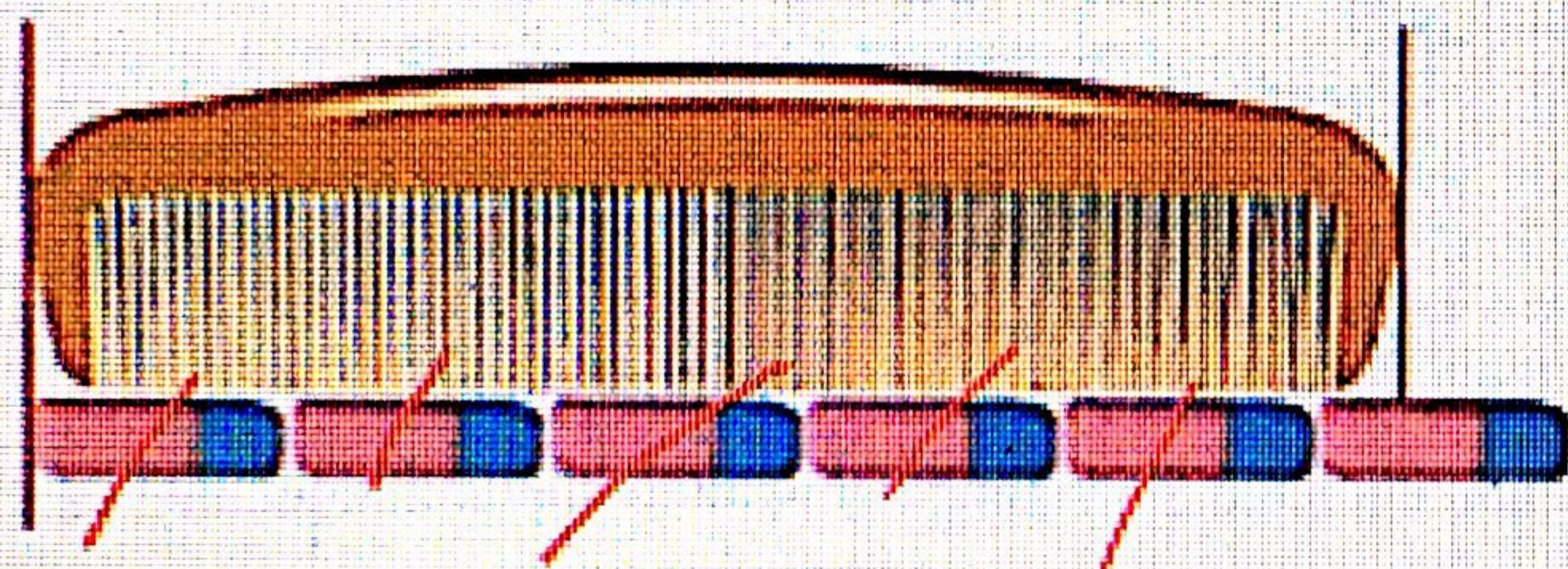
طول مداد بین 5 گیره و 6 گیره است.
یعنی از 5 گیره بیشتر است ولی به 6 گیره نمی رسد.



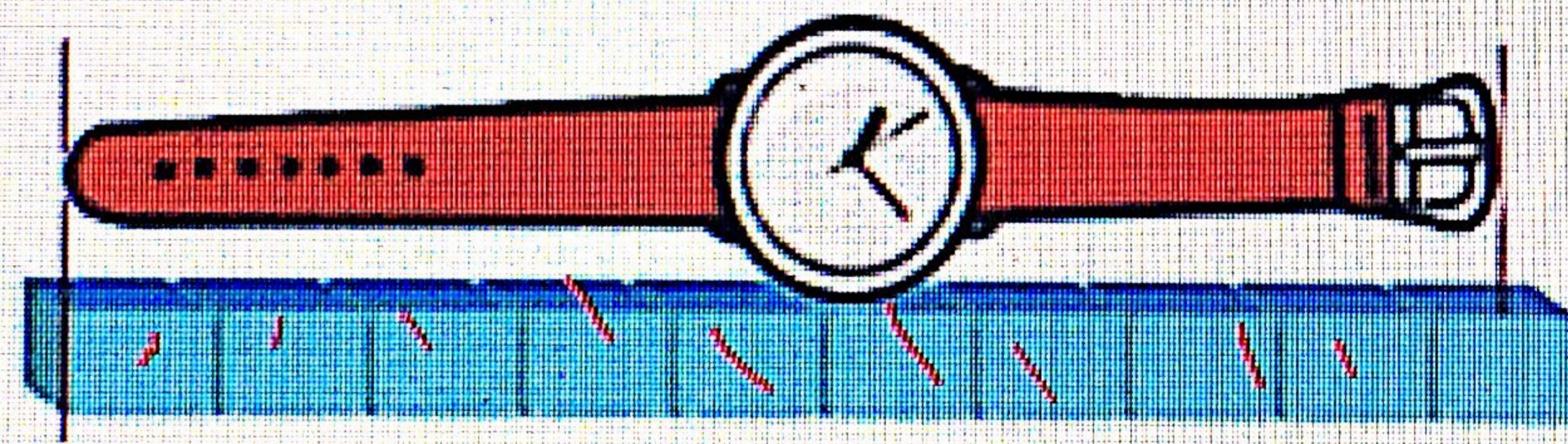
فعالیت



طول شانه بین 5 پاک کن و 6 پاک کن است.
یعنی از 5 پاک کن بیشتر است ولی به 6 پاک کن نمی رسد.



طول ساعت بین 9 چینه و 10 چینه است. یعنی از 9 چینه بیشتر است ولی به 10 چینه نمی رسد.



۲- به همین ترتیب با استفاده از تراش خود طول کتاب ریاضی را اندازه گیری کنید و بنویسید:

طول کتاب بین 9 تراش و 10 تراش است.


۳- حالا با یک مداد طول میز خود را اندازه گیری کنید و بنویسید:

طول میز بین 7 مداد و 8 مداد است.

برای اندازه گیری اجسامی که از وسایل مختلف استفاده کرده اند، هر یک را با شکل این روش اندازه گیری، در کلاس یا با دوستان خود اندازه گیری کنید.



۱- اندازه‌ی طول این مداد را که با وسایل مختلف اندازه گیری شده است، بیان کنید.



طول مداد 5 گیره است.

طول مداد 4 پاک کن است.

طول مداد 10 چینه است.

۲- چرا برای طول مداد عددهای مختلف به دست آمده است؟

چون با وسایل مختلف اندازه گیری شده است.


۳- برای این که طول این مداد فقط با یک عدد مشخص شود، چه راهی را پیشنهاد می کنید؟

وسایلی مثل خط کش و متر استفاده شود.

کامل کن

ساعت چند است؟

9:10



قسمت رنگ شده نشان می دهد که عقربه‌ی بزرگ ۳۰ دقیقه یا نیم ساعت حرکت کرده

9:40

است. حالا ساعت چند است؟

اگر عقربه‌ی بزرگ روی ۱۵ دقیقه باشد، نیم ساعت بعد کجا قرار می گیرد؟
مقدار حرکت عقربه‌ی بزرگ را با رنگ کردن نشان دهید.