

## فعالیت کلاسی



۱ اندازه‌ی طول شمع، قاشق و دژمین را با توجه به واحد اندازه‌گیری آنها بنویس.


الف: اندازه‌ی طول شمع ..... گیره است.



ب: اندازه‌ی طول قاشق از ..... گیره بیشتر و از ..... گیره کمتر است.



پ: اندازه‌ی طول دژمین از ..... گیره بیشتر و از ..... گیره کمتر است.



۲ با توجه به زمان مقابل، نیم ساعت بعد را با رنگ آمیزی مشخص کن.

حالا ساعت چند است؟ ۴:۰۰ : ۴:۰۰



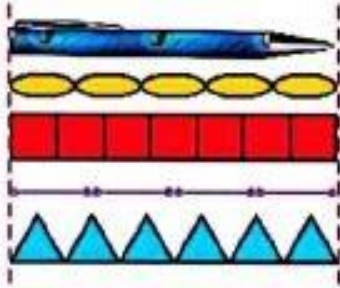
۴:۱۰

۲ برنا برای رفتن به پارک ساعت ۴:۲۰ از منزل خارج می‌شود و ۲۰ دقیقه‌ی بعد یعنی ساعت ۴:۴۰ به پارک می‌رسد.



## تمرین

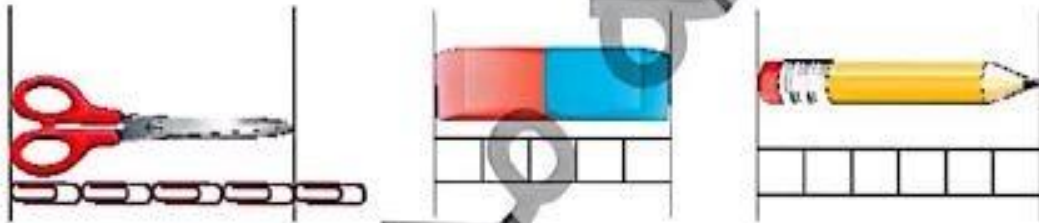
۱ با توجه به شکل، هر عبارت را به پاسخ صحیح آن وصل کن.



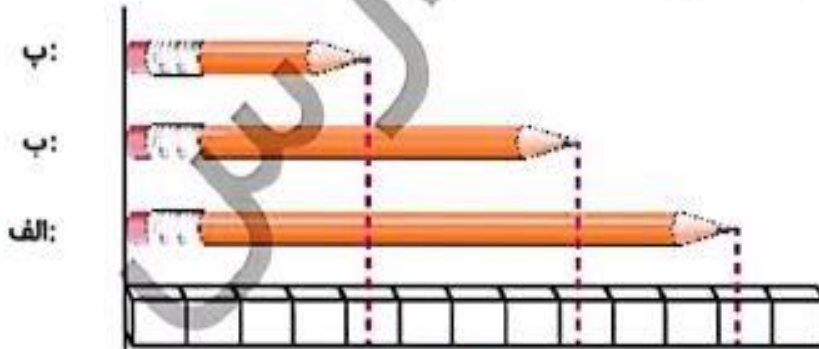
- ۷ طول خودکار ..... است.
- ۵ طول خودکار ..... است.
- ۶ طول خودکار ..... است.
- ۴ طول خودکار ..... است.

۲ درستی  و نادرستی  هر عبارت را مشخص کن.

- الف: طول پاک کن از طول مداد بیش تر است.
- ب: اندازه‌ی طول قیچی از ه گيره کمتر است.
- پ: طول مداد ۶ چینه است.



۳ با توجه به شکل جاهای خالی را کدمل کن.



- الف: طول مداد (الف) از ..... چینه بیش تر و از ..... چینه کمتر است.
- ب: طول مداد (ب) از ..... چینه بیش تر و از ..... چینه کمتر است.
- پ: طول مداد (پ) از ..... چینه بیش تر و از ..... چینه کمتر است.