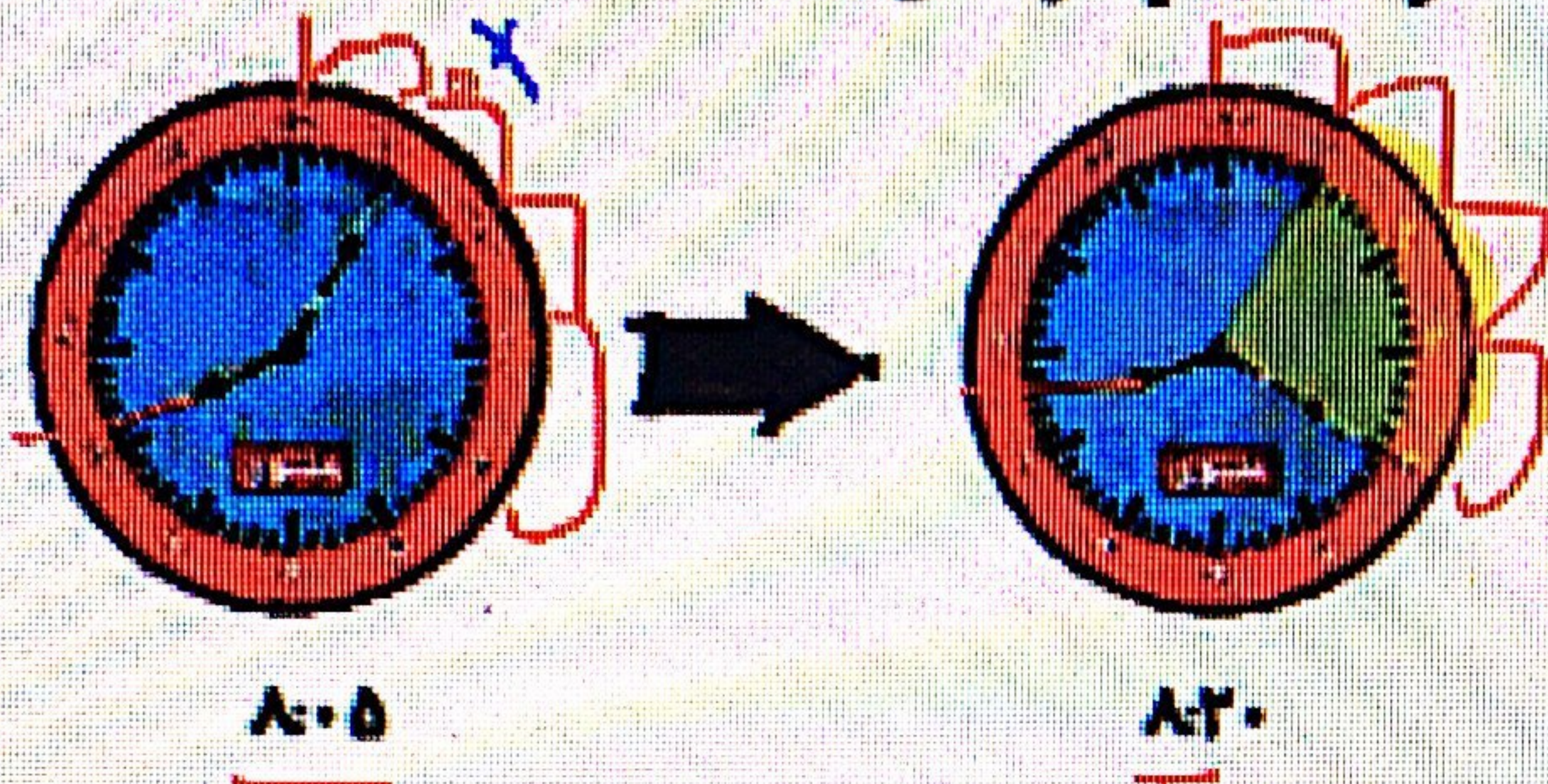
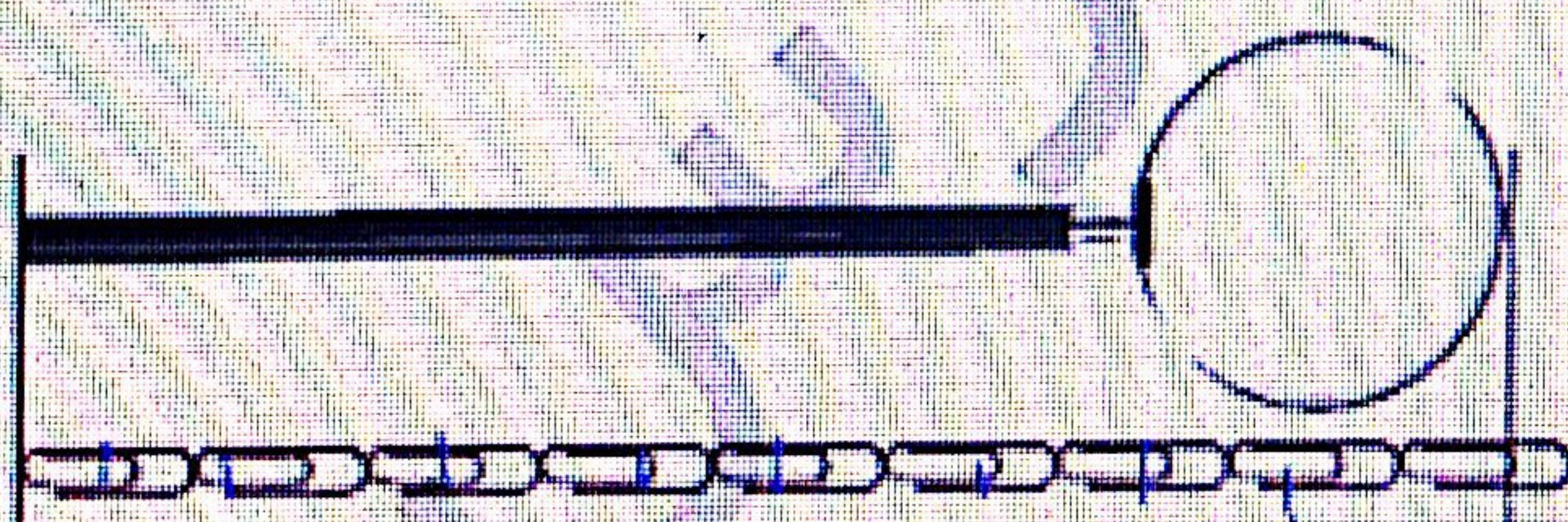



مثال: درتا پرسید ساعت ۸:۰۵ است یک ربع بعد ساعت چند می شود؟
 برتا طلق با روی ساعت گذاشت و ۸:۲۰ دقیقه را نشان داد.




تعمیرات کلاسی

۱ اندازه‌ی طول شمع، تاشق و ذره‌بین را با توجه به واحد اندازه‌گیری آن‌ها بنویس.
 الف: اندازه‌ی طول شمع گیره است.
 ب: اندازه‌ی طول تاشق از گیره بیشتر و از گیره کمتر است.



ب: اندازه‌ی طول ذره‌بین از گیره بیشتر و از گیره کمتر است.

۲ با توجه به زمان ساعت ملا، نیم ساعت بعد را با رنگ آبی مشخص کن.
 حالا ساعت چند است؟

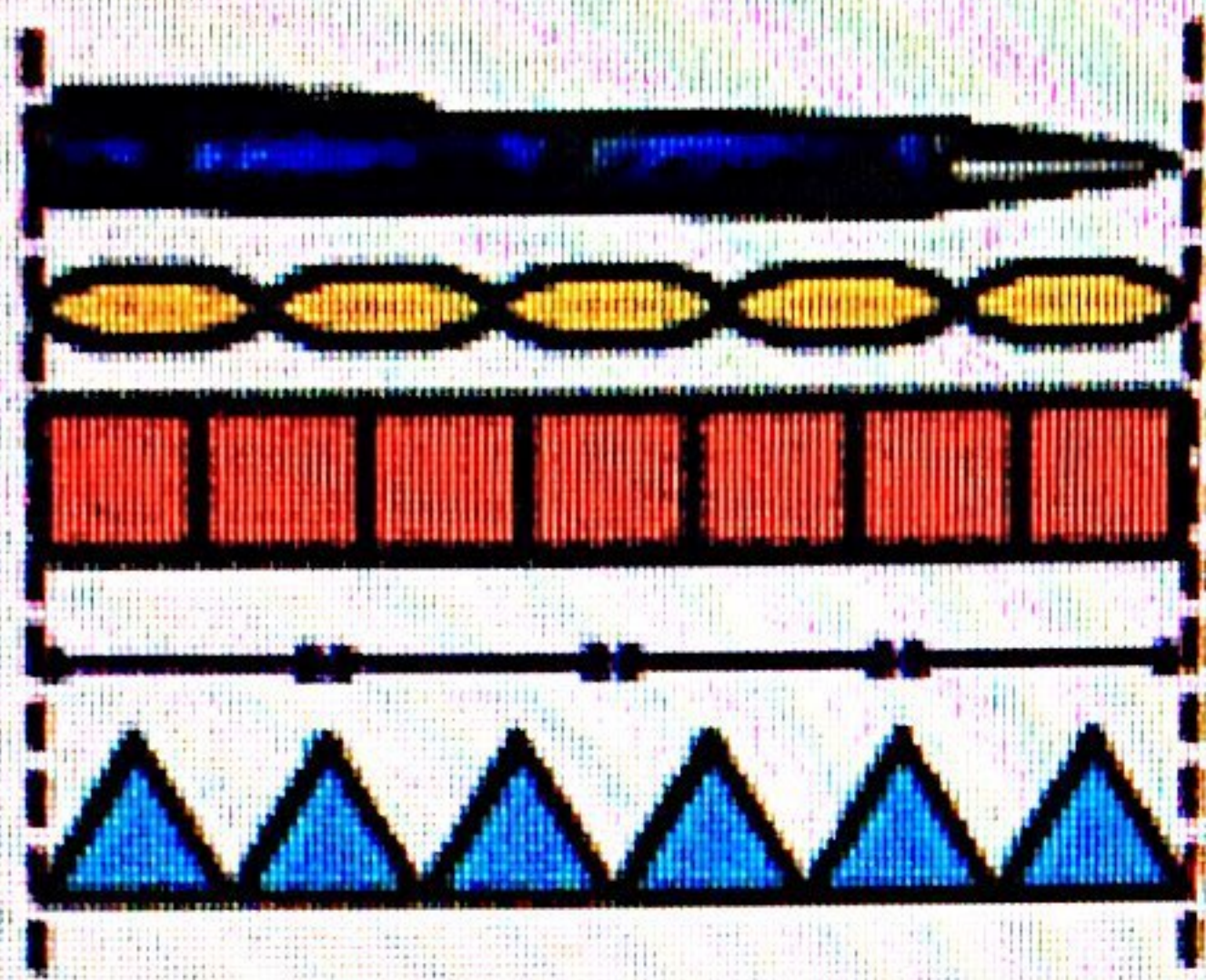


۳:۱۵

۳ برتا برای رفتن به پارک ساعت ۳:۲۰ از منزل خارج می‌شود و ۲۰ دقیقه‌ای بعد یعنی ساعت به پارک می‌رسد.

تمرین

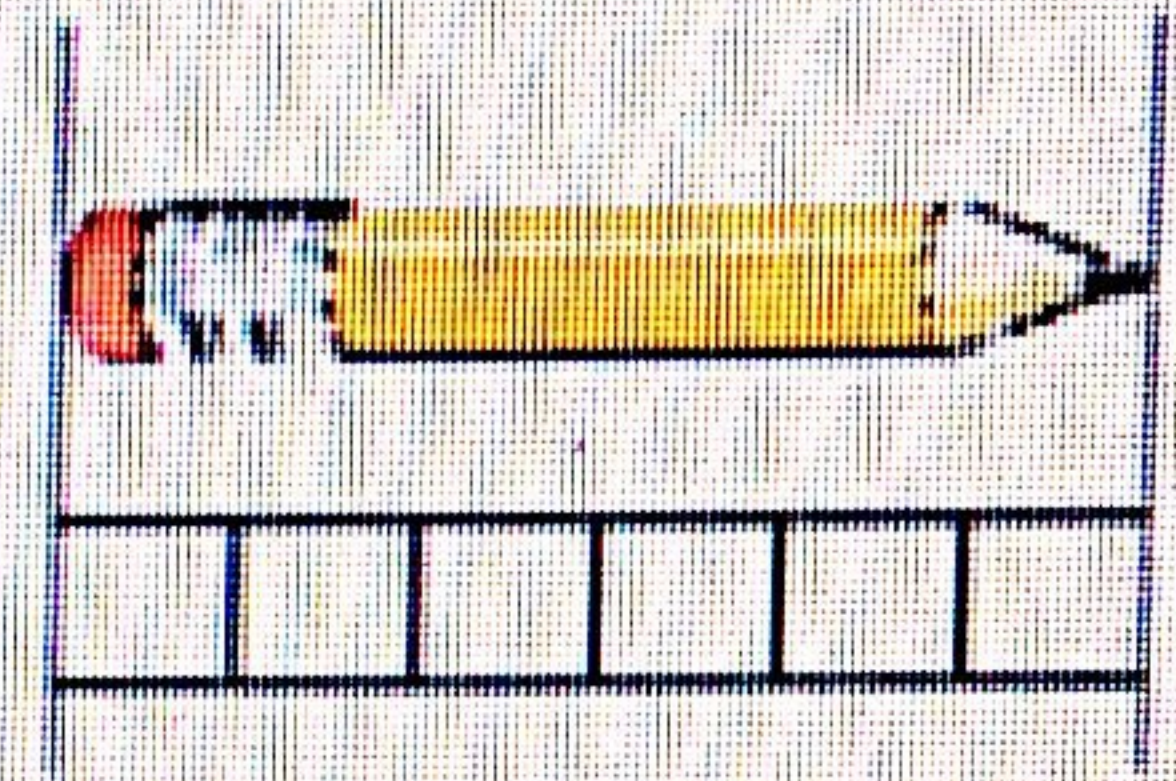
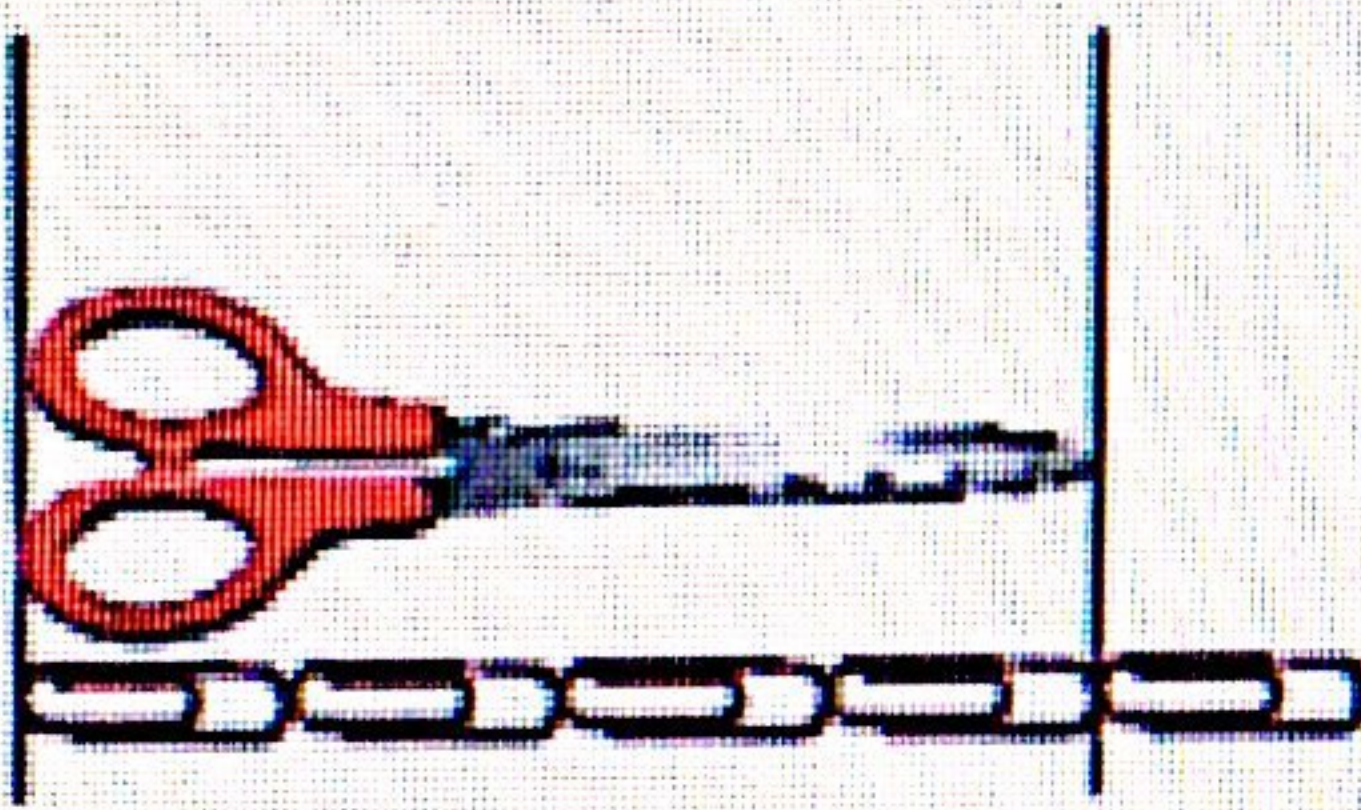
۱ با توجه به شکل هر عبارت راه پاسخ صحیح آن وصل کن.



- ۷ طول خودکار است
- ۵ طول خودکار است
- ۶ طول خودکار است
- ۴ طول خودکار است

۲ درستی و نادرستی هر عبارت را مشخص کن.

- الف: طول پاک کن از طول تعداد بیشتر است.
- ب: اندازه‌ی طول قیچی از اندازه‌ی طول گیره کمتر است.
- پ: طول مداد ۶ چینه است.



۳ با توجه به شکل جاهای خالی را کامل کن.

پ:

ب:

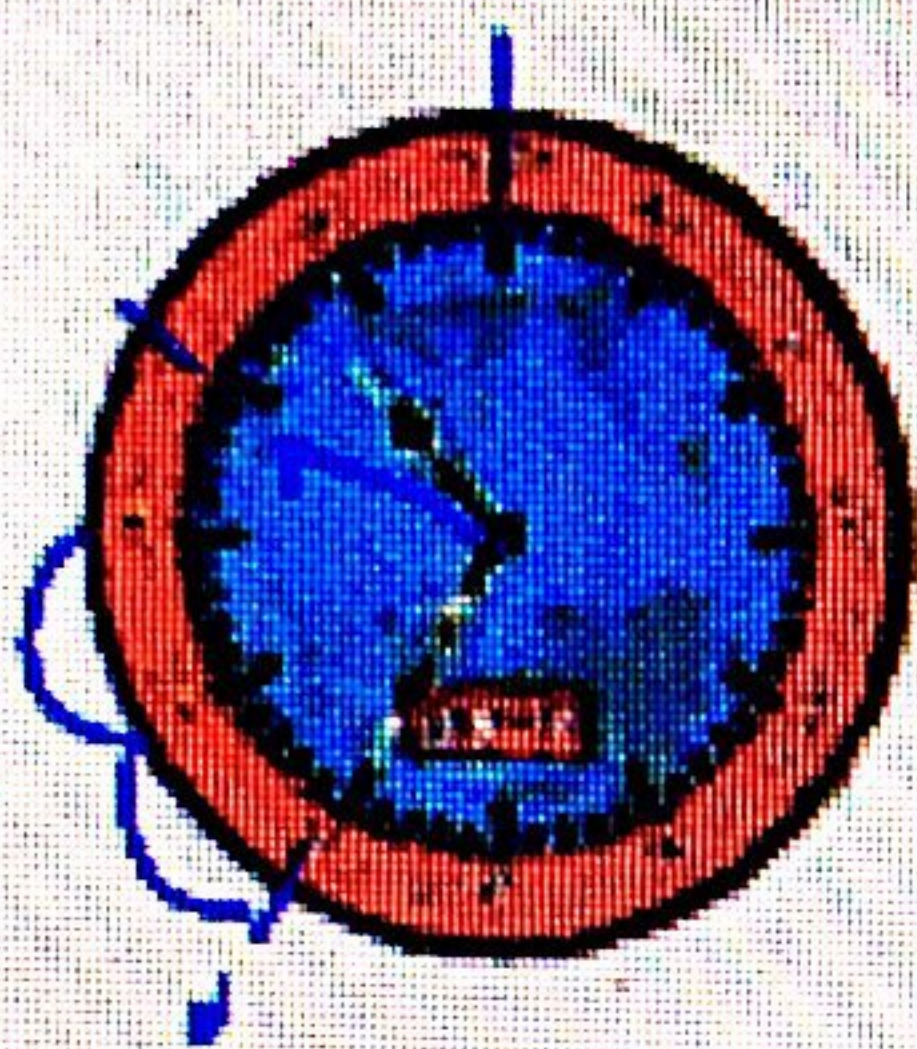
الف:

الف: طول مداد (الف) از چینه بیشتر و از چینه کمتر است.

ب: طول مداد (ب) از چینه بیشتر و از چینه کمتر است.

پ: طول مداد (پ) از چینه بیشتر و از چینه کمتر است.

یک ربع بعد از زمانی را که ساعت مقابل نشان می‌دهد بنویس و روی ساعت رنگ کن



10:15


10:15

از انتهای کتاب کار علوی پاک کن ها را جدا کن و به وسیله آن‌ها طول شلای زیر را اندازه بگیر.



اندازه‌ی شله پاک کن است.

اگر این حیوانات به ترتیب قد در صف بایستند، کدامیک در وسط صف قرار می‌گیرد؟



۱ (۱)

۲ (۲)

۳ (۳)

۴ (۴)

۵ (۵)

۱
۲

زنگ تفریح

تا حالا فکر کردید چرا دانش‌آموزان اندازه‌ی دستشان مهم است و این‌که چطور می‌توان اندازه‌ی طول دستشان را بدست آوردیم. برای این کار با کمک گیره یا متر طول دستت را اندازه بگیر. از میخ دستت شروع و تا نوک بزرگ‌ترین انگشت (انگشت سانی) ادامه ده. تعداد گیره یا سانتیمترهای متر را بشمارید و عدد بدست آمده اندازه طول دستان می‌باشد.