



به نام خداوند بخشنده و مهربان

صفحه ی ۷۶

آموزگار: خانم خاکسار

دبستان و پیش دبستان علوی




۱-۴ مکعب چینه را کنار هم گذاشته ایم تا یک چینه ی بزرگ درست شود. اندازه ی هر شکل را با کامل کردن جاهای خالی مشخص کنید.



اندازه ی طول خودکار ۳ و ۳ است.






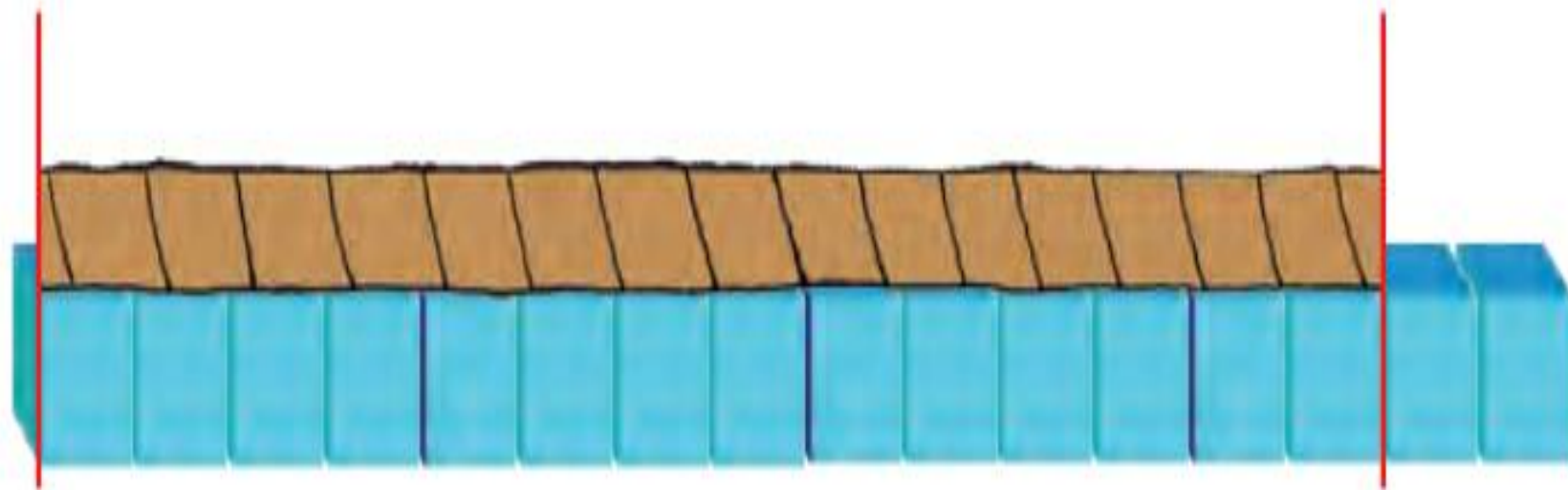
اندازه‌ی طول نی ——— و ——— است.



اندازه‌ی طول نی ۴ و ۱ است.




اندازه‌ی طول طناب ————— و ————— است.



اندازه‌ی طول طناب ۳ و ۲ است.

ساعت چند است؟ _____



قسمت رنگ شده نشان می دهد که عقربه ی بزرگ ۱۵ دقیقه یا یک ربع

ساعت حرکت کرده است. حالا ساعت چند است؟ _____

اگر عقربه ی بزرگ روی ۲۰ دقیقه باشد، یک ربع بعد عقربه کجا قرار می گیرد؟

مقدار حرکت عقربه ی بزرگ را با رنگ کردن نشان دهید.

ساعت چند است؟ $۳:۳۵$



قسمت رنگ شده نشان می دهد که عقربه ی بزرگ ۱۵ دقیقه یا یک ربع

ساعت حرکت کرده است. حالا ساعت چند است؟ $۳:۵۰$

اگر عقربه ی بزرگ روی ۲۰ دقیقه باشد، یک ربع بعد عقربه کجا قرار می گیرد؟ روی عدد ۷

مقدار حرکت عقربه ی بزرگ را با رنگ کردن نشان دهید.

پس از رسم عقربه‌های ساعت شماره (۲)، زمان‌هایی که ساعت‌ها نشان می‌دهند را زیر آن‌ها بنویس.



..... :

(۱)

یک ربع بعد →



..... :

(۲)



..... :

(۱)

یک ربع قبل →



..... :

(۲)

پس از رسم عقربه‌های ساعت شماره (۲)، زمان‌هایی که ساعت‌ها نشان می‌دهند را زیر آن‌ها بنویس.



۱۲:۴۵

(۱)

یک ربع بعد



۱:۰۰


(۲)



۸:۴۵

(۱)

یک ربع قبل



۸:۳۰

(۲)

زمانی را که هر ساعت نشان می‌دهد بنویس.



ساعت و دقیقه

..... :

..... دقیقه مانده به ساعت



ساعت و دقیقه

..... :

..... دقیقه مانده به ساعت



ساعت و دقیقه

..... :

..... دقیقه مانده به ساعت

زمانی را که هر ساعت نشان می‌دهد بنویس.



ساعت ... سه ... بیست و پنج دقیقه

۳:۲۵

۴ ... دقیقه مانده به ساعت ۳۵



ساعت هفت ... و پنجاه و پنج دقیقه

۷:۵۵

۸ ... دقیقه مانده به ساعت ۵



ساعت دوازده ... و پنجاه ... دقیقه

۱۲:۵۰

۱۰ ... دقیقه مانده به ساعت ۱