
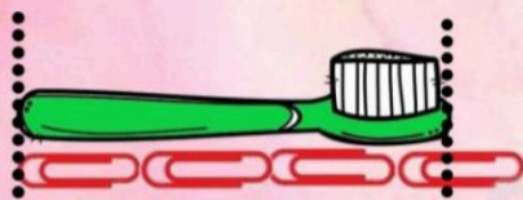


کاربرگ ریاضی فصل پنجم

اندازه طول هر شکل را با کامل کردن جای خالی مشخص کنید؟



طول خودکار بین و است.
یعنی از بیشتر از ولی به نمی رسد.



طول مسواک بین و است.
یعنی از بیشتر از ولی به نمی رسد.

جاهای خالی را کامل کنید.



هر سانتی متر.....میلی متر است.

۴۲ میلی متر یعنیسانتی متر و.....میلی متر است.

۷۵ میلی متر یعنیسانتی متر و.....میلی متر است.

۲ سانتی متر و ۹ میلی متر یعنیمیلی متر.

جاهای خالی را کامل کنید.



هر سانتی متر.....میلی متر است.

۶۵ میلی متر یعنیسانتی متر و.....میلی متر است.


۲۳ میلی متر یعنیسانتی متر و.....میلی متر است.

۴ سانتی متر و ۶ میلی متر یعنیمیلی متر.

کاربرد ریاضی فصل پنجم



خطی رسم کنید بین ۷ و ۶ سانتی متر باشد.



کاربرد ریاضی فصل پنجم

زمانی را هر ساعت نشان می دهد بنویسید و سپس
ساعت های دو طرف را کامل کنید.



ساعت.....

ساعت.....

ساعت.....

کاربرد ریاضی فصل پنجم

زمانی را هر ساعت نشان می دهد بنویسید و سپس ساعت های دو طرف را کامل کنید.



یک ربع قبل

یک ربع بعد

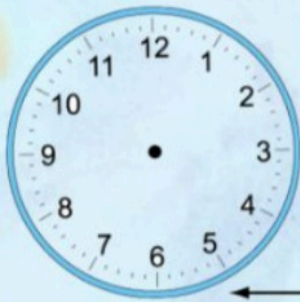
ساعت.....

ساعت.....

ساعت.....

کاربرد ریاضی فصل پنجم

زمانی را هر ساعت نشان می دهد بنویسید و سپس
ساعت های دو طرف را کامل کنید.

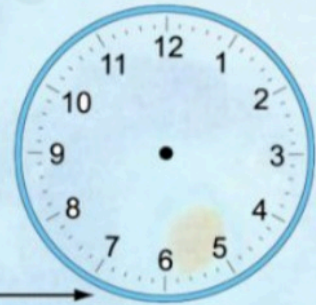


یک ربع قبل

ساعت.....



ساعت.....



نیم ساعت بعد

ساعت.....

