

علوی

دلبندم



عبارت های جمع و تفریق زیر را با
با روش حدس و آزمایش کامل کن.

$$۲۳ + \square = ۶۸$$

$$\square + ۵۲ = ۹۳$$

$$۷۸ - \square = ۳۵$$

$$\square + ۳۵ = ۵۱$$



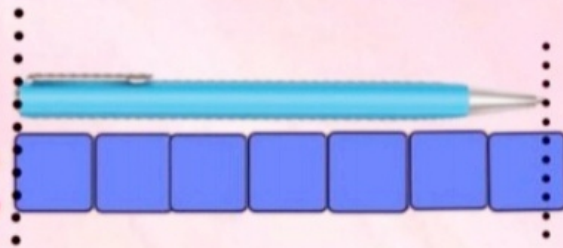
۱- در یک باغ وحش روی هم ۶ کانگورو و بز وجود دارد. آن ها روی هم ۲۰ پا دارند در این باغ وحش چند کانگورو و بز وجود دارد؟

۲- در یک مزرعه روی هم ۹ جوجه و سگ وجود دارد آن ها روی هم ۱۲ پا دارند در این مزرعه چند تا جوجه و سگ وجود دارد؟

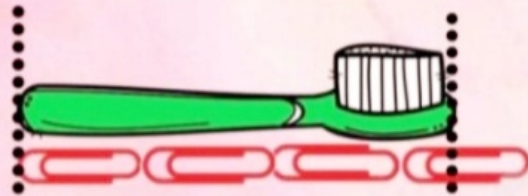
۳- در یک جنگل روی هم ۷ شتر مرغ و ببر وجود دارد آن ها روی هم ۱۸ پا دارند در این جنگل چند تا شتر مرغ و ببر وجود دارد؟

کاربرگ ریاضی فصل پنجم

اندازه طول هر شکل را با کامل کردن جای خالی مشخص کنید؟



طول خودکار بین و است.
یعنی از بیشتر از ولی به نمی رسد.




طول مسواک بین و است.
یعنی از بیشتر از ولی به نمی رسد.

کاربرد ریاضی فصل پنجم



خطی رسم کنید بین ۷ و ۶ سانتی متر باشد.



جاهای خالی را کامل کنید.




هر سانتی متر.....میلی متر است.

۶۵ میلی متر یعنیسانتی متر و.....میلی متر است.

۲۳ میلی متر یعنیسانتی متر و.....میلی متر است.

۴ سانتی متر و ۶ میلی متر یعنیمیلی متر.

جاهای خالی را کامل کنید.



هر سانتی متر.....میلی متر است.

۴۲ میلی متر یعنیسانتی متر و.....میلی متر است.

۷۵ میلی متر یعنیسانتی متر و.....میلی متر است.

۲ سانتی متر و ۹ میلی متر یعنیمیلی متر .