

## ارزشیابی فصل پنجم



تاریخ: .....

نام و نام خانوادگی: .....

۱. با توجه به شکل جاهای خالی را کامل کن.



الف) واحد اندازه گیری طول پر در اینجا ..... است.

ب) طول پر بین ..... و ..... گیره است.

پ) طول پر از ..... گیره بیشتر است لذا به ..... گیره نمی رسد.

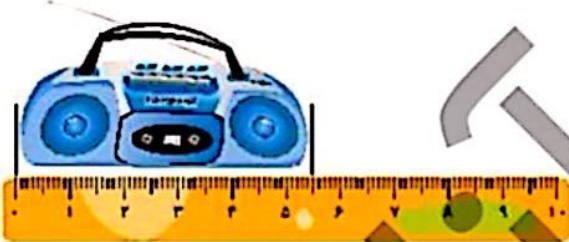
۲. با توجه به زمان داده شده، پاسخ پرسش های زیر را بنویس.




الف) یک ربع بعد از ساعت مقابل چه ساعتی می شود؟

ب) نیم ساعت بعد از ساعت مقابل چه ساعتی می شود؟ (روی ساعت نشان بده)

۳. اندازه ی هر شکل را به دو صورت بنویس.



الف) اندازه ی طول رادیو ..... سانتی متر و ..... میلی متر یا ..... میلی متر است.



اندازه ی طول شلوار ..... سانتی متر و ..... میلی متر یا ..... میلی متر است.

## ارزشیابی فصل پنجم



تاریخ: .....

نام و نام خانوادگی: .....

۸. ۷ سانتی‌متر و ۱۱ میلی‌متر می‌شود:

(۲) ۸۰ میلی‌متر

(۱) ۹۱ میلی‌متر

(۴) ۸۱ میلی‌متر

(۳) ۹۵ میلی‌متر

۹. ۲۵ دقیقه بعد از ساعت مقابل چه ساعتی می‌شود؟



(۱) ۲:۳۵

(۲) ۳:۵۰

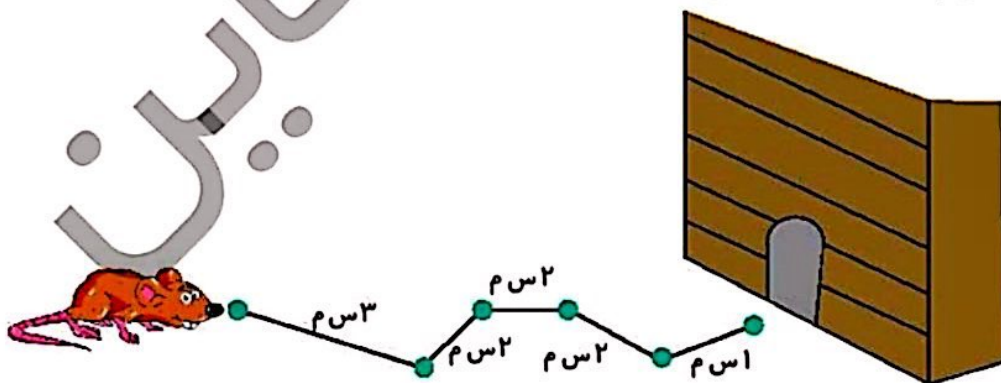
(۳) ۳:۴۵

(۴) ۳:۰۵

۱۰. طول ضلع‌های اشکال زیر را با خط‌کش اندازه بگیر و بنویس. (واحدها به میلی‌متر باشند).



۱۱. این موش هر روز برای رسیدن به لانه‌ی خود مسیر زیر را می‌پیماید. این موش چند سانتی‌متر راه را طی می‌کند؟ منظور از (م.س) در تصویر واحد سانتی‌متر است.



۲۰۵



## ارزشیابی فصل پنجم



تاریخ: .....

نام و نام خانوادگی: .....

۱۲. طول یک گل ۲۰ سانتی متر است. اگر در هر روز ۱۰ میلی متر رشد کند بعد از سه روز چند میلی متر می شود؟



.....

.....

۱۳. برای اندازه گیری کدام یک، از واحد میلی متر استفاده می شود؟

- (۱) طول کمد      (۲) طول میز      (۳) طول دانه برنج      (۴) پهنای فرش

۱۴. در  علامت مناسب بگذار.

- ۶۱ میلی متر  ۶ سانتی متر و ۱ میلی متر
- ۵۴ میلی متر  ۵ سانتی متر
- ۳ سانتی متر  ۳ میلی متر

### جدول خودارزیابی

۲۰۶

نیاز به تلاش	قابل قبول	خوب	خیلی خوب	معیار	ملاک
<input type="radio"/>	<input type="radio"/>	<input type="radio"/>	<input type="radio"/>	←	با واحدهای مختلف طول را اندازه گیری می کنم.
<input type="radio"/>	<input type="radio"/>	<input type="radio"/>	<input type="radio"/>	←	ربع و نیم روی ساعت می خوانم.
<input type="radio"/>	<input type="radio"/>	<input type="radio"/>	<input type="radio"/>	←	با واحد سانتی متر و میلی متر اندازه گیری را انجام می دهم.
<input type="radio"/>	<input type="radio"/>	<input type="radio"/>	<input type="radio"/>	←	واحدها را به یکدیگر تبدیل می کنم.
<input type="radio"/>	<input type="radio"/>	<input type="radio"/>	<input type="radio"/>	←	مسئله را با حدس و آزمایش حل می کنم
<input type="radio"/>	<input type="radio"/>	<input type="radio"/>	<input type="radio"/>	←	اعداد با واحد سانتی متر و میلی متر را با هم مقایسه می کنم.



جاهای خالی را با کلمه ها و عددهای مناسب کامل کن .

۵ سانتی متر = ..... میلی متر      ۹۸ میلی متر = ..... سانتی متر و ..... میلی متر

۲۰ ..... = ۲ سانتی متر      ۱۰ ..... = ۱۰۰ میلی متر

۷۶ میلی متر = ..... سانتی متر و ..... میلی متر      ۶۰ میلی متر = ..... سانتی متر

اندازه ی خط ها را مقایسه کن و علامت  $< = >$  بگذار .

۵ سانتی متر  ۵۰ میلی متر      ۱۲ سانتی متر  ۱۲ میلی متر

۴ سانتی متر و ۸ میلی متر  ۵۰ میلی متر      ۱۰ سانتی متر  ۹۷ میلی متر

۶۹ میلی متر  ۸ سانتی متر      ۱ سانتی متر  ۱۰ میلی متر

خط های خواسته شده را با توجه به اندازه ها بکش .

۲۶ میلی متر

۵۰ میلی متر

۴ سانتی متر و ۸ میلی متر