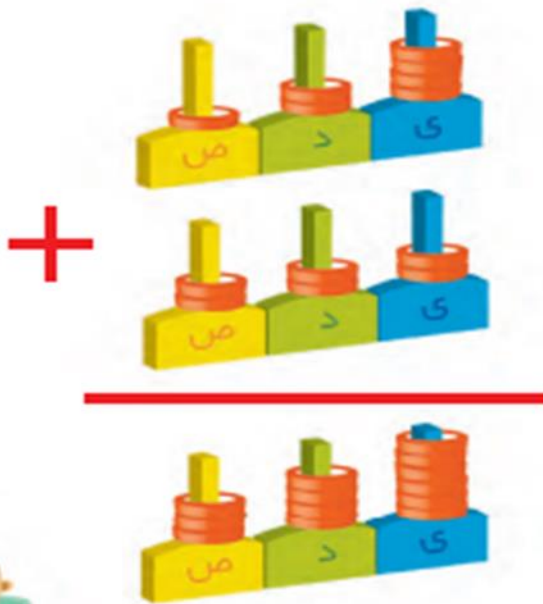




فصل ۶

جمع و تفریق  
اعداد سه رقمی



آیا می دانید؟ تعداد دانش آموزان دبستان خود را می توانید با یک عدد ۳ رقمی بیان کنید.

به نام خداوند بخشنده و مهربان

صفحه ی ۱۰۱

آموزگار: خانم خاکسار

دبستان و پیش دبستان علوی








کار در  
کلاس

با رسم دسته‌های صدتایی و ده‌تایی و یکی، مانند نمونه جمع‌ها را انجام دهید. در صورت لزوم ۱۰ تا یکی را به یک دسته‌ی ده‌تایی و یا ۱۰ تا ده‌تایی را به یک دسته‌ی صدتایی تبدیل کنید.




$$\begin{array}{r} 313 \\ + 325 \\ \hline \end{array}$$

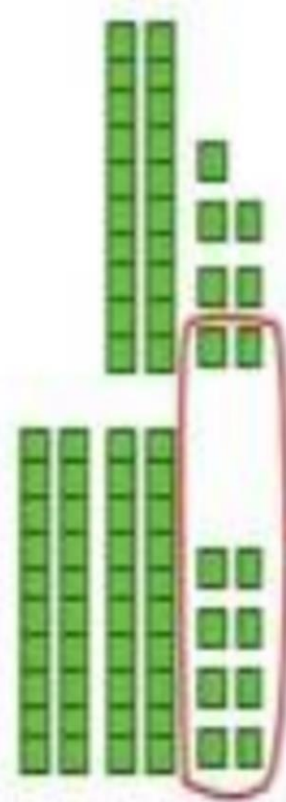


کار در  
کلاس

با رسم دسته‌های صدتایی و ده‌تایی و یکی، مانند نمونه جمع‌ها را انجام دهید. در صورت لزوم ۱۰ تا یکی را به یک دسته‌ی ده‌تایی و یا ۱۰ تا ده‌تایی را به یک دسته‌ی صدتایی تبدیل کنید.



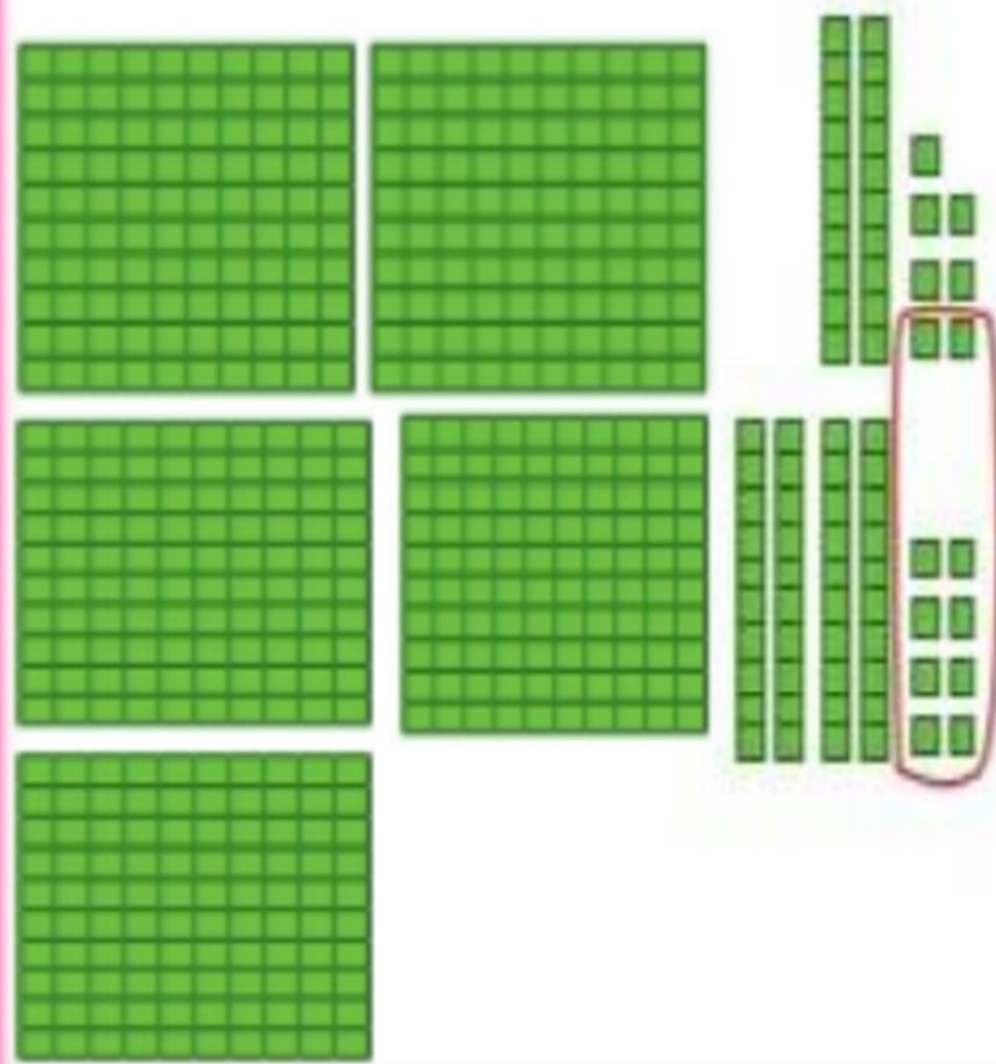
$$\begin{array}{r} 313 \\ + 325 \\ \hline 638 \end{array}$$



درست کردن یک دسته‌ی

ده تایی با ۱۰ تا یکی

$$\begin{array}{r} 227 \\ + 348 \\ \hline \end{array}$$



درست کردن یک دسته‌ی

ده تایی با ۱۰ تا یکی

$$\begin{array}{r}
 ۲۲۷ \\
 + ۳۴۸ \\
 \hline
 ۵۷۵
 \end{array}$$

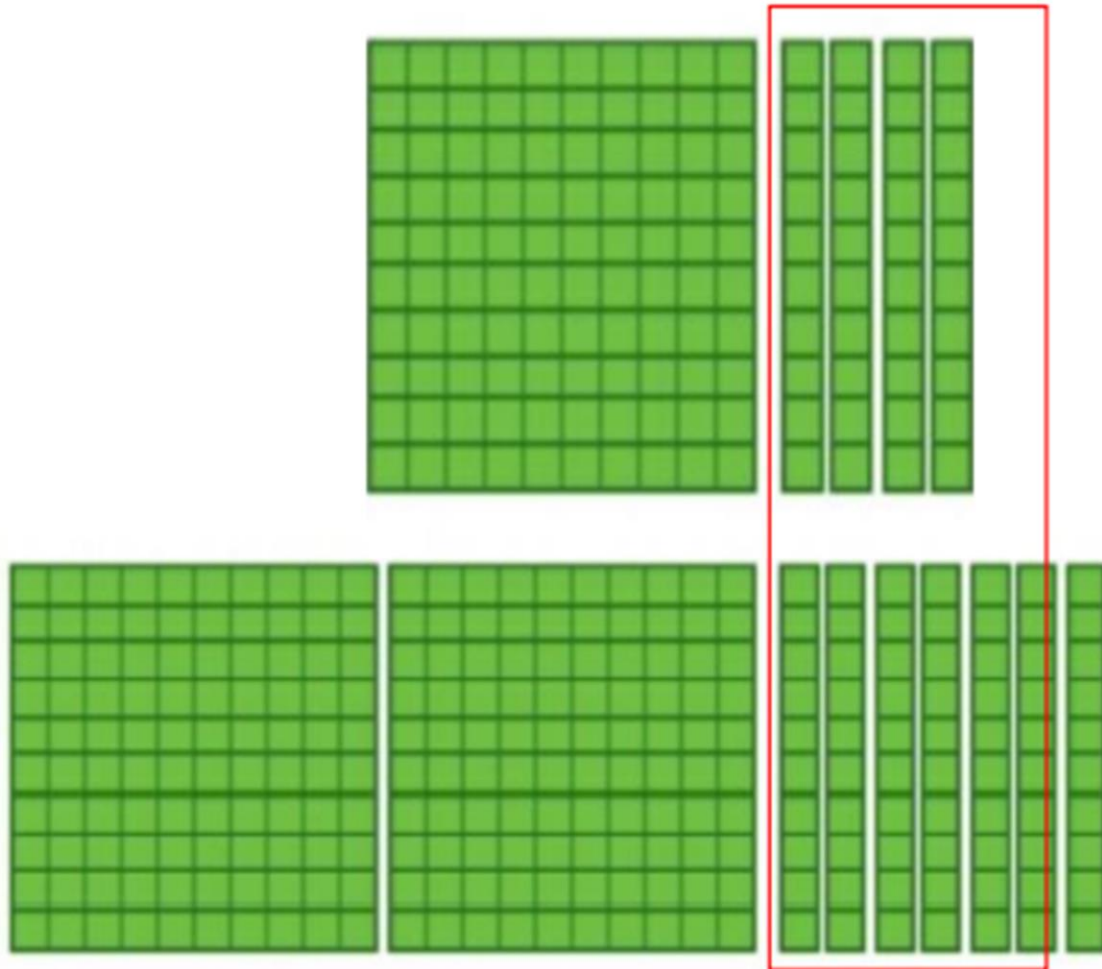
146

+ 273

---



یک دسته صد تایی



$$\begin{array}{r} 146 \\ + 273 \\ \hline 419 \end{array}$$

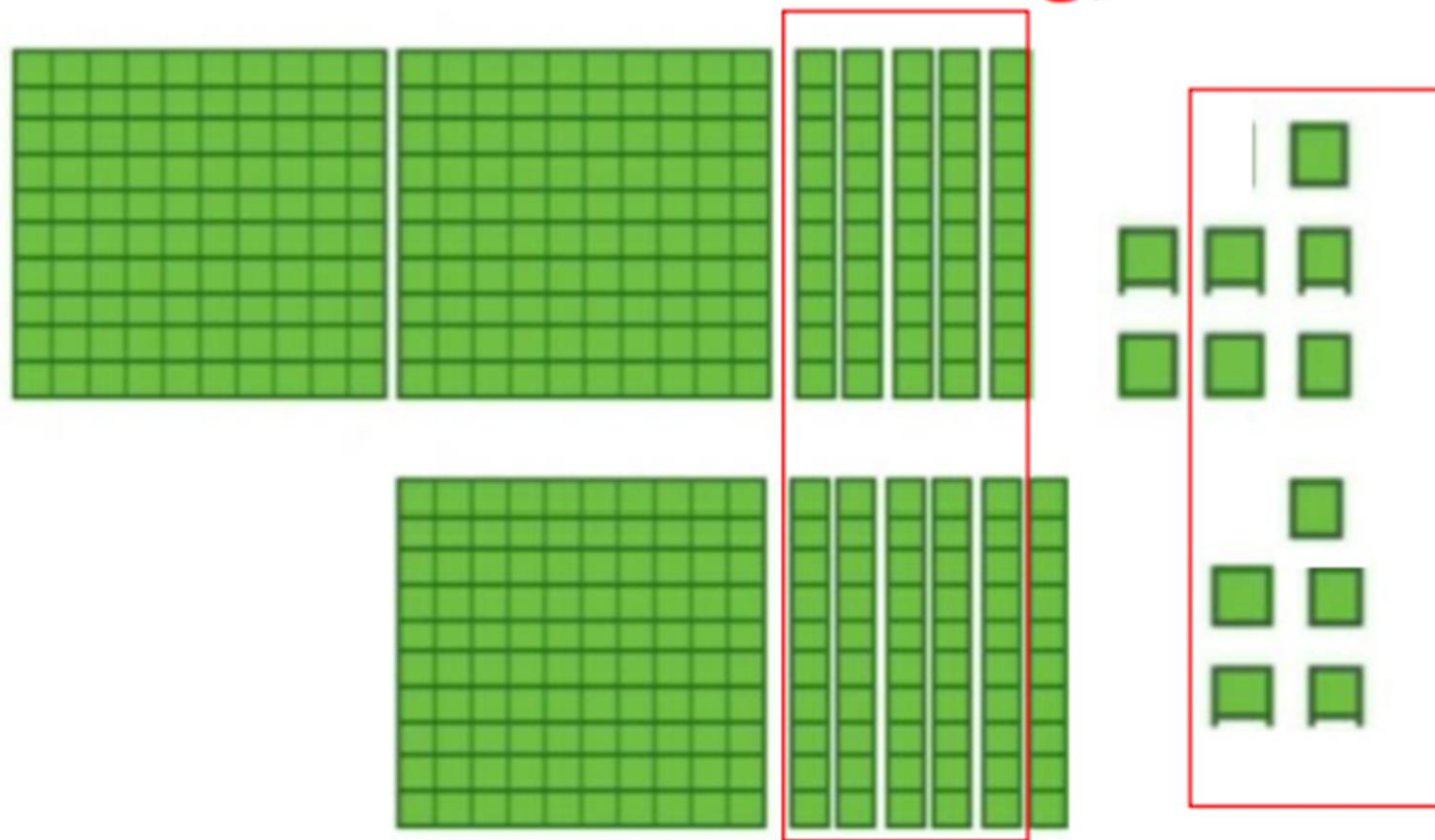


۲۵۷

+ ۱۶۵

---

درست کردن یک دسته ده تایی



$$\begin{array}{r} 11 \\ 257 \\ + 165 \\ \hline 422 \end{array}$$

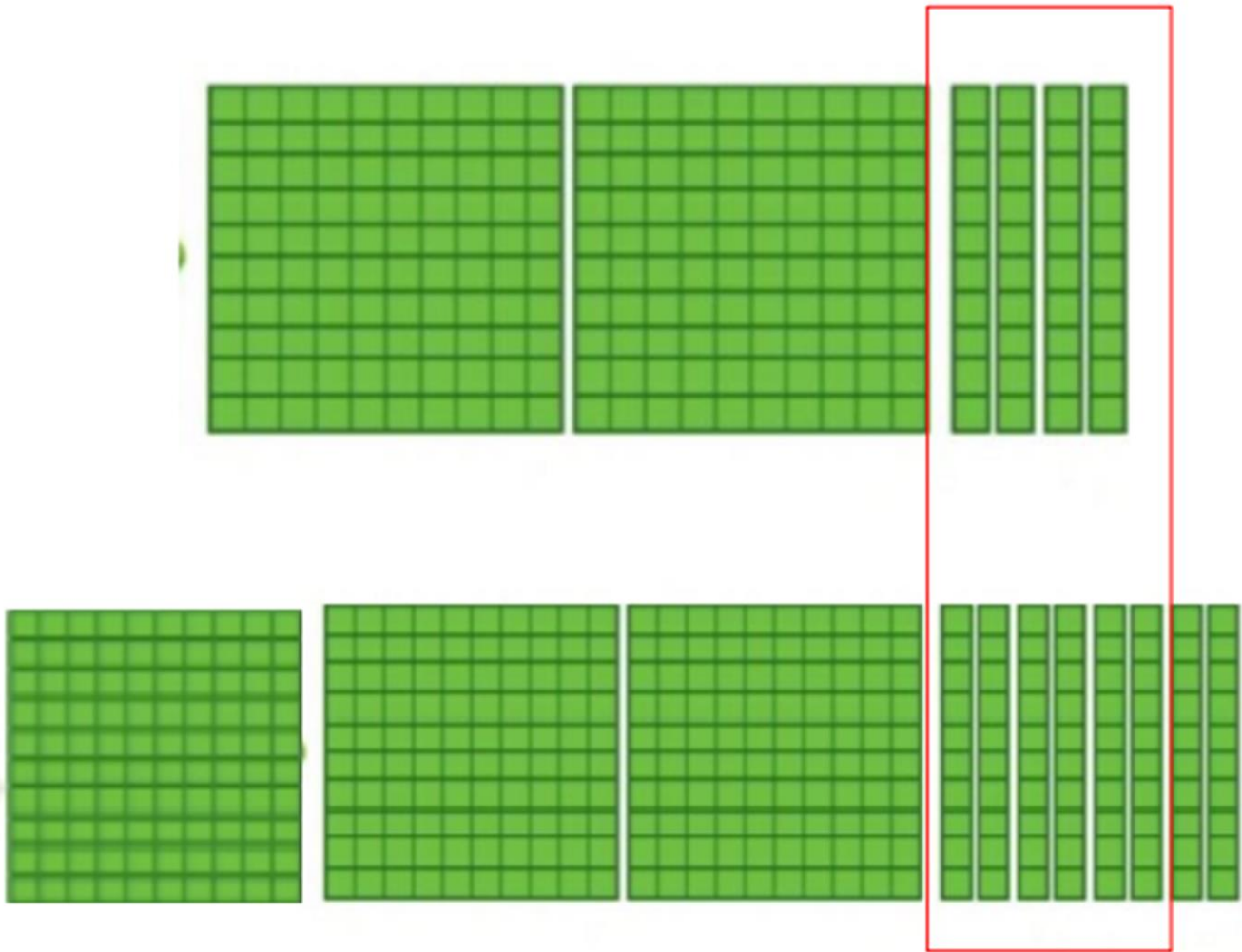
درست کردن یک دسته صد تایی

۲۴۰

+ ۳۸۰

\_\_\_\_\_

۰۰



$$\begin{array}{r}
 240 \\
 + 380 \\
 \hline
 620
 \end{array}$$

درست کردن یک دسته ی صد تایی

