

فصل ۴ ریاضی

۱- جاهای خالی را کامل کن.

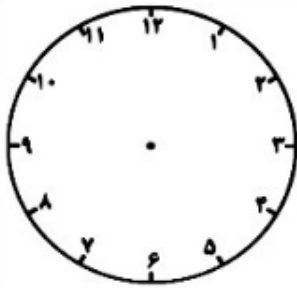
- ۴۰ سکه‌ی یک ریالی را می‌توان با ..... سکه‌ی ۱۰ ریالی عوض کرد.
- ۱۰۰ سکه‌ی یک ریالی را می‌توان با ..... سکه‌ی ۱۰ ریالی عوض کرد.
- ۱۰ سکه‌ی ۱۰ ریالی را می‌توان با یک سکه‌ی ..... ریالی عوض کرد.
- ۵ سکه‌ی ۱۰۰ ریالی و ۴ سکه‌ی ۱۰ ریالی و ۷ سکه‌ی ۱ ریالی می‌شود ..... ریال.
- ۸ دسته‌ی ۱۰۰ تایی، ۶ دسته‌ی ۱۰ تایی و ۲ یکی می‌شود .....
- ۹ دسته‌ی ۱۰۰ تایی با ۲ دسته‌ی ۱۰ تایی می‌شود .....
- ۹۳۵ ریال برابر است با ..... سکه‌ی ۱۰۰ ریالی، ..... سکه‌ی ۱۰ ریالی و ..... سکه‌ی ۱ ریالی.
- ۳۰۷ ریال برابر است با ..... سکه‌ی ۱۰۰ ریالی و ..... سکه‌ی ..... ریالی.
- عدد ۴۵۳ ..... رقم دارد و رقم‌های آن ..... می‌باشد.

۲- عدد هر قسمت را با توجه به ابزار خواسته شده نشان بده و بعد عدد را به حروف بنویس.

<p>عدد ۴۰۵ را با سکه‌های صدریالی و ده ریالی و یک ریالی نشان بده. به حروف: .....</p>	<p>عدد ۱۲۴ را با دسته‌های صدتایی و ده‌تایی و یکی نشان بده. به حروف: .....</p>						
<p>عدد ۷۴۹ را در جدول ارزش مکانی نشان بده. به حروف: .....</p>	<p>عدد ۵۱۰ را روی چرتکه نشان بده. به حروف: .....</p> <div style="text-align: center;"> <table border="1" style="margin: auto;"> <tr> <td style="border: none;"> </td> <td style="border: none;"> </td> <td style="border: none;"> </td> </tr> <tr> <td style="text-align: center;">۵</td> <td style="text-align: center;">۴</td> <td style="text-align: center;">۱</td> </tr> </table> </div>				۵	۴	۱
۵	۴	۱					

۳- من چه عددی هستم؟ یکانم ۴، دهگانم دو تا کمتر از یکان و صدگانم ۴+۲ است. ....

۴- با کمک ساعت زیر یا ساعت آموزشی خودت، زمان‌های زیر را پیدا کن و بنویس.



- نیم ساعت بعد از ساعت  $۸:۵۰$  چه ساعتی است؟ .....

- ربع ساعت بعد از ساعت  $۱۳:۴۵$  چه ساعتی است؟ .....

-  $۱۰$  دقیقه بعد از ساعت  $۱۰:۲۵$  چه ساعتی است؟ .....

۵- ارزش سکه‌های زیر را بنویس.



ریال .....



ریال .....



ریال .....

۶- با کارت‌های  $۷$  و  $۵$  و  $۲$  چند عدد سه رقمی می‌توان نوشت؟ آن‌ها را بساز و بنویس.

.....

حالا از بین عددهایی که ساختی بزرگ‌ترین عدد را بنویس. ....

در کدام عددها رقم یکان از دهگان بزرگتر است؟ آن‌ها را بنویس. ....

۷- الگوهای زیر را کامل کن.

$۳ - ۶ - ۱۱ - ۱۸ - \dots - \dots - \dots$

$۵۴۰ - ۵۵۰ - ۵۶۰ - \dots - \dots - \dots - \dots - \dots$

۸- با حذف رقم یکان و دهگان، عددهای زیر را به صورت تقریبی بنویس و سپس عددها را جمع یا تفریق کن.

$۷۲۳ \rightarrow \dots$

$۹۰۳ \rightarrow \dots$

$۲۴۰ \rightarrow \dots$

$+ ۱۵۲ \rightarrow + \dots$

$- ۳۴۱ \rightarrow - \dots$

$+ ۵۷۵ \rightarrow + \dots$

۹- اعداد زیر را به صورت باز شده (گسترده) بنویس.

$۷۵۳ = \dots$

$۸۰۹ = \dots$

۱۰- عدد  $۴۲۷$  به  $۴۲۰$  نزدیک‌تر است یا به .....؟

عدد  $۲۸۳$  به ..... نزدیک‌تر است یا به .....؟

۱۱- زهرا  $۱۰۷$  امتیاز داشت. او یک سوال را درست جواب نداد و  $۹$  امتیاز از دست داد و بعد به یک سوال  $۷$  امتیازی

درست جواب داد. حالا او چند امتیاز دارد؟


.....

۱ - به جای  عدد مناسب قرار دهید. ( ۸ نمره )

؟  
نمودار و جدول

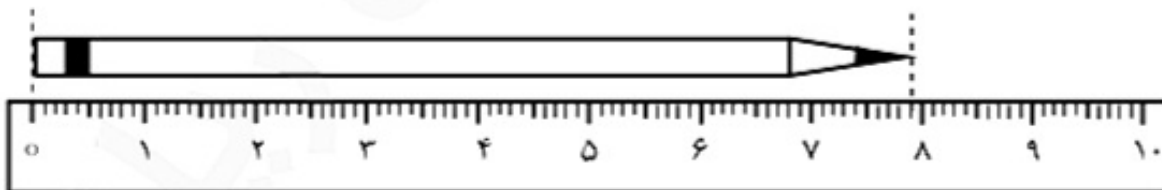
$$۱۰ + \square = ۵۸$$

۲ - در یک مزرعه روی هم ۶ تا گاو و خروس هستند. آن‌ها روی هم ۲۰ پا دارند. در این مزرعه چند گاو و خروس است؟ ( ۱۰ نمره )



۳ - الف) ساعت چند است؟ ..... ( ۸ نمره )  
ب) عقربه‌ی بزرگ چند دقیقه حرکت کند تا ساعت ۳ شود؟  
مقدار حرکت عقربه‌ی بزرگ را رنگ کنید.

۴ - با توجه به شکل زیر، در جاهای خالی اعداد مناسب بنویسید. ( ۸ نمره )



الف) اندازه‌ی طول این مداد از ..... سانتی‌متر بیشتر و از ..... سانتی‌متر کمتر است.

ب) اندازه‌ی مداد ..... سانتی‌متر و ..... میلی‌متر است.

بِسْمِ تَعَالَى

### کاربرگ مقایسه‌ی (عددهای سه رقمی) تاریخ:

نام:

پایه: دوم

شماره:

نام و نام خانوادگی:

۱- علامت مناسب  $<=>$  بگذارید.

$259 \quad \square \quad 400$

$700 \quad \square \quad 410$

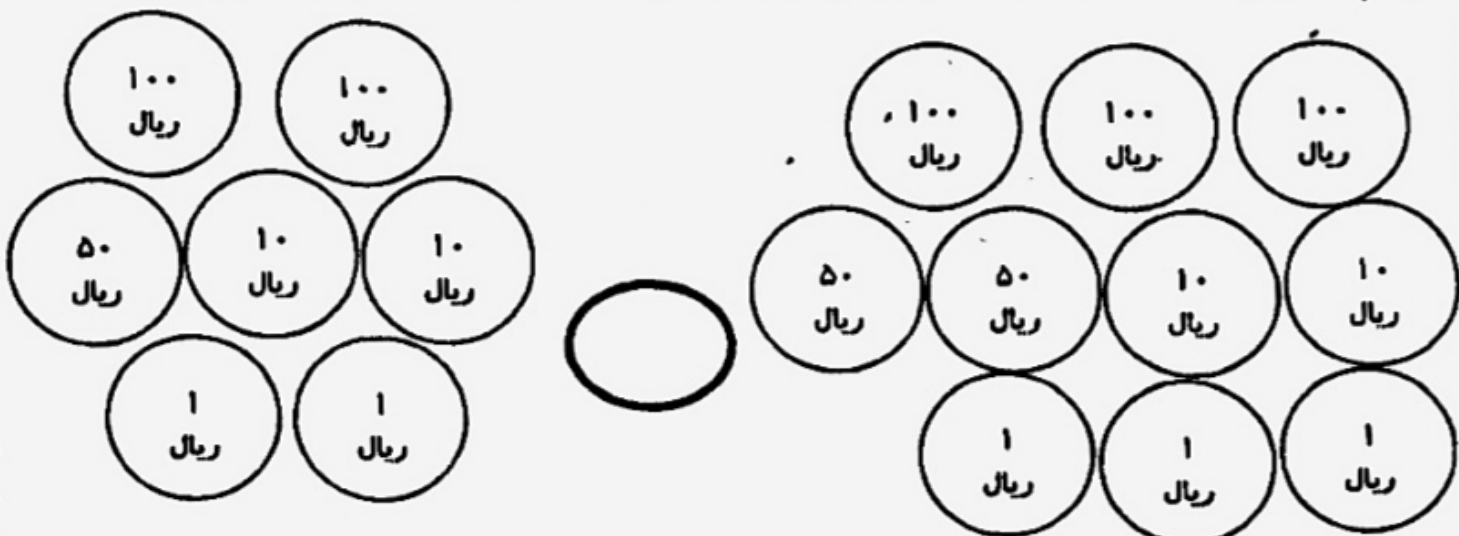
$208 \quad \square \quad 199$

$198 \quad \square \quad 231$

۲- علامت مناسب بگذارید.

..... = 200 + 30 + 1	<input type="radio"/>	$700 + 10 + 5 =$ .....
..... = 400 + 100	<input type="radio"/>	$700 - 500 =$ .....
..... = 700 + 200	<input type="radio"/>	$400 + 100 =$ .....
..... = 600 + 20 + 5	<input type="radio"/>	$900 + 20 + 5 =$ .....

۳- با حذف قسمت‌های مساوی از هر دو طرف علامت مناسب بگذارید.



$400 + 700 + 60 + 50 + 8$	<input type="radio"/>	$20 + 50 + 200 + 700 + 60$
$900 + 237 + 17 + 40 + 5$	<input type="radio"/>	$90 + 17 + 900 + 237$

نام و نام خانوادگی:

فصل ۶ ریاضی

۱- عددی که هر دسته نشان می‌دهد را بنویس و بعد شکل‌های زیر را مقایسه کن و علامت ( $<$   $=$   $>$ ) بگذار.

	<p>..... □ .....</p>	
	<p>..... □ .....</p>	

۲- حاصل هر عبارت را به دست آور و بعد جواب‌ها را مقایسه کن.

$$\dots\dots\dots = 400 + 300 \square 500 + 400 = \dots\dots\dots \quad \dots\dots\dots = 300 + 40 + 1 \square 200 + 30 = \dots\dots\dots$$

۳- قسمت‌های مساوی را از دو طرف حذف کن و سپس عبارت را با هم مقایسه کن.

$$300 + 300 + 10 + 200 + 2 + 1 \square 100 + 100 + 200 + 50 + 300 + 8 + 10$$