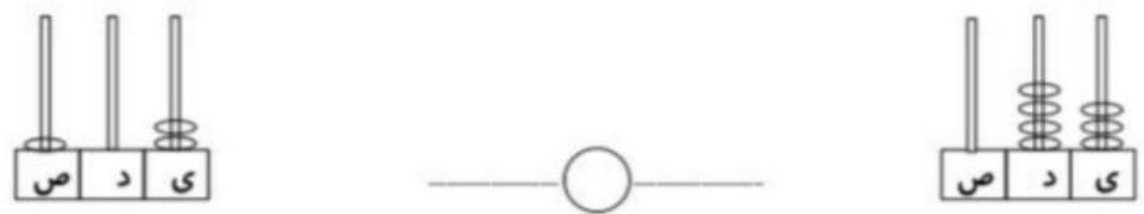
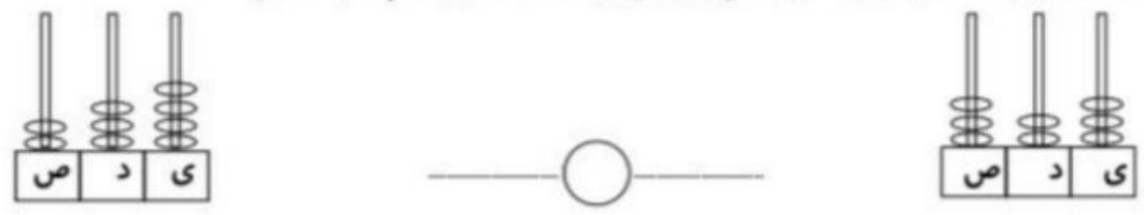
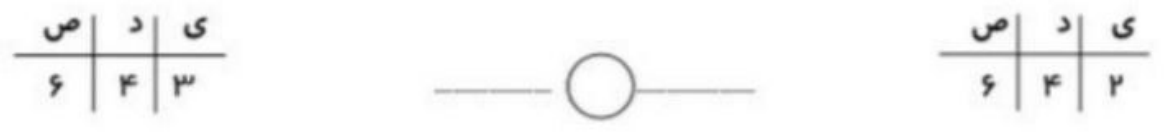


در تمرین آخر عدد سمت بیش تر بود. چون ؟

۲. ابتدا عدد چرتکه‌ها را در جاهای خالی بنویس و بعد آن‌ها را با هم مقایسه کن.



۳. ابتدا عدد جدول‌ها را در جاهای خالی بنویس و بعد آن‌ها را با هم مقایسه کن.



۴. عددهای زیر را با هم مقایسه کن.

- | | |
|-----------|-----------|
| ۸۳۹ ○ ۸۲۹ | ۴۳۱ ○ ۵۰۱ |
| ۷۰۷ ○ ۷۱۶ | ۳۱۲ ○ ۳۲۱ |
| ۲۰۶ ○ ۱۱۶ | ۴۲۸ ○ ۴۲۹ |