


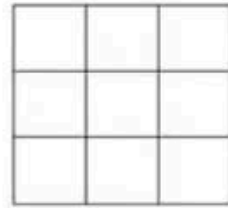
۲ - کسرهای خواسته شده را با رنگ کردن هر شکل ، نشان بده .



۴ قسمت از ۴ قسمت مساوی



۳ قسمت از ۸ قسمت مساوی




۷ قسمت از ۹ قسمت مساوی

۳ - هر شکل را به قسمت های خواسته شده تقسیم کن،


سپس کسرها را روی آن ها نشان بده .



۶ قسمت از ۱۰ قسمت مساوی رنگ شده است .

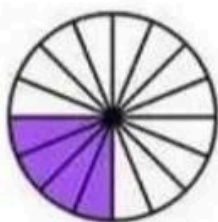


۲ قسمت از ۴ قسمت مساوی رنگ شده است .



۵ قسمت از ۵ قسمت مساوی رنگ شده است .

۱ - عزیزم ؛ کسر مربوط به هر تصویر را زیر آن بنویس .




.....

.....




.....

.....




۵ قسمت از ۸ قسمت مساوی

رنگ شده است .



.....

.....



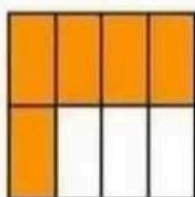
.....

.....



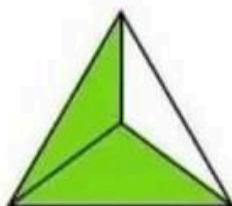
.....

.....




.....

.....



.....

.....



.....

.....