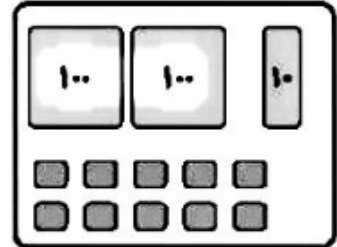

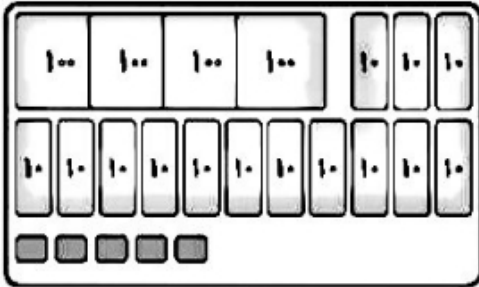




تاریخ:

نام و نام خانوادگی:

۱. هر شکل را به عدد مربوط به آن وصل کن.



۲. حاصل را بنویس.

الف) $700 + 20 + 3 =$

پ) $100 + 200 + 40 + 100 + 3 =$

ب) $900 + 40 + 8 =$

۳. با توجه به ساعت به سوالها پاسخ بده.



الف) ساعت چند است؟

ب) چند دقیقه به ساعت بعدی مانده است؟

ج) یک ساعت و ربع دیگر ساعت چند می شود؟

۴. حاصل جمع و تفریقهای زیر را به روش گسترده نویسی (فرآیندی) بنویس.

$$\begin{array}{r} 536 \\ + 126 \\ \hline \end{array}$$

$$\begin{array}{r} 424 \\ - 213 \\ \hline \end{array}$$

۲۰۷





تاریخ:

نام و نام خانوادگی:

۵. حاصل جمع و تفریق‌های زیر را بنویس. (به روش تکنیکی)

$$\begin{array}{r} 402 \\ -228 \\ \hline \end{array}$$

$$\begin{array}{r} 600 \\ -151 \\ \hline \end{array}$$

$$\begin{array}{r} 928 \\ -274 \\ \hline \end{array}$$

$$\begin{array}{r} 193 \\ +108 \\ \hline \end{array}$$

۶. جمع دو عدد را در جدول ارزش مکانی انجام داده‌ایم. کدام عدد باید در مربع قرار گیرد؟

صدگان	دهگان	یکان
۳	۱	۹
+۱	<input type="text"/>	۲
۵	۳	۱

۷. عددها را با هم مقایسه کن. سپس، علامت ($<$, $=$, $>$) بگذار.

$$900 - 400 \bigcirc 100 + 400$$

$$700 - 600 \bigcirc 700 - 500$$

$$500 - 100 \bigcirc 900 - 400$$

$$100 - 100 + 30 + 1 \bigcirc 400 - 200$$

۸. کتابخانه‌ای ۲۸۶ کتاب علمی و داستانی دارد. اگر ۱۳۹ تا از کتاب‌ها علمی باشد چند تا از کتاب‌ها داستانی است؟

۲۰۸

۹. حاصل جمع و تفریق‌های زیر را با شکل بنویس.

$$\begin{array}{r} 437 \\ -218 \\ \hline \end{array}$$

$$\begin{array}{r} 314 \\ +169 \\ \hline \end{array}$$





نام و نام خانوادگی:

تاریخ:

۱۰. الگورا پیدا کرده و ادامه بده.



(۱)



(۲)



(۳)



(۴)



(۵)



(۶)



(۷)



(۸)



(۹)

۱۱. ۲۰ سکه ده ریالی برابر با چند سکه یک ریالی است؟

۲۳۰ (۲)

۲۲۰ (۱)

۲۲۰۰ (۴)

۲۳۰۰ (۳)

۱۲. ۲۵ دقیقه بعد از ساعت ۷:۱۵ چه ساعتی می‌شود؟

۷:۳۵ (۲)

۷:۴۵ (۱)

۷:۴۰ (۴)

۷:۲۰ (۳)





نام و نام خانوادگی:

تاریخ:

۱۳. قد برنا ۱۳۷ سانتی‌متر و قد مادرش ۱۶۱ سانتی‌متر است. مادر برنا چند سانتی‌متر از او بلندتر است؟

.....

.....

۱۴. کتاب درنا ۶۷۰ صفحه دارد. او هفته‌ی اول ۱۳۴ صفحه و هفته‌ی دوم ۲۵۹ صفحه خوانده است. چند صفحه از کتاب باقی مانده است؟



.....

.....

جدول خودارزیابی



۲۱۰

خیلی خوب خوب قابل قبول نیاز به تلاش

- | | |
|-----|--|
| [] | اعداد سه‌رقمی را با دستبندی می‌خوانم. |
| ← | اعداد گسترده را به صورت سه‌رقمی نشان می‌دهم. |
| ← | ساعت را به دقیقه می‌خوانم. |
| ← | جمع و تفریق به روش گسترده‌نویسی انجام می‌دهم. |
| ← | جمع و تفریق را به روش تکنیکی (با انتقال) انجام می‌دهم. |
| ← | مسئله‌های اعداد سه‌رقمی را حل می‌کنم. |
| ← | جمع و تفریق اعداد سه‌رقمی را با شکل نشان می‌دهم. |
| ← | زمان‌ها را با الگوی روی ساعت نشان می‌دهم. |
| ← | مسئله را با راهبر دزیر مسئله حل می‌کنم. |

