


۱. طول شکل های زیر را اندازه بگیرید و جاهای خالی را کامل کن.

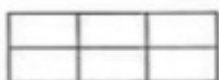


طول خط سانتی متر و قسمت از ۱۰ قسمت است .



طول خط سانتی متر و قسمت از ۱۰ قسمت است .

۲. هر شکل زیر به چند قسمت مساوی تقسیم شده است؟



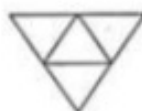
۳. با توجه به کسر زیر هر شکل، از قسمت های مساوی آن رنگ کن.



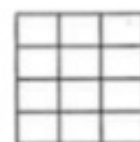
$$\frac{4}{8}$$



$$\frac{1}{3}$$



$$\frac{2}{4}$$



$$\frac{9}{12}$$

۴. یک مربع بکش که طول هر ضلع آن ۳ سانتی متر باشد.

مربع را به ۴ قسمت مساوی تقسیم کن.

۳ قسمت آن را رنگ کن.

قسمت رنگ شده از نصف بیشتر است یا کم تر؟