

نام و نام خانوادگی:

موضوع:

پایه:

تاریخ:

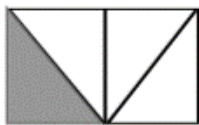
هدف:



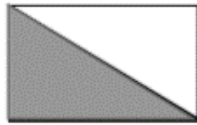
۱- جاهای خالی را کامل کنید.

- * عدد ۱۲ را می توان به صورت ده تایی و قسمت از ۱۰ قسمت بیان کرد.
- * عدد ۲۵ را می توان به صورت ده تایی و قسمت از ۱۰ قسمت بیان کرد.
- * عدد ۳۶ را می توان به صورت ده تایی و قسمت از ۱۰ قسمت بیان کرد.
- * عدد ۶۸ را می توان به صورت ده تایی و قسمت از ۱۰ قسمت بیان کرد.
- * عدد ۸۹ را می توان به صورت ده تایی و قسمت از ۱۰ قسمت بیان کرد.

۲- برای کدام مستطیل نمی توان کسر نوشت؟ چرا؟



شماره ۱



شماره ۲

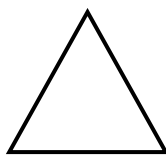


شماره ۳




شماره ۴

۸- شکل های زیر را به قسمتهای خواسته شده، تقسیم کنید و جاهای خالی را کامل کنید.



* مثلث روبرو را به ۳ قسمت مساوی، تقسیم کنید و ۱ قسمت آن را رنگ بزنید.

* قسمت از قسمت مساوی، رنگ شده است.



* دایره ی روبرو را به ۳ قسمت مساوی، تقسیم کنید و ۲ قسمت آن را رنگ بزنید.

* قسمت از قسمت مساوی، رنگ نشده است.



* مربع روبرو را به ۴ قسمت مساوی، تقسیم کنید و ۳ قسمت آن را رنگ بزنید.

* قسمت از قسمت مساوی، رنگ نشده است.

