

نام و نام خانوادگی:

آموزگار: خانم کاشانی

موضوع:

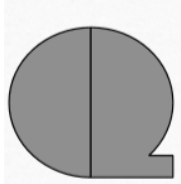
پایه:

تاریخ:

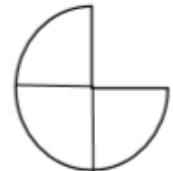

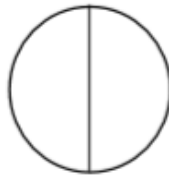
هدف:



۱- آیا می توان گفت که ۲ قسمت از ۲ قسمت مساوی شکل زیر رنگ شده است؟ چرا؟

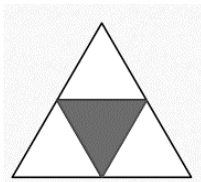


۲- برای کدام شکل نمی توان کسر نوشت؟ چرا؟

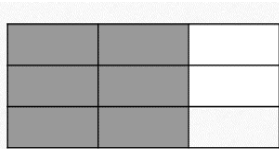


۳- جاهای خالی را کامل کنید.

* قسمت از قسمت مساوی مثلث، رنگ شده است.



* قسمت از قسمت مساوی مستطیل، رنگ نشده است.



* قسمت از قسمت مساوی مربع، رنگ شده است.

