

$$\begin{array}{r} \text{فرآیندی} \\ ۴۸۲ \\ - ۳۷۲ \\ \hline \end{array}$$

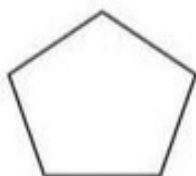
$$\begin{array}{r} \text{فرآیندی} \\ ۵۰۲ \\ + ۳۷۱ \\ \hline \end{array}$$

حاصل جمع و تفریق زیر را بدست بیاورید.

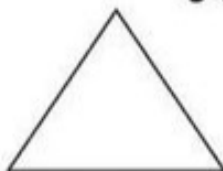
$$\begin{array}{r} \text{تکنیکی} \\ ۴۷۶ \\ + ۵۱۷ \\ \hline \end{array}$$

$$\begin{array}{r} \text{تکنیکی} \\ ۸۷۶ \\ - ۵۸۹ \\ \hline \end{array}$$

در هر شکل تعداد ضلع و گوشه را بنویس.



ضلع:.....
گوشه:.....



ضلع:.....
گوشه:.....

با توجه به شکل عبارت های زیر را کامل کنید.




..... سه تا می شود تا



..... قسمت از قسمت مساوی رنگ شده است.

در یک کلاس معلم قد دانش آموزان را اندازه گیری و جدول زیر را تهیه کرد. با توجه به جدول اندازه قد دانش آموزان را در نمودار ستونی نشان دهید. (هر مربع را ده سانتی متر در نظر بگیرید.

نام دانش آموز	قد
محمد	۸۰
سینا	۹۰
علی	۷۰
حسام	۶۰
نادر	۱۰۰
مسلم	۷۰



طراح: احمد ناروئی

بازخورد آموزگار:
