

ریاضی

۱. جاهای خالی را پر کنید.

-۵۹۲ میلی متر سانتی متر و میلی متر است.

-۳۷۸ سانتی متر ... متر و میلی متر است.

-۳۴ میلی متر سانتی متر است.

-یک ربع قبل از ساعت ۸:۲۵ ساعت است.


- یک عددی سه رقمی است که یکان آن شش تا بیشتر از دهگان و دهگان آن پنج تا کمتر از صدگان و صدگان آن عدد ۸ می باشد.

۲. آقای رحمتی کشاورز است. او هر سال ۷ سبد سیب، ۴ سبد پرتقال و ۳ سبد انار برداشت می کند. اگر قیمت هر سبد سیب ۱۲۶ ریال و هر سبد انار ۱۵۸ ریال و هر جعبه پرتقال به اندازه ی دو جعبه انار باشد محاسبه کنید:

الف. هر سبد پرتقال چند ریال است؟

ب. چند ریال از انار و سیب برداشت کرده است؟

۳. تعداد هر قسمت را با کامل کردن جمله نشان دهید.

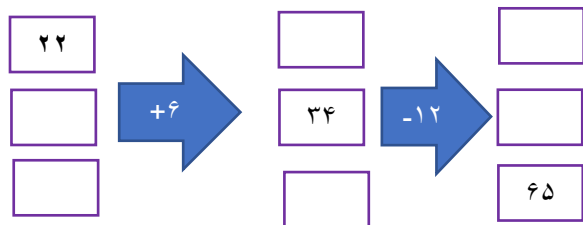


..... تا دسته ی تایی می شود

..... تا دسته ی تایی می شود

..... تا دسته ی تایی می شود

۴. در جای خالی عدد مناسب بنویسید.



۵. قشنگم اعداد زوج را با آبی و اعداد فرد را با رنگ سبز مشخص کن.




۶. الگوها را ادامه دهید.

۱۲۳-۱۴۶-.....

۱-۴-۹-.....

۵-۷-۹-.....

۷. با توجه به نمودار تصویری پاسخ دهید. هر  برابر با عدد ۱۰ است.



گیلاس



آلوزرد



سیب



آلبالو

الف. درختان این باغ چند عدد هستند؟

ب. کدام درخت بیشتر است؟

ج. اختلاف درختان سیب و آلبالو چند تا است؟

د. مجموع درختان سیب و آلوزرد بیشتر است یا مجموع درختان گلاس و آلبالو؟