

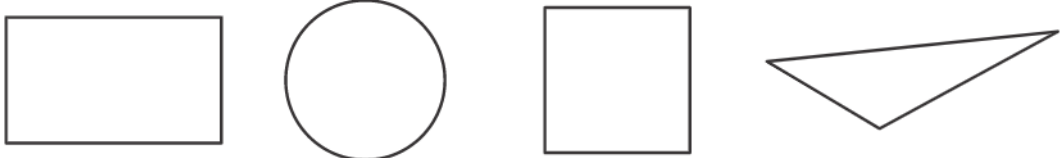


به نام خدا
ارزشیابی نوبت دوم ریاضی

آموزگار:

نام و نام خانوادگی:

	<p>به سؤالات زیر پاسخ دهید. الف) عدد ۳۵۶ را به حروف بنویس..... ب) این عدد چند رقم دارد؟..... ج) این عدد را با حذف رقم یکان و دهگان تقریب بزن و بنویس.....</p>	۱
<p>۹ سانتی متر و ۵ میلی متر <input type="checkbox"/> ۹۰ میلی متر (الف) ۳۰۴ ریال <input type="checkbox"/> ۳۵۴ ریال (ب) ۲۰۰+۱۰۰+۸ <input type="checkbox"/> ۲۰۰+۵۰+۸+۵۰ (ج)</p>	<p>اعداد زیر را مقایسه کنید و علامت \leq بگذارید.</p>	۲
	<p>زهرا برای رفتن به مدرسه ساعت ۶:۲۰ بیدار می شود. او ۳۵ دقیقه زمان میخواهد تا صبحانه بخورد و برای رفتن به مدرسه آماده شود. زهرا چه ساعتی برای رفتن آماده است؟ زمان آن را بنویسید و مقدار حرکت عقربه ی دقیقه را رنگ کنید.</p>	۳
<p>الف) </p> <p>ب) ۴۴۵, ۴۵۰, ۴۵۵,,</p>	<p>الگوهای زیر را ادامه دهید.</p>	۴
	<p>خط تقارن شکل های زیر را بکشید. کدام یک خط تقارن ندارد؟ شکل بی نهایت خط تقارن دارد.</p>	۵

۱۰۰ ۱۰۰ ۱۰۰

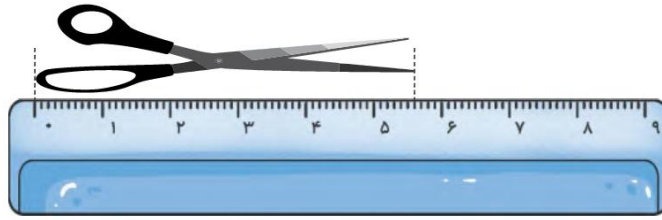
۱۰ ۱۰ ۱۰ ۱۰ ۱۰

۱ ۱ ۱ ۱

رضا قلک خود را شکست . او چند ریال دارد؟ ریال
اگر او ۳۷۰ تومان از پدرش بگیرد ، پول او چند ریال می شود؟

۶

مریم طول قیچی خود را به دو صورت اندازه گیری کرده، جاهای خالی را پر کنید.



طول قیچی سانتی متر و میلی متر است.
طول قیچی میلی متر است.

۷

با عدد های ۹ ، ۲ ، ۵ تا می توانید اعداد ۳ رقمی بنویسید و دور آن هایی که یکان آن ها ۲ است خط بکشید .

۸

خط های زیر را با خط کش اندازه بگیرید و بنویسید .



..... سانتی متر

..... سانتی متر

۹

حاصل جمع و تفریق های زیر را بدست بیاورید .

«روش گسترده نویسی»

«روش تکنیکی»

$$\begin{array}{r} 946 \\ - 235 \\ \hline \end{array}$$

$$\begin{array}{r} 539 \\ + 254 \\ \hline \end{array} \quad \begin{array}{r} 821 \\ - 463 \\ \hline \end{array}$$

۱۰

کدام یک از اعداد زیر فرد است؟ دور آن ها خط بکشید.

۱۳۴-۷۲۵-۲۷۶-۵۶۰-۴۹۲-۴۰-۲۸-۷۱-۸۳-۱۰-۹۹۹

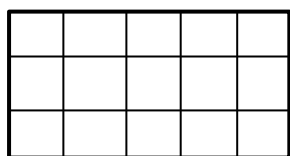
۱۱

نازنین یک کتاب ۳۴۷ صفحه ای دارد. او هفته گذشته ۱۳۰ صفحه و این هفته ۸۹ صفحه خوانده است.
الف) او چند صفحه از کتاب را خوانده؟

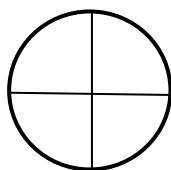
۱۲

ب) چند صفحه از کتاب باقی مانده است؟

با توجه به عبارت نوشته شده ، شکل را رنگ بزن .



۶ قسمت از ۱۵ قسمت



۲ قسمت از ۴ قسمت

۱۳

در جعبه ی مداد رنگی ۲ مداد قرمز ، ۵ مداد آبی و ۳ مداد سبز وجود دارد .

..... مداد از مداد قرمز است.

..... مداد از مداد آبی است .

..... مداد از مداد سبز است .

اگر بدون نگاه کردن به داخل جعبه یک مداد برداریم احتمال برداشتن کدام بیشتر است؟.....

۱۴

شکل را به دو صورت دسته بندی کنید.



..... تا تایی می شود

..... تا تایی می شود

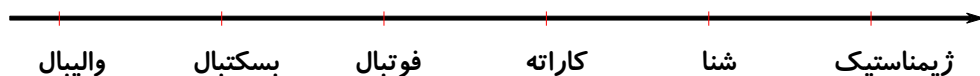
۱۵

تعداد دانش آموزان شرکت کننده در رشته های ورزشی یک باشگاه به صورت زیر است .

تعداد تقریبی دانش آموزان را بنویسید و نمودار را با نشان دادن هر ۱۰ نفر با شکل کامل کنید .

رشته	والیبال	بسکتبال	فوتبال	کاراته	شنا	ژیمناستیک
تعداد	۶۳	۴۸	۳۳	۳۴	۳۸	۲۱
تعداد تقریبی						

۱۶



ن ت	ق ق	خ	خ خ	ملاک
				اعداد سه رقمی را به عدد و حروف می نویسد و مقایسه می کند.
				الگویابی عددی و هندسی را انجام می دهد.
				طول خطوط اشکال را با واحد سانتی متر و میلی متر اندازه می گیرد.
				ساعت قبل و بعد را می داند.
				مسئله ها را به صورت منظم حل می کند.
				اعداد را از راه گسترده نویسی و انتقال جمع و تفریق می کند.
				اشکال هندسی را می شناسد و خط تقارن های آن ها را می کشد.
				کسر ها را می داند و از شکل تشخیص داده و رنگ می کند.
				اعداد زوج و فرد را می شناسد.
				اشکال را به خوبی دسته بندی می کند و ضرب آن ها را می نویسد.
				با توجه به نمودار تصویری به سوالات پاسخ می دهد.