



موضوع: ریاضی دوم دبستان

پایه دوم

نام و نام خانوادگی:

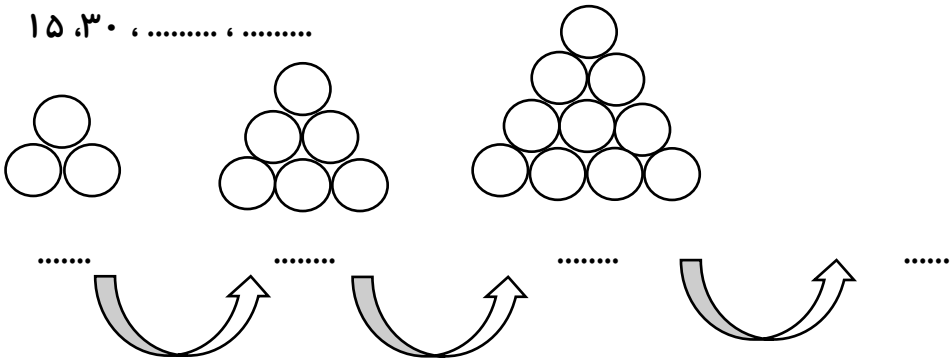
هدف: دوره و مرور کل کتاب (یادآوری)

آموزگار: خانم کاشانی

۱- الگوهای زیر را ادامه بده.

۴، ۸، ۱۳،،

۱۵، ۳۰،،



۲- یک عدد دو رقمی بنویس که رقم یکان آن، ۵ و رقم دهگان آن ۴ تا بیشتر از رقم یکان آن باشد.

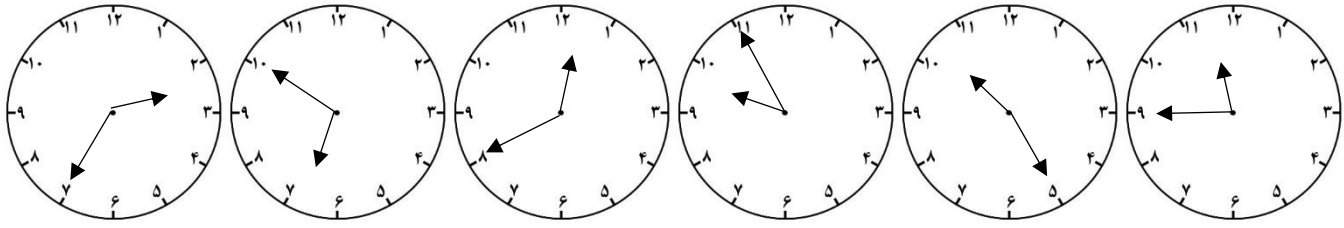
۳- یک عدد دو رقمی بنویس که رقم دهگان آن ۶ و رقم یکان آن، ۲ تا کمتر از رقم دهگان آن باشد.

۴- با سه کارت که روی آنها اعداد $\boxed{۱}$ ، $\boxed{۸}$ و $\boxed{۵}$ نوشته شده است، چند عدد دو رقمی می توان نوشت؟

.....

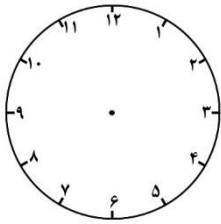
* کوچکترین عدد کدام است؟ بزرگترین عدد کدام است؟

۵- ساعت چند است؟

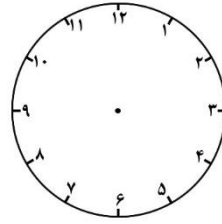


.....

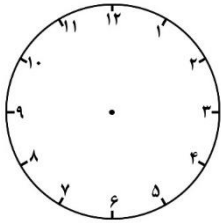
۶- زمان خواسته شده را نشان بده.



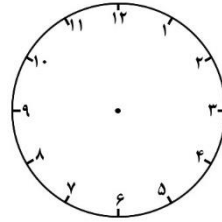
* ساعت دوازده و ربع



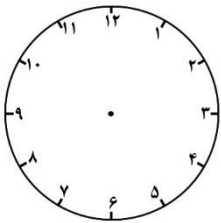
* یک ربع از ساعت ۲ گذشته



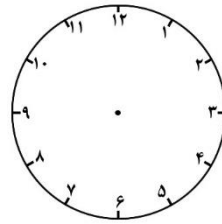
* ساعت پنج و نیم



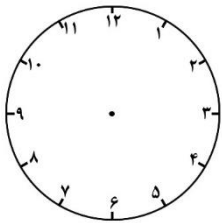
* ساعت ۶:۲۲ دقیقه



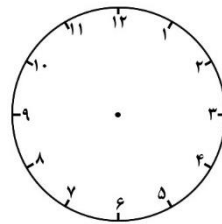
* سه ربع از ساعت ۷ گذشته



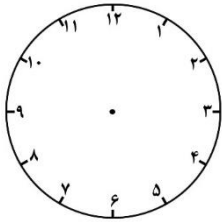
* دو ربع به ساعت ۴ مانده



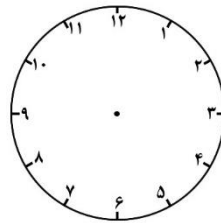
* نیم ساعت به ۸ مانده



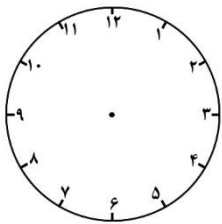
* یک ربع به ساعت ۹ مانده



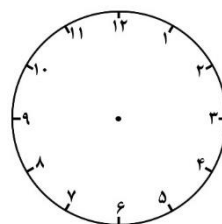
* نیم ساعت از ۳ گذشته



* ۱۰ دقیقه به ساعت ۱۰ مانده

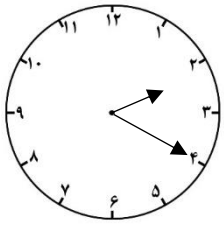


* سه ربع به ساعت ۲ مانده

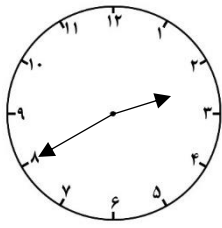


* دو ربع از ساعت ۱ گذشته

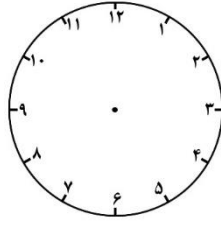
۷- الگو را ادامه بده.



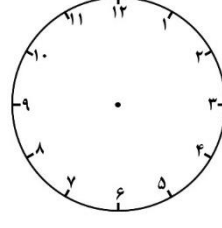
.....



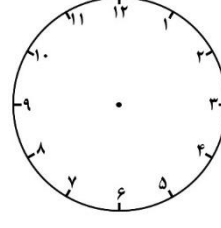
.....



.....



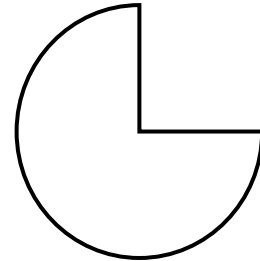

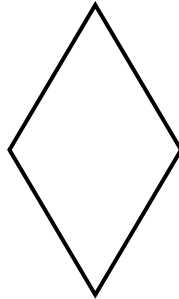


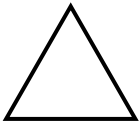


.....

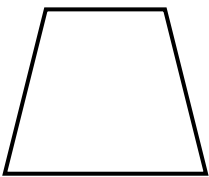


.....

۸- خط تقارن شکل‌های زیر را بکش و به سوالات زیر پاسخ بده.

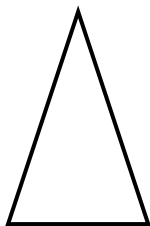
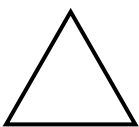


۹- دو شکل روبرو را با هم مقایسه کن.



..... شباهت:

..... تفاوت:



..... شباهت:

..... تفاوت:

۱۰- علامت <=> بگذار.

$948 \square 359$

$275 \square 425$

$557 \square 298$

$157 \square 159$

$25+5-10 \square 40-20$

$9+9-2 \square 8+4+3$

$10-6+9 \square 8+6+2$

۱۱- جاهای خالی را کامل کن.

* ۲۸۰ ریال را می‌توانیم با سکه‌ی صد ریالی و سکه‌ی ده ریالی عوض کنیم.

* ۶۵۰ ریال را می‌توانیم با سکه‌ی صد ریالی و سکه‌ی ده ریالی عوض کنیم.

* با سکه‌های ۱۰۰ ریالی و ۵۰ ریالی به چند روش می‌توان ۴۰۰ ریال درست کرد؟

۱۲- جمع و تفریق زیر را به صورت فرآیندی، حل کن.

$\begin{array}{r} 140 \\ + \\ \hline 325 \end{array}$	$\begin{array}{r} 657 \\ - \\ \hline 222 \end{array}$
---	---

۱۳- باز شده‌ی اعداد زیر را بنویس.

$789 =$

$280 =$

$905 =$

$200 =$

۱۴- تقریب بزن.

$85 =$

$97 =$

$36 =$



$21 =$

$12 =$

$942 =$ (با حذف رقم یکان و دهگان)

$673 =$ (با حذف رقم یکان)

۱۵- خطوط زیر را با خط کش اندازه بگیر.



۱۶- جاهای خالی را کامل کن.

* ۱۰ میلی متر سانتی متر است.

* ۵ سانتی متر میلی متر است.

* ۳۰ میلی متر سانتی متر است.

* ۱۴۰ میلی متر سانتی متر است.

* ۱۱ میلی متر سانتی متر و میلی متر است.

* ۹ میلی متر و ۵ سانتی متر میلی متر است.

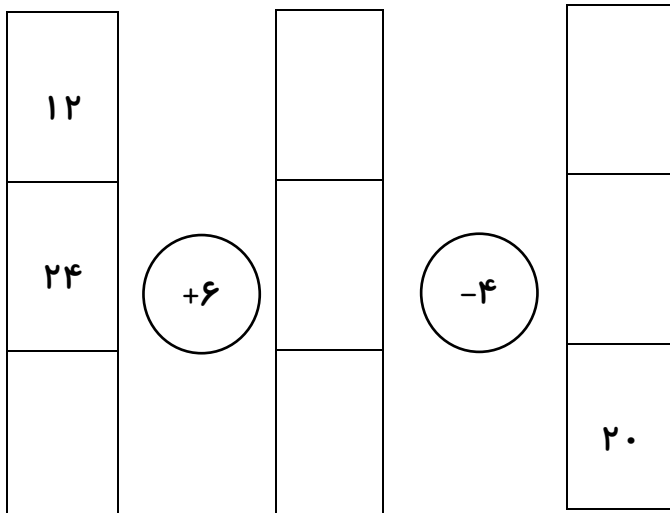
* ۲۸۴ میلی متر سانتی متر و میلی متر است.

۱۷- حدس و آزمایش

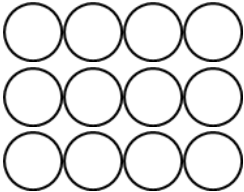

$$۲۵ + \square = ۶۳$$

$$۴۷ - \square = ۱۶$$

۱۸- جاهای خالی را کامل کن.



۱۹- شکل‌های روبرو را به صورتهای مختلف دسته بندی کن و جاهای خالی را کامل کن.

 <p>..... دسته‌ی تایی، می شود دسته‌ی تایی، می شود</p>	 <p>..... دسته‌ی تایی، می شود دسته‌ی تایی، می شود</p>
---	---

۲۰- جمع و تفریق‌های زیر را به صورت انتقالی (تکنیکی) حل کن.

$\begin{array}{r} 385 \\ + 496 \\ \hline \end{array}$	$\begin{array}{r} 500 \\ - 189 \\ \hline \end{array}$
$\begin{array}{r} 453 \\ - 298 \\ \hline \end{array}$	$\begin{array}{r} 605 \\ - 278 \\ \hline \end{array}$

$$\begin{array}{r} 621 \\ + 299 \\ \hline \end{array}$$

$$\begin{array}{r} 354 \\ + 477 \\ \hline \end{array}$$

$$\begin{array}{r} 300 \\ - 156 \\ \hline \end{array}$$

$$\begin{array}{r} 101 \\ - 38 \\ \hline \end{array}$$

$$\begin{array}{r} 575 \\ + 327 \\ \hline \end{array}$$

$$\begin{array}{r} 748 \\ + 59 \\ \hline \end{array}$$

$$\begin{array}{r} 900 \\ - 640 \\ \hline \end{array}$$

$$\begin{array}{r} 294 \\ + 536 \\ \hline \end{array}$$

$$\begin{array}{r} 807 \\ - 459 \\ \hline \end{array}$$

$$\begin{array}{r} 324 \\ - 145 \\ \hline \end{array}$$

$$\begin{array}{r} 715 \\ - \\ \hline 236 \end{array}$$

$$\begin{array}{r} 639 \\ - \\ \hline 242 \end{array}$$

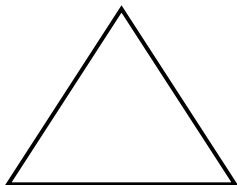
$$\begin{array}{r} 901 \\ - \\ \hline 376 \end{array}$$

$$\begin{array}{r} 855 \\ - \\ \hline 499 \end{array}$$

$$\begin{array}{r} 299 \\ + \\ \hline 479 \end{array}$$


$$\begin{array}{r} 600 \\ - \\ \hline 188 \end{array}$$

۲۱- اشکال زیر را به قسمتهای خواسته شده، تقسیم کن و جاهای خالی را کامل کن.



* مثلث روبرو را به ۴ قسمت مساوی تقسیم کن و ۲ قسمت آن را رنگ بزن.

..... قسمت از قسمت مساوی، رنگ شده است.



* دایره‌ی روبرو را به ۳ قسمت مساوی، تقسیم کن و هر ۳ قسمت آن را رنگ بزن.

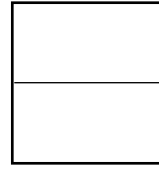
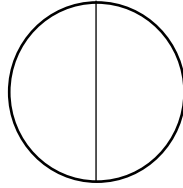

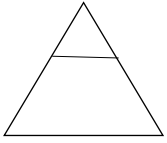
..... قسمت از قسمت مساوی، رنگ شده است.



* مستطیل روبرو را به ۶ قسمت مساوی، تقسیم کن و ۵ قسمت آن را رنگ بزن.

..... قسمت از قسمت مساوی، رنگ نشده است.

۲۲- برای کدام شکل نمی توان کسر نوشت؟ چرا؟



۲۳- درون کیسه‌ای، ۳ مداد قرمز، ۴ مداد آبی و ۸ مداد سیاه است.

پس ۳ مداد از مداد، قرمز است.

..... مداد از ۱۵ مداد، آبی و سیاه است.

اگر یک مداد از کیسه بیرون بیاوریم، کدام رنگ احتمال بیشتری دارد که از کیسه بیرون بیاید؟ چرا؟

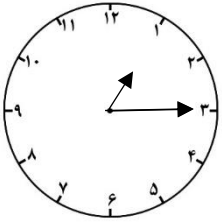
.....

۲۴- کتاب مریم، ۳۷۵ صفحه دارد. او هفته‌ی گذشته، جمعا ۷۵ صفحه و این هفته جمعا ۷۰ صفحه از کتابش را خوانده است. مریم چند صفحه از کتاب را نخوانده است؟

۲۵- علی، ۱۴۷ امتیاز داشت. ابتدا به یک سوال ۹ امتیازی پاسخ درست داد. سپس با یک سوال ۱۰ امتیاز از دست داد. حالا او چند امتیاز دارد؟

۲۶- قد امین ۱۳۷ سانتی‌متر است. قد خواهرش ۹ سانتی‌متر از او بلندتر است. قد خواهرش چند سانتی‌متر است؟

۲۷- ساعت چند است؟



* اگر عقربه‌ی بزرگ، یک ربع بچرخد.

* حالا ساعت چند است؟

* مقدار چرخش آن را رنگ کنید.

* بگویید مقدر چرخش عقربه‌ی بزرگ، چند قسمت از صفحه‌ی ساعت است؟

۲۸- از اعداد ۰ تا ۳۰، تمامی اعداد زوج را بنویس.

.....

۲۹- از اعداد ۱ تا ۲۹، تمامی اعداد فرد را بنویس.

.....

عزیزانم موفق باشید.