

نام و نام خانوادگی: تاریخ: نام آموزگار:




ریاضی ◀ دوره‌ی سال گذشته

علوم ◀ دوره‌ی سال گذشته


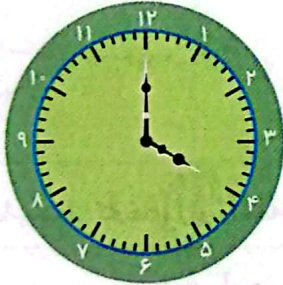
فارسی ◀ دوره‌ی سال گذشته

ریاضی


۱ هر کدام از شکل‌های زیر چه عددی را نشان می‌دهد؟



۲ هر ساعت چه زمانی را نشان می‌دهد؟



۳ تعداد شکل‌ها را شمرده و سپس با چوب خط در جدول نشان دهید و هر عدد را به حروف بنویسید.



| | | | | |
|--------|---|---|---|---|
| شکل | ○ | △ | □ | ▭ |
| چوب خط | | | | |
| حروف | | | | |

۴ در شکل داده شده دسته‌های ده تایی درست کنید و در جاهای خالی عدد مناسب بنویسید.



یکی و ده تایی

به حرف:

به عدد:


۵ عددهای قبل و بعد هر کدام از اعداد زیر را بنویسید.

الف) -۹۰- (الف)

ب) -۶۴- -۶۶- (ب)

علوم

۱ هر جمله را به شکل مناسب آن وصل کرده و جای خالی را کامل کنید.



⊕ مسؤل رساندن آب به گیاه است.

⊕ از کرفس، خورشت خوشمزه‌ای درست می‌شود.

⊕ کاهو های پهن دارد.

۲ کدام یک از کارهای زیر را همه‌ی جانوران انجام می‌دهند؟ (دور آن‌ها خط بکشید.)

همه‌ی آن‌ها رشد می‌کنند.

همه‌ی آن‌ها پرواز می‌کنند.

همه‌ی آن‌ها تخم می‌گذارند.

همه‌ی آن‌ها حرکت می‌کنند.

همه‌ی آن‌ها غذا می‌خورند.

همه‌ی آن‌ها شنا می‌کنند.

۳ به نظر شما کدام یک از وسایل زیر، روی آب شناور می‌مانند؟



۴ هر وسیله را به عبارت درست خود وصل کنید.

جاروبرقی

قیچی

وسایل ساده

چرخ خیاطی


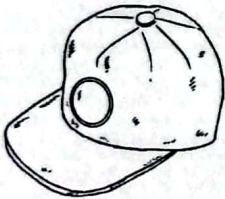
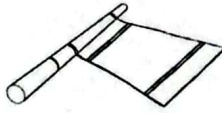
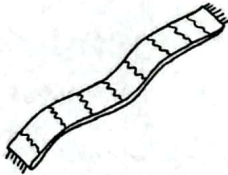
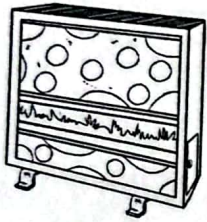
کارد یا چاقو

وسایل پیچیده

کلید

ماشین

۵ برای این که گرم شوید کدام یک از وسایل زیر را باید انتخاب کنید؟ آن‌ها را رنگ کنید.



فارسی

۱ برای هر نشانه یک کلمه بنویسید.

ت (آ):

پ (م):

ب (ذ):

الف (غ):

۲ با توجه به کلمات زیر، هر یک را در جای مناسب خود قرار دهید.

فصل - آشنا - دعا - کشاورزان - شکوفه - ورزشکاری - درو - شب،

چهار بخشی

سه بخشی

دو بخشی

یک بخشی

.....

.....

.....

.....

.....


.....

.....

.....

نام تصاویر زیر را در جدول پیدا کرده و سپس رنگ کنید.

| | | | | |
|---|---|---|---|---|
| ا | د | ا | ن | ه |
| ن | ش | ف | ر | ش |
| ا | ت | و | ت | ش |
| ر | ش | ت | ر | ش |
| ک | ب | و | ت | ر |



متن داده شده را بخوانید و برای آن یک نقاشی بکشید و به سوالات پاسخ دهید.

ماه مهر بود. سارا و امیر برای رفتن به مدرسه بسیار خوشحال بودند. آن‌ها صدای تیک تیک ساعت را می‌شنیدند که زمان رفتن به مدرسه را اعلام می‌کرد. مادر میز صبحانه را چیده و در انتظار آمدن بچه‌ها در کنار میز نشسته بود. سارا و امیر با خوشحالی از این‌که به مدرسه می‌روند در کنار پدر و مادر صبحانه‌ی خود را خوردند.

الف) چرا سارا و امیر خوش حال بودند؟

ب) چه صدایی زمان رفتن به مدرسه را اعلام می‌کرد؟

پ) چه کسی میز صبحانه را چیده بود؟

- ویژگی جانوران
- اجسام سبک و سنگین
- وسایل ساده و پیچیده
- ساخت کلمه
- جست و جوی کلمه
- درک مطلب

- شمارش اشکال
- خواندن و نوشتن ساعت
- رسم چوب خط
- دسته بندی
- ترتیب اعداد قبل و بعد
- شناخت گیاهان

شاخص‌ها

- خیلی خوب
- خوب
- قابل قبول
- نیاز به تلاش بیشتر