

دنيا

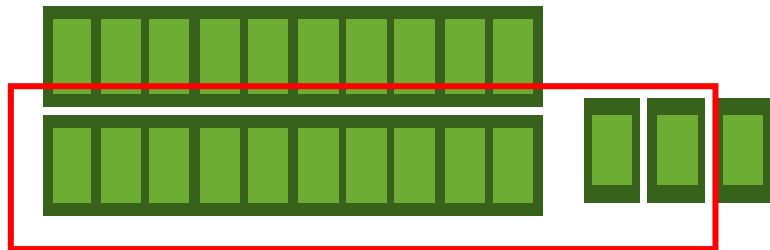


9




۱- علی ۲۳ تا کتاب دارد. ۱۲ تا از آنها کتاب داستان و بقیه کتاب علمی است. علی چند کتاب علمی دارد؟

( در این جا به جای کتاب از مربع استفاده کرده ایم.)



علی ..... کتاب علمی دارد.

۲- زهرا ۳۷ عکس دارد. ۲۳ تا از عکس‌ها رنگی و بقیه سیاه و سفید هستند. زهرا چند عکس سیاه و سفید دارد؟



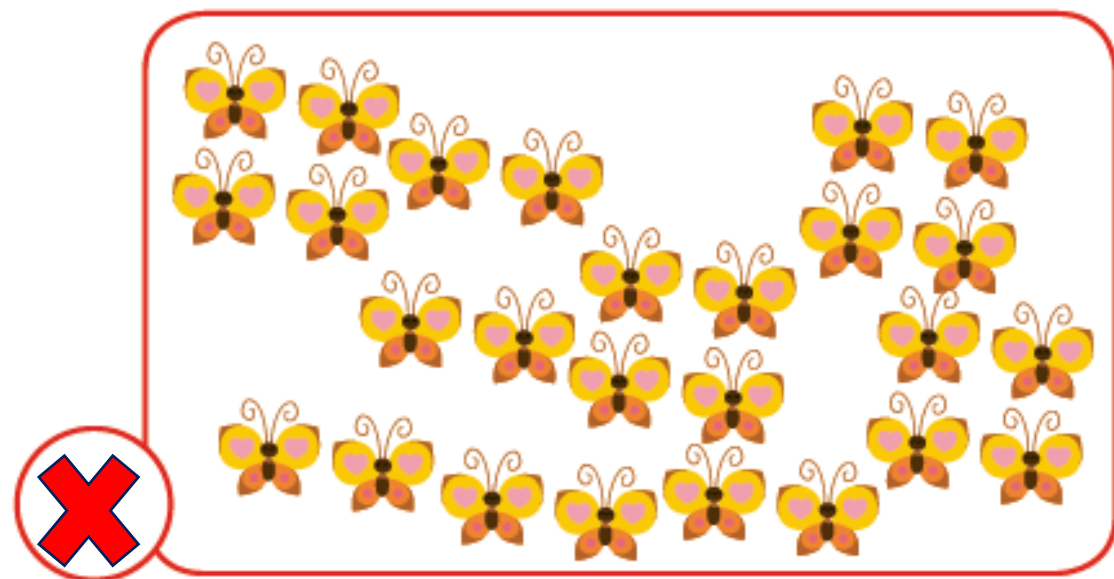

زهرا ۱۴ عکس سیاه و سفید دارد.

۳- شکل زیر چه عددی را نشان می‌دهد؟ با رسم شکل پنجمین عدد بعد از آن را بنویسید. ۱۳

پنجمین عدد بعد از آن ۱۸ است.

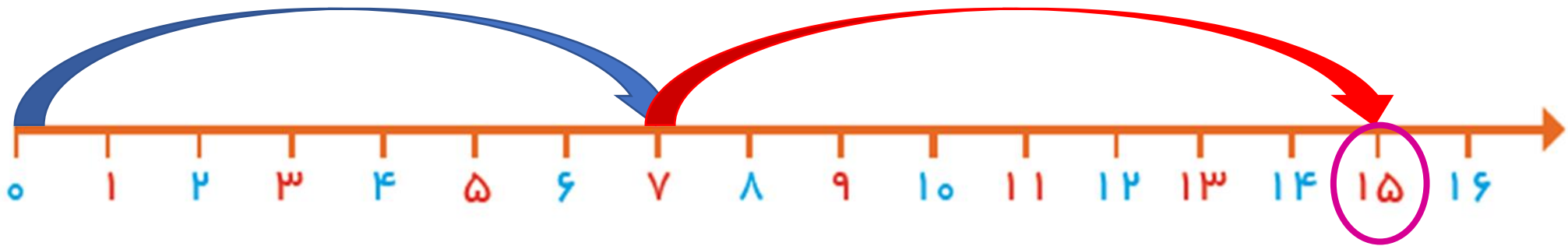


در کدام قسمت تعداد شکل‌ها بیشتر است؟  $\times$  بزنید.



حالا شکل‌ها را بشمارید. آیا حدس شما درست بود؟ **بله**

۱- امروز روز هفتم ماه است. ۸ روز بعد، چه روزی از ماه است؟ **پانزدهم** ماه است.



۲- سینا ۱۲ کتاب دارد. امروز ۵ تا کتاب دیگر خرید. حالا چند کتاب دارد؟ **هفده** کتاب دارد.

۱- به تعداد عددهایی که می خواهید با هم جمع کنید از

رنگ های متفاوت استفاده کنید .

۲- خط ها را ادامه دار بکشید .

