



فعالیت کلاسی



تعداد جوجه‌ها و درخت‌ها را بشمار و به عدد و حروف بنویس.

۱



تعداد جوجه‌ها


به عدد: ۱۸

به حروف: هجده


تعداد درخت‌ها


به عدد: ۹


به حروف: نه

برای این که شمارش دقیقی داشته باشی کدام کارها را انجام دادی؟ شکل  مقابل آن را رنگ کن.

۲

از یک طرف شروع به شمارش کردم. 

به ترتیب شمردم. 

روی هر شکل که شماره علامت زدم. 



۲ برای این که شمارش دقیقی داشته باشی کدام کارها را انجام دادی؟ شکل مقابل آن را رنگ کن.

- ✓ از یک طرف شروع به شمارش کردم.
- ✓ به ترتیب شمردم.
- ✓ روی هر شکلی که شمردم علامت زدم.

۲ تعداد کتابهای داخل کیف خود را سرشماری کن و با چوبخط نشان بده.

کتابهای من	چوبخط		
	تعداد به عدد		

۴ تعداد کتابهای خودت و دوستت را بنویس و در علامت مناسب (< = >) بگذار.

تعداد کتابهای دوستم تعداد کتابهای من

۵ جدول زیر را با نوشتن عددها از ۰ تا ۹ کامل کن.

به عدد		۰	۱	۲	۳	۴	۵	۶	۷	۸	۹
--------	--	---	---	---	---	---	---	---	---	---	---

۴ تعداد کتابهای خودت و دوستت را بنویس و در () علامت مناسب (< = >) بگذار.

تعداد کتابهای دوستم... ۵... > ... ۷... تعداد کتابهای من

۵ جدول زیر را با نوشتن عددها از ۰ تا ۹ کامل کن.

به عدد	۰	۱	۲	۳	۴	۵	۶	۷	۸	۹
به حروف	صفر	یک	دو	سه	چهار	پنج	شش	هفت	هشت	نه
به لاتین (انگلیسی)	0	1	2	3	4	5	6	7	8	9

۶ هر ساعت چه زمانی را نشان می دهد؟



ساعت ۵:۰۰

ساعت ۱۱:۰۰

ساعت ۳:۰۰


ساعت ۱:۰۰

فعالیت کلاسی



با توجه به شکل‌ها، جدول و جاهای خالی را پر کن.

1



ده تایی	یکی
۴	۶

به حروف: چهل و شش

به رقم: ۴۶



ده تایی	یکی
۲	۶

به حروف: بیست و شش

به رقم: ۲۶

جاهای خالی را کامل کن.

۲

Search Highlight

Export PDF

Adobe Export PDF

Convert PDF Files to Word or Excel Online

Select PDF File

Book Riazi ...pressed.pdf

Convert to

Microsoft Word (*.docx)

Document Language: English (U.S.) Change

Convert

Frit PDF

Convert and edit PDF with Acrobat Pro D

Start Free Trial

جاهای خالی را کامل کن. ۲

۷ یکی و ۷ ده تایی می شود ۷۷

۹ یکی و ۸ ده تایی می شود ۸۹

۵ یکی و ۵ ده تایی می شود ۵۵

۶ یکی و ۳ ده تایی می شود ۳۶

۳ ده تایی و ۵ یکی برابر است با ۳۵

۸ ده تایی و ۳ یکی برابر است با ۸۳

۴ ده تایی و ۵ یکی برابر است با ۴۵

۴ یکی و ۶ ده تایی برابر است با ۶۴

دور رقم یکان هر عدد خط بکش و جاهای خالی را کامل کن. ۲

رقم یکان عدد ۵۵ صفر است.


رقم یکان عدد ۳۶ ۶ است.

الف: عدد ۶۳ چند رقم دارد؟ ۲ رقم های آن ۳ و ۶ می باشد.

ب: با رقم های عدد ۶۳ چند عدد دو رقمی دیگر می توانی بنویسی؟ ۳۶ - ۳۳ - ۶۶

تمام عددهای دو رقمی که با کارت های ۵، ۰، ۹ می توان نوشت را، بنویس. ۵

۳۶	۴۷	۴۵
۶۴	۷۲	۵۵



Search 'highlight'

Export PDF

Adobe Export PDF

Convert PDF Files to Word or Excel Online

Select PDF File

Book Riazi ...pressed.pdf

Convert to

Microsoft Word (*.docx)

Document Language:

English (U.S.) Change

Convert

Frit PDF



Convert and edit PDF with Acrobat Pro DC

Start Free Trial

می توان نوشت را، بنویس.

۵۰-۵۹-


تا از یکنش کم تر باشد.





می توان نوشت را، بنویس.

۵۰-۵۹-۹۵-۹۰



و دهگان ۴ تا از یکان کم تر باشد.



۵۰-۵۹-۹۵-۹۰

می توان نوشت را، بنویس.

۵ ۰ ۹

تک‌انگیزه
تمام عددهای دورقمی که با کارت‌های

۵

عددی دورقمی بنویس که یکانش ۷ و دهگانش ۴ تا از یکانش کم‌تر باشد.

۶

$$\frac{۳}{۷} > \frac{۷}{۵}$$

رقم دهگان: $۷ - ۴ = ۳$

ریاضی دوم دبستان

