


فعالیت کلاسی



۱ با توجه به شکل‌ها، جدول و جاهای خالی را پر کن.



ده تایی	یکی
۴	۶

به حروف: چهل و شش

به رقم: ۴۶



ده تایی	یکی
۲	۴

به حروف: سی و شش

به رقم: ۲۴

۲ جاهای خالی را کامل کن.

۷ یکی و ۷ ده تایی می شود ۷۷

۹ یکی و ۸ ده تایی می شود ۸۹

۵ یکی و ۵ ده تایی می شود ۵۵

۶ یکی و ۳ ده تایی می شود ۳۶

۳۵ برابر است با ۵ یکی و ۳ ده تایی

۸۳ برابر است با ۳ یکی و ۸ ده تایی


۴۰ برابر است با ۰ یکی و ۴ ده تایی

۶۴ برابر است با ۴ یکی و ۶ ده تایی

۳ دور رقم یکان هر عدد خط بکش و جاهای خالی را کامل کن.

رقم یکان عدد ۵۰ صفر است.

رقم یکان عدد ۳۶ ۶ است.



۴ الف: عدد ۶۳ چند رقم دارد؟ ۲ رقم های آن ۳ و ۴ می باشد.

ب: با رقم های عدد ۶۳ چند عدد دو رقمی دیگر می توانی بنویسی؟
۳۳ - ۴۴ - ۳۶ - ۴۵

۵ تمام عددهای دو رقمی که با کارت های ۵، ۰، ۹ می توان نوشت را، بنویس.

۵۰ - ۵۹ - ۹۰ - ۹۵









۶ عددی دورقمی بنویس که یکانش ۷ و دهگانش ۴ تا از یکانش کم تر باشد. ۳۷

$$۷ - ۴ = ۳$$

۷	۴
۳	۷










تمرین

هر عبارت را به پاسخ صحیح آن وصل کن.

- ۱۰   بزرگ‌ترین عدد دو رقمی با رقم یکان ۷
- ۱۹   حاصل جمع رقم‌های عدد ۶۴
- ۹۷   عدد دو رقمی با رقم یکان و دهگان برابر
- ۳۳   حاصل جمع بزرگ‌ترین عدد یک رقمی و کوچک‌ترین عدد دو رقمی

۲	۳	۶	۹	✓	۴	۸	۱	۵
۵	۹	۷	۱	۲	۸	۳	۴	۶
۱	۸	۴	۳	۶	۵	۲	۷	۹
۷	۲	۸	۵	۴	۶	۱	۹	۳
۶	۱	۹	۸	۳	۲	✓	۵	۴
۳	۴	۵	✓	۹	۱	۶	۲	۸
۸	۵	۳	۲	۱	۹	۴	۶	۷
۴	✓	۲	۶	۵	۳	۹	۸	۱
۹	۶	۱	۴	۸	✓	۵	۳	۲

با توجه به راهنمای رنگ آمیزی اعداد را رنگ کرده و چوب‌خط مربوط به هر عدد را بکش. ۷

۱ → 	۴ → 	۷ → 
۲ → 	۵ → 	۸ → 
۳ → 	۶ → 	۹ → 

۹ ۴ ۶ ۵ ۱ ۲ ۶ ۸ ۹

۳ ۵ ۴ ۲ ۷ ۸ ۴ ۲ ۳

- سبز
- قرمز
- آبی
- قهوه‌ای
- سیاه
- صورتی
- زرد
- بنفش
- نارنجی

۸ در شکل زیر، کیک‌های تولد نیما، مینا، مانی و مانا را نشان داده‌ایم.



مانا ۱۰



مانی ۸ شمع



مینا ۸ شمع



نیما ۷ شمع

کدام یک از بچه‌ها از همه بزرگ‌تر است؟

۴ مانا

۳ مانی

۲ مینا

۱ نیما

زنگ تفریح

عدد یک در خط میخی به صورت \top و عدد ده به صورت \llcorner نوشته می‌شود بر همین اساس عدد یازده $\top \llcorner$ عدد بیست $\llcorner \llcorner$ می‌باشد. می‌توانی حدس بزنی عدد سی چگونه نوشته می‌شود؟