


جمع و تفریق



۱ - حاصل جمع و تفریق‌ها را با انگشتان خود به دست آورید.

$$۴ + ۳ = ۷$$

$$۲ + ۴ = ۷$$

$$۸ - ۴ = ۴$$

$$۷ - ۵ = ۲$$




۲ - حاصل جمع‌ها را با رسم چوب خط پیدا کنید.

$$۷ + ۸ = ۱۵$$




$$۶ + ۶ = ۱۲$$



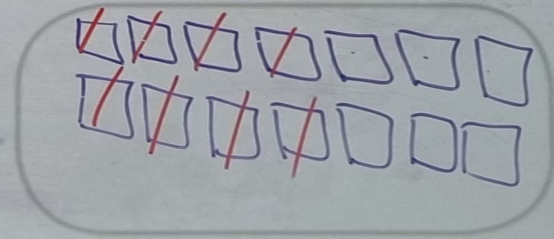
فَعَالِيَّت

۳ - حاصل تفریق‌ها را با رسم شکل پیدا کنید.

$$۱۲ - ۷ = ۵$$




$$۱۴ - ۸ = ۶$$



۴- حاصل جمع‌ها را با رنگ کردن مربع‌ها به دست آورید.

$$۴ + ۶ + ۷ = ۱۷$$

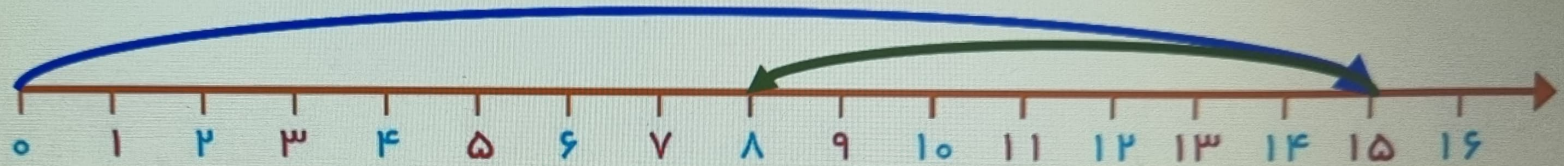


$$۳ + ۴ + ۵ + ۶ = ۱۸$$

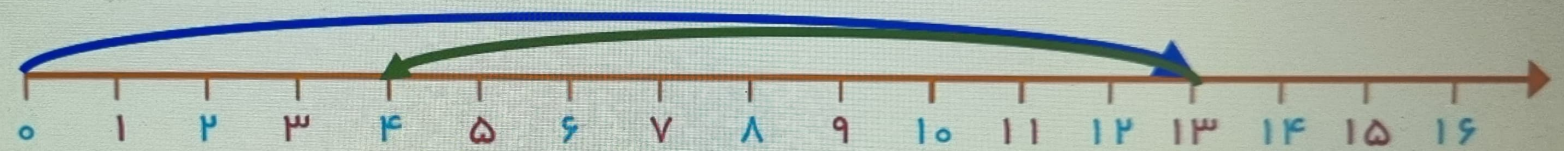


۵- حاصل تفریق‌ها را با استفاده از محور به دست آورید.

$$۱۵ - ۷ = ۸$$




$$۱۳ - ۹ = ۴$$



در کلاس اول دبستان روش‌های مختلفی را برای پیدا کردن حاصل جمع و تفریق یاد گرفتید. در فعالیت بالا این راه‌ها یادآوری شده است.

حاصل جمع‌ها و تفریق‌های زیر را از هر راهی که دوست دارید، به دست آورید.


$$۶ + ۷ = ۱۳$$





$$۱۴ - ۸ = ۶$$



$$۸ + ۹ = ۱۷$$



$$۱۱ - ۵ =$$



کار در کلاس

۲- در کلاس اول شمارش ۵ تا ۵ تا و ۱۰ تا ۱۰ تا را یاد گرفته‌اید. حالا الگوها را ادامه دهید.

۵, ۱۰, ۱۵, ۲۰, ۲۵, ۳۰, ۳۵, ۴۰, ۴۵, ۵۰, ۵۵, ۶۰

۱۰, ۲۰, ۳۰, ۴۰, ۵۰, ۶۰, ۷۰, ۸۰, ۹۰

$$۱۰ + ۲۰ + ۵ = ۳۵$$

حاصل جمع‌ها را به دست آورید.

$$۵ + ۵ + ۲۰ + ۳۰ = ۶۰$$

$$۴۰ + ۵ + ۱۰ + ۵ + ۵ = ۶۵$$

$$۱۰ + ۵ + ۲۰ + ۵ + ۳ = ۴۳$$

$$۳ + ۴ + ۱۰ + ۲۰ + ۵ + ۵ = ۴۷$$


$$۲ + ۵ + ۲۰ + ۱۰ + ۵ = ۴۲$$

$$۱۰ + ۵ + ۲۰ + ۵ + ۳۰ + ۵ = ۷۵$$



کار در
کلاس

ساعت از چند گذشته است؟



ساعت به چند مانده است؟

