


یکی از دانش آموزان برای شمارش ۴ تا ۴، مربع‌ها را با استفاده از مداد رنگی‌های مختلف رنگ کرده و آن‌ها را شمرده است. شما با ادامه دادن رنگ‌ها الگوی شمارش را کامل کنید.



فعالیت

۴, ۸, ۱۲, ۱۶, ۲۰, ۲۴, ۲۸, ۳۲, ۳۶, ۴۰



کار در کلاس




هر کس برای شمارش روشی دارد. برای مثال یکی از دانش آموزان برای شمارش تعداد خانه‌های شکل روبه‌رو، دسته‌های ۵ تایی جدا کرده و تعداد را به دست آورده است.


او برای دسته‌بندی از رسم خطوط روی خانه استفاده کرده است.

۲۱

حالا شما با روش خود تعداد خانه‌های شکل‌های زیر را بشمارید و کنار آن بنویسید.




۲۸




با شابلون و رسم ۴ مربع شکل بسازید.

خلاق باش


در منزل حل شود



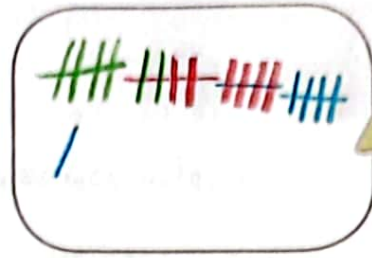
۱- حاصل جمع‌های زیر را به دست آورید. (از رسم شکل یا چوب خط استفاده کنید).



$$4 + 7 + 4 = 15$$



$$6 + 6 + 6 = 18$$



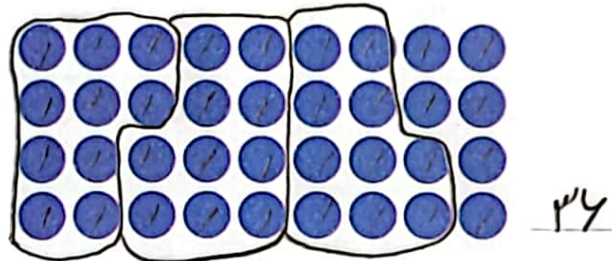
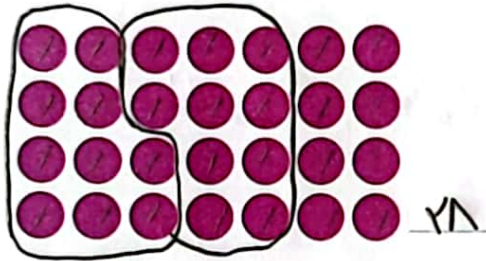
$$7 + 7 + 7 = 21$$

۸, ۱۶, ۲۴, ۳۲
 $+8$ $+8$ $+8$


۲- در شمارش ۸ تا ۸ تا، عدد بعد از ۲۴ را پیدا کنید.

۳- در شمارش ۵ تا ۵ تا، عدد قبل از ۴۰ چند است؟ (۳۵)

۴- تعداد دایره‌ها را بشمارید و بنویسید. ۵ - ۱۰ - ۱۵ - ۲۰ - ۲۵ - ۳۰ - **۳۵** - ۴۰ -



۵- با توجه به راهنما، شکل را رنگ کنید.



در منزل حل شود.

