

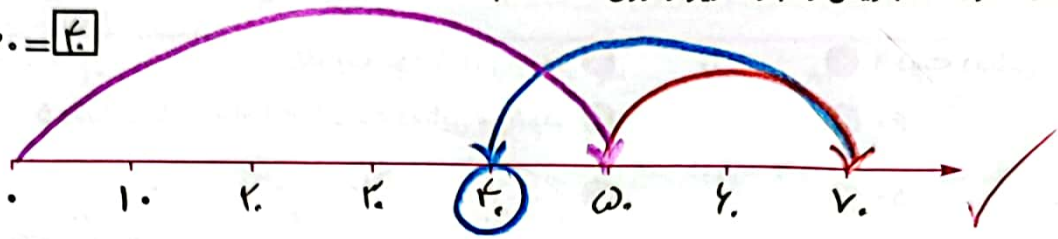
۱۴۰۲ / ۱۸ / ۰۳

فعالیت کلاسی




برای محور عدد بنویس و عبارت زیر را روی آن نشان بده.

$50 + 20 - 30 = \boxed{40}$



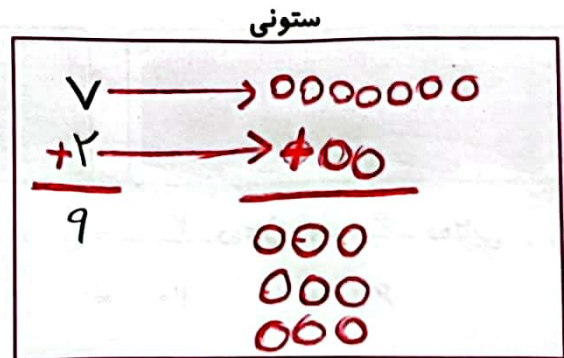
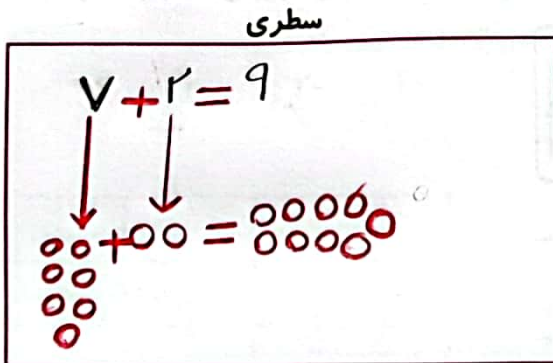
برای هر شکل جمع یا تفریق بنویس.



$40 + 30 = 70$

$70 - 20 = 50$

درنا ۷ تیله و برنا ۲ تیله دارند. جمع تیله‌های آن‌ها را به دو صورت سطری و ستونی با رسم شکل بنویس.



حاصل جمع و تفریق‌های زیر را پیدا کن.

$60 + 30 = \boxed{90}$

$70 - 30 = \boxed{40}$

$50 + 30 = \boxed{80}$

$30 + 30 = \boxed{60}$

$80 - 10 = \boxed{70}$

$10 + 70 = \boxed{80}$

مقدار تقریبی عددهای زیر را روی محور نشان بده.

۴۸ - ۱۶ - ۳۷ - ۸۳ - ۷۵ - ۱۲

