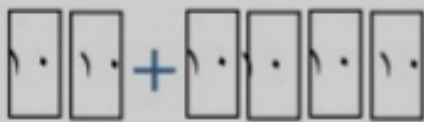


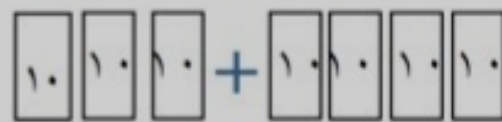
۱- با توجه به شکل، حاصل جمع و تفریق های زیر را بنویس.



..... + =



..... - =



..... + =



..... - =

۲- حاصل جمع و تفریق های زیر را به صورت ذهنی بنویس.

$70 - 50 = \dots\dots\dots$

$60 + 10 = \dots\dots\dots$

$80 - 20 = \dots\dots\dots$

$90 - 40 = \dots\dots\dots$

$50 + 30 = \dots\dots\dots$

$40 + 50 = \dots\dots\dots$



آفریدگار مهربان همراه من است

کار برگ ۲

پایه: دوم	عنوان درس: فصل ۲، جمع و تفریق اعداد دو رقمی	درس: ریاضی
تاریخ: / /		مفهوم: محاسبه ی عددی، الگوسازی، تقریب (صفحه ی ۲۱ و ۲۲)
		نام دانش آموز:

۱- جمع و تفریق زیر را حساب کن.

$5 + 4 = \dots\dots\dots$

$7 - 6 = \dots\dots\dots$

$50 + 40 = \dots\dots\dots$

$70 - 60 = \dots\dots\dots$

$\dots\dots + \dots\dots = \dots\dots\dots$

$\dots\dots - \dots\dots = \dots\dots\dots$



۲- برای هر شکل یک جمع بنویس.




$\dots\dots + \dots\dots = \dots\dots\dots$

+		

۳- جواب جمع و تفریق را روی محور نشان بده.

۳۰

+ ۵۰



۶۰

- ۴۰

