
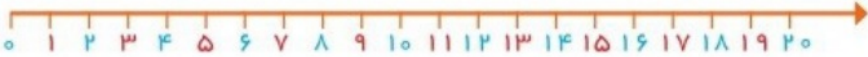
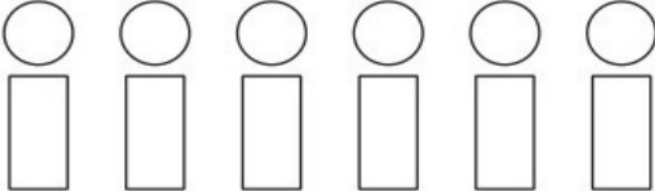





	<p>پاسخ جمع و تفریق زیر را با استفاده از شکل مناسب به دست آورید.</p> <p>$8 + 9 = \dots\dots$</p> <p>$13 - 8 = \dots\dots$</p>	۷
	<p>جمع و تفریق های داده شده را روی محور نشان دهید.</p> <p>$16 - 7 = \dots\dots$</p>  <p>$5 + 9 = \dots\dots$</p> 	۸
	<p>جمع و تفریق های داده شده را به صورت ذهنی انجام دهید.</p> <p>$4 \text{ ده تایی} + 5 \text{ ده تایی} = \dots\dots\dots$ $2 \text{ ده تایی} + 6 \text{ ده تایی} = \dots\dots\dots$</p> <p>$70 - 30 = \dots\dots$ $60 + 20 = \dots\dots$ $90 - 60 = \dots\dots$ $30 + 40 = \dots\dots$</p>	۹
	<p>اگر برای رنگ کردن دایره های از رنگ های قهوه ای، قرمز و آبی و برای رنگ کردن مستطیل رنگ های زرد و نارنجی را به کار ببریم به چند حالت می توانیم این شکل را رنگ کنیم؟ با رنگ کردن انجام دهید.</p> 	۱۰
	<p>پاسخ تفریق مقابل را با استفاده از محور داده شده به دست آورید.</p> <p>$80 - 30 = \dots\dots$</p> 	۱۱
	<p>اگر عقربه ی بزرگ ساعت حرکت کند جاهای خالی را پر کنید.</p>  	۱۲
	<p>۳۴ به کدام عدد نزدیک تر است دورش خط بکشید.</p> <p>۳۰ " ۳۴ " ۴۰</p>	۱۳

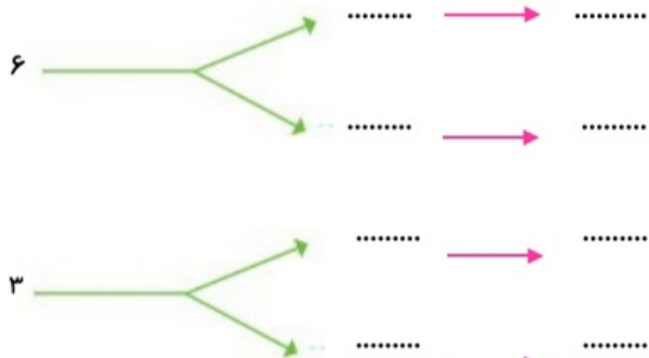
همه ی اعداد دو رقمی که یکان آن ها ۹ و ۷ و دهگان آن ها ۳ و ۶ باشد را با دو روش خوشه ای و جدولی بنویسید.

دهگان	یکان
۶	
۳	

→
 →
 →
 →

دهگان

یکان



جدول های داده شده را تکمیل کنید.

-	۹	۸	۷	۶
۳۵				
۸۶				
۲۴				

+	۹	۸	۷	۶
۵۵				
۲۶				
۶۷				