


با کمک محور، الگوهای پرش خرگوش را کامل کنید.



الف) ۰، ۴، ۸،،،



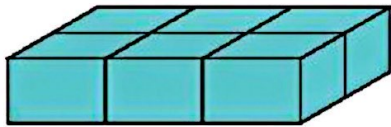
ب) ۱۶، ۱۴، ۱۲،،،

با استفاده از برجسب اعداد، الگوهای عددی زیر را کامل کنید.

الف) ۷، ۱۴، ۲۱، و و

ب) ۰، ۶، ۱۲، و و

اگر هر طبقه با ۶ چینه درست شود، ۳ طبقه با چند چینه ساخته می‌شود؟



۱) ۱۸ چینه

۲) ۱۲ چینه

۳) ۱۴ چینه

۴) ۲۴ چینه




با توجه به هر شکل، آنها را در دسته‌های مربوط به خود قرار داده و جمع‌های مناسب بنویسید.

الف) + + -



ب) + + + -



ج) + -



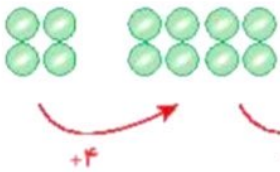
با استفاده از برجسب اشکال هندسی، داخل کادر یک الگو بسازید و آن را رنگ کنید.

ریاضی

با استفاده از برجسبها جاهای خالی را تکمیل و الگوهای زیر را ادامه دهید.



۴ ، ۸ ، _____ ، _____



حاصل جمع و تفریقهای زیر را با استفاده از روشهای خواسته شده پیدا کنید.



(الف) (رسم چوب خط) $7 + 5 = \square$

(ب) (رسم محور) $15 + 2 - 7 = \square$

(پ) (رسم شکل) $9 + 7 - 6 = \square$

با رقمهای ۶، ۹ و ۲ هرچه می‌توانید عدد دو رقمی بسازید.



ریاضی

برای شکل‌های زیر جمع و تفریق بنویسید.



$$\begin{array}{ccc} \boxed{10} \boxed{10} \boxed{10} & + & \boxed{10} \boxed{10} \boxed{10} \boxed{10} \\ \boxed{10} \boxed{10} \boxed{10} \boxed{10} \boxed{10} & - & \boxed{10} \boxed{10} \boxed{10} \boxed{10} \boxed{10} \end{array}$$

جاهای خالی را کامل کنید.



الف) درنا ۲ بسته‌ی ده‌تایی مداد دارد. برنا ۳ بسته‌ی ده‌تایی و دوستشان ۴ بسته‌ی ده‌تایی مداد دارند. آن‌ها با هم بسته‌ی ده‌تایی یعنی مداد دارند.

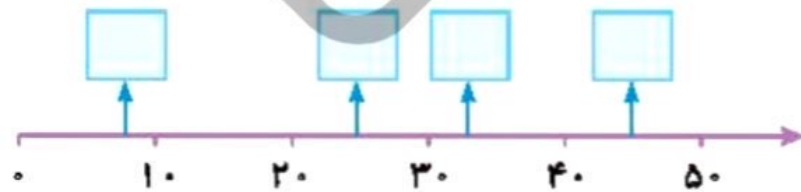
ب) برنا ۶ بسته‌ی ده‌تایی شکلات دارد. او ۳ بسته‌ی ده‌تایی را به پدرش و ۲ بسته‌ی ده‌تایی از شکلات‌ها را به مادرش می‌دهد. برنا حالا بسته‌ی ده‌تایی شکلات دارد.

جمع و تفریق‌ها را به صورت ذهنی پاسخ دهید.



$$\begin{array}{lll} \text{الف)} & 30 + \quad = 90 & \text{ب)} & 90 - \quad = 20 & \text{پ)} & 90 - 40 = \\ \text{ت)} & \quad + 40 = 60 & \text{ث)} & 30 + \quad = 50 & \text{ج)} & 40 + 30 = \end{array}$$

با توجه به مقدار تقریبی عدد مناسب را در جای خالی بنویسید.



همه‌ی عددهای دو رقمی را بنویسید که رقم‌های یکان آن ۲ و ۱ رقم‌های دهگان آن ۹ و ۶ باشد.

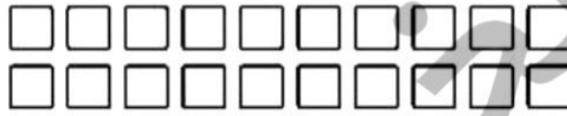


با رنگ کردن شکل‌ها و یا با خط زدن شکل‌های رنگ شده حاصل جمع و تفریق‌ها را بنویسید.

الف) $16 - 5 = \dots\dots$



ب) $9 + 9 = \dots\dots$



اگر برای رنگ کردن مثلث شکل زیر از سه رنگ آبی، بنفش و زرد و شکل مربع از سبز استفاده کنید، به چند روش شکل رنگ خواهد شد؟ شکل‌ها را بکشید.



جدول‌های جمع و تفریق را کامل کنید.

	+	۷	۲	۳	۵
۹					
۶					
۸					

	-	۵	۳	۷	۴
۱۲					
۱۷					
۱۹					

۱

مادر سمیرا ۱۶ شاخه گل دارد. او ۵ شاخه گل را به دخترش سمیرا هدیه داد. چند شاخه گل برای او مانده است؟ (رسم شکل)