

کاربرگ ریاضی

۱- حاصل جمع و تفریق زیر را از راه فرایندی
به دست آورید (بار رسم شکل)

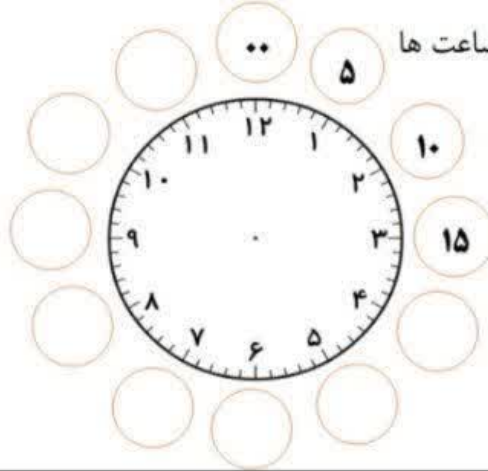
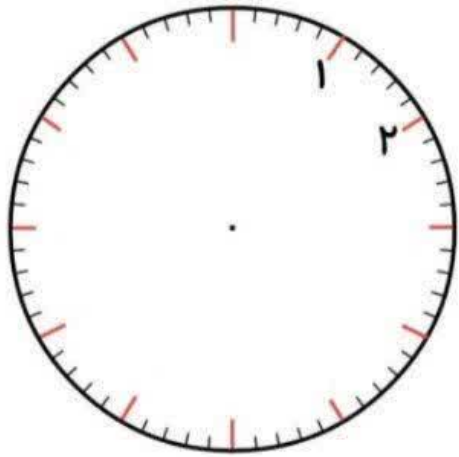
$$\begin{array}{r} 35 \\ + 42 \\ \hline \end{array}$$

$$\begin{array}{r} 65 \\ + 28 \\ \hline \end{array}$$

$$\begin{array}{r} 33 \\ - 16 \\ \hline \end{array}$$

نام و نام خانوادگی :

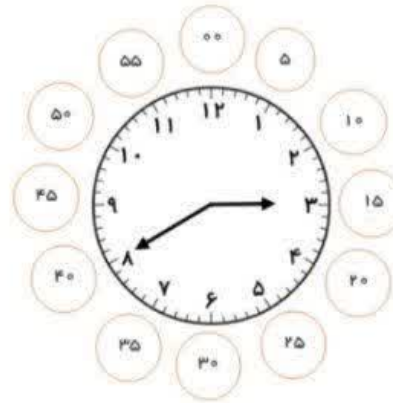
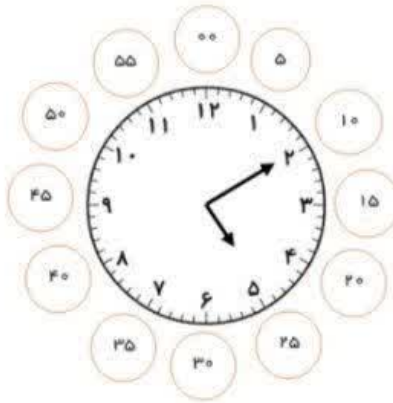

آموزگار :



* عددهای مربوط به ساعت ها

را بنویس .

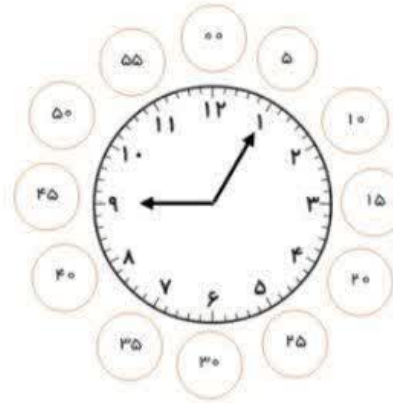
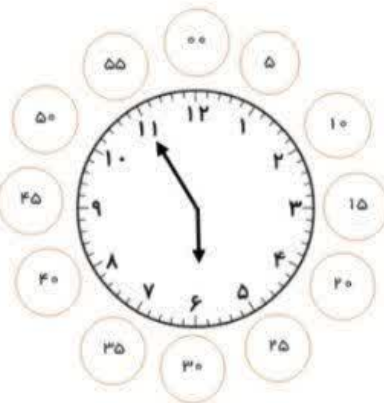
* زمان هر ساعت را بنویس .



.....

.....

.....



.....

.....

.....