

۱- به کمک شابلون دو شکل مربع و مستطیل رسم کنید و بیان کنید چه تفاوت‌ها و چه شباهت‌هایی دارند؟



ضلعی ۴ ضلعی

برابرند ✓

تفاوت: در مربع همی ضلع ۴ اما در مستطیل ضلع‌های روبه‌رو برابرند.
شباهت: هر دو ۴ ضلع و ۴ گوشه دارند.

۲- دو شکل زیر هر دو مثلث هستند. چه تفاوت و شباهت‌هایی با هم دارند؟



ضلعی ضلعی ۳ ضلعی

تفاوت: در شکل (۱) همی ضلع ۳ برابرند (۳) در شکل (۲) ضلع‌ها برابر نیستند.
شباهت: هر دو مثلث ۳ ضلع و ۳ گوشه دارند.

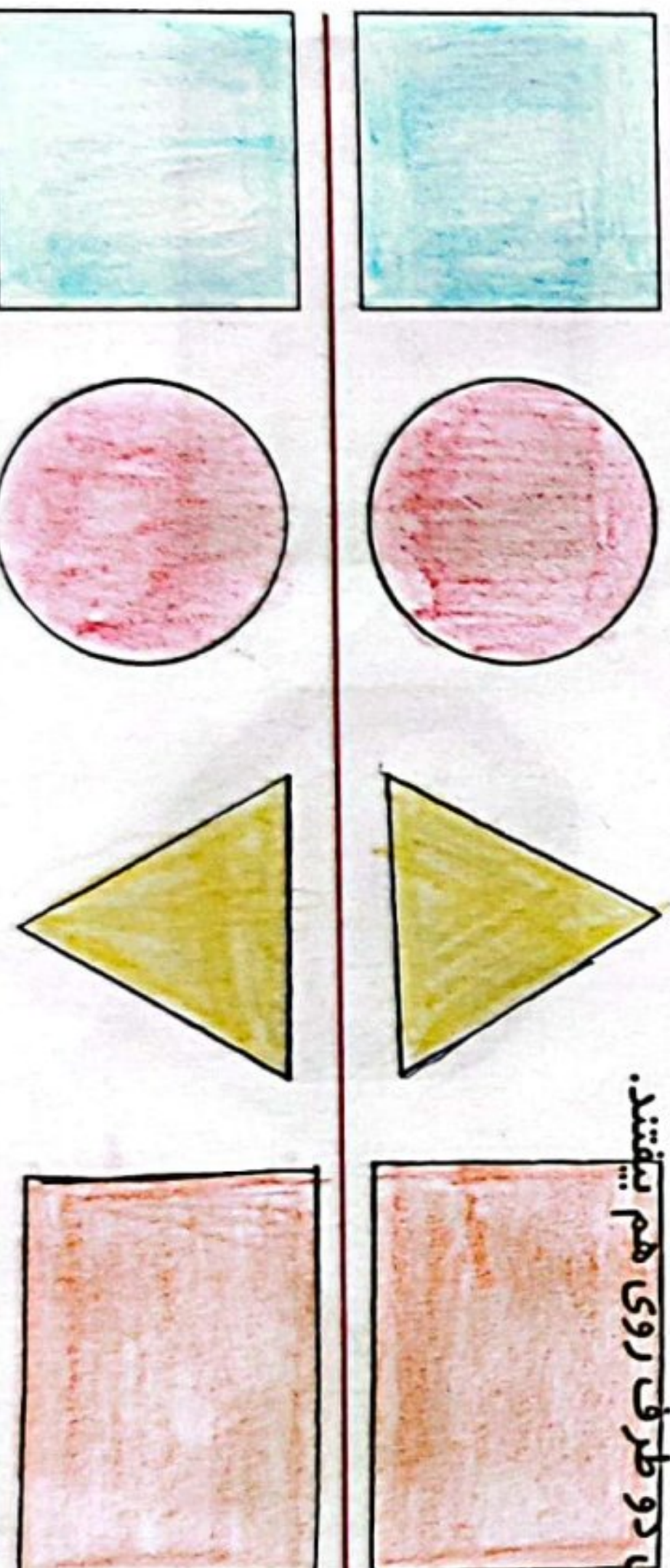


نکته:

در اطراف ما شکل‌های هندسی زیادی وجود دارد. خوب نگاه کنید و ببینید چه شکل‌هایی در کلاس درس بیشتر دیده می‌شود. در مورد این که اگر چیزهای اطراف شما به شکل دیگری ساخته می‌شود، چه اتفاقاتی می‌افتاد، فکر کنید. برای مثال: اگر چرخ ماشین به جای دایره مربع بود، چه اتفاقی می‌افتاد؟ آیا می‌توانست حرکت کند؟


کامل کن


مانند نمونه و با شابلون یک شکل بالای خط بکشید. در پایین خط همان شکل را با شابلون طوری بکشید که اگر از روی خط تا کنیم، شکل‌های دو طرف روی هم بیفتند.



میں نے اس کے لیے جہانگیر کے لیے گھر بنوانے کا ارادہ کیا ہے

میں نے اس کے لیے ۵۰ روپے کی رقم جمع کی ہے








در یک بازارچه ی خیریه ۲۷ دفتر نقاشی و ۴۴

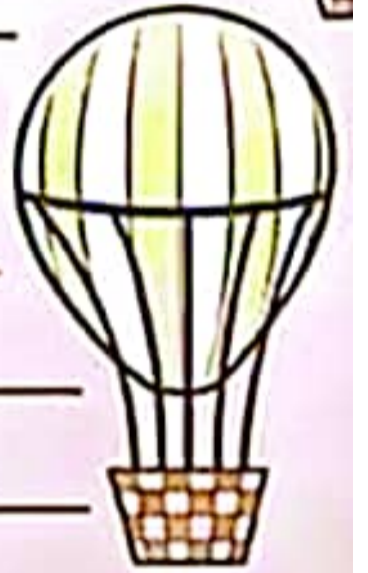
کیف مدرسه فروخته شد. در این بازارچه چندتا

جنس فروخته شده است؟ (فرایندی)



حاصل عبارت های زیر را ذهنی بدست آور عزیزم.

$$۱۷ - ۶ + ۵ + ۲ =$$



$$۲۰ - ۲ - ۴ + ۱ + ۳ =$$



اگر امروز ۱۲ آبان باشد ۱۶ روز دیگر چندم آبان
می شود؟ (فرآیندی)



عدد ۳۵ به نزدیک تر است یا به؟

عدد ۸۲ به نزدیک تر است یا به؟

عدد ۵۸ به نزدیک تر است یا به؟

