





۱۴۰۲/۹/۰۴

۱- دو شکل زیر چه تفاوت و شباهت هایی دارند؟




تفاوت: در شکل شماره (۱) اندازه‌های ضلع‌ها با هم برابر نیستند اما در شکل شماره (۲) اندازه‌های ضلع‌ها با هم برابرند.  
شباهت: هر دو ۶ ضلع و ۶ گوشه دارند.

۲- با توجه به جدول زیر شکل‌ها را رنگ کنید تا یک پنجره زیبا درست شود.



کامل کن

هر تصویر چه ساعتی را نشان می‌دهد؟




۴:۱۲



۱۲:۰۱



۷:۵۰



۱۰:۱۰

اگر شابلون ندارید می توانید این شکل را ببرید و بر روی یک مقوای فوم بچسبانید و با آن یک شابلون برای خود درست کنید.

