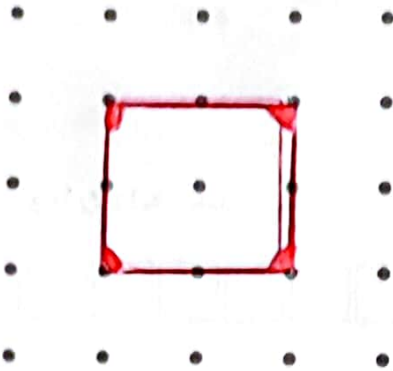


۳۰۲/۹۱۰۶

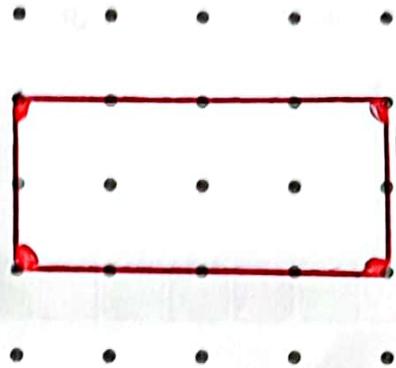
۱- نقطه‌ها را با خط کش به هم وصل کنید و شکلی را که توضیح داده شده است، رسم کنید.



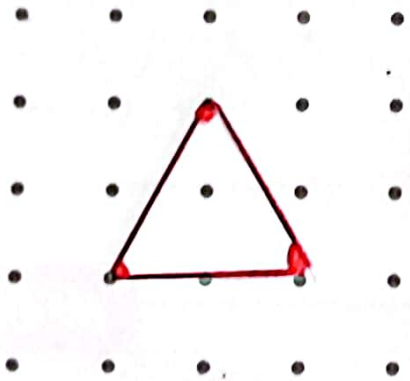
۴ ضلع و ۴ گوشه دارد.
۴ ضلع آن مساوی است.



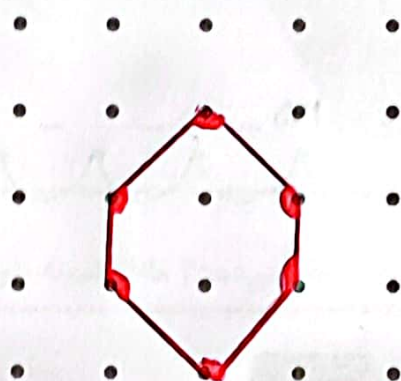
۴ ضلع و ۴ گوشه دارد.
۲ ضلع آن مساوی است.





۳ ضلع دارد.



۶ گوشه دارد.



۲- با توجه به شکل، نمودار را کامل کنید.



۳ ۴





