



کار برگ ۹

درس: ریاضی

عنوان درس: فصل ۲، جمع و تفریق اعداد دو رقمی

پایه: دوم

مفهوم: جمع و تفریق فرایندی، ساخت عدد با رقم، تقریب، اندازه گیری زمان (صفحه‌ی ۳۱ تا ۳۵)

نام دانش آموز:

تاریخ: / /

۱- حاصل جمع و تفریق‌های زیر را به دست بیاور.

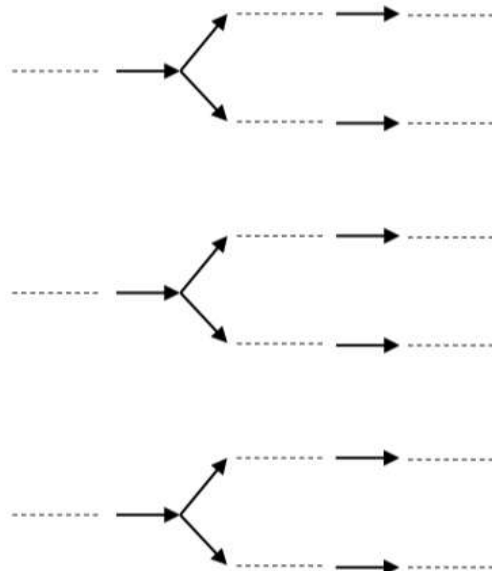
74	83	36	67
$- 37$	$- 59$	$+ 28$	$+ 17$
.....
.....
.....

۲- جواب جمع و تفریق زیر را به صورت تقریبی بنویس.

72	49
$- 55$	$+ 36$
.....
.....

۳- چند عدد ۲ رقمی می‌توان نوشت که رقم یکانش ۹ و ۰ و رقم دهگان آن ۶ و ۵ و ۳ باشد؟

د	ی
---	---





۴- مادر رایان یک ظرف شکلات خوری دارد، که در آن ۳۴ شکلات وجود دارد. او ۲۸ شکلات به این ظرف اضافه کرد.

الف) حالا داخل ظرف شکلات خوری چند شکلات است؟



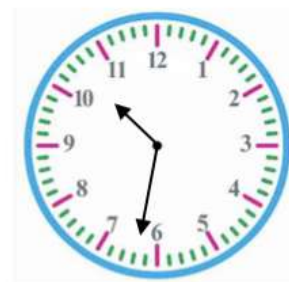
ب) اگر در روز مهمانی ۲۴ تا از شکلات‌ها خورده شود، چند شکلات در ظرف باقی می‌ماند؟



۵- ساعت چند است؟



ساعت و دقیقه است



ساعت و دقیقه است.

۶- ساعتی که پدر برای رفتن به محل کار از خانه خارج می‌شود را بنویس.

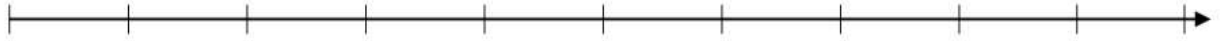
ساعتی را که به منزل برمی‌گردد را نیز بنویس.

حالا حساب کن پدر چند ساعت در بیرون از منزل و در محل کار بوده است؟ آن را روی ساعت نشان بده؟



۳- با کمک محور، حاصل جمع و تفریق را به دست بیاور.

$$۸۰ - ۲۰ = \dots\dots$$



$$۴۰ + ۳۰ = \dots\dots$$



۴- عددهای ۴۲ و ۶۵ و ۲۸ را به صورت تقریبی بر روی محور نشان بده.



۵- به سوالات زیر پاسخ بده.

عدد ۴۶ به ۴۰ نزدیکتر است یا به ۵۰؟

عدد ۱۲ به نزدیکتر است یا به ۲۰؟

عدد ۵۸ به ۵۰ نزدیکتر است یا به ۶۰؟

۶- دختر قشنگم با داخل کردن دستت در داخل ظرف لوبیا مقداری از آن را بردار، این کار را با دست دیگری نیز انجام بده. حالا تعداد لوبیاهایی که برداشته ای را بشمار. از مادر مهربانت نیز خواهش کن این کار را همانند تو انجام بدهد. حالا با نوشتن یک جمع مجموع لوبیاهایی که از ظرف خارج کرده ای را به دست آور. (با رسم شکل)

۷- شماره همراه پدر و مادر خود را به خاطر بسپار و دو رقم اول آن‌ها را با دو رقم آخر جمع کن و حاصل آن را بنویس؟



کار برگ ۸

درس: ریاضی

عنوان درس: فصل ۲، جمع و تفریق اعداد دو رقمی

پایه: دوم


مفهوم: جمع و تفریق فرایندی با رسم شکل، جمع و تفریق دسته‌های ده‌تایی با محور، تقریب، (صفحه‌ی ۳۰)

نام دانش آموز:


تاریخ: / /

۱- حاصل جمع و تفریق زیر را با رسم شکل انجام بده. (به صورت فرایندی)

$$\begin{array}{r} 62 \\ - 24 \\ \hline \dots\dots\dots \\ \dots\dots\dots \\ \hline \dots\dots\dots \end{array}$$



$$\begin{array}{r} 45 \\ - 13 \\ \hline \dots\dots\dots \\ \dots\dots\dots \\ \hline \dots\dots\dots \end{array}$$



۲- حاصل جمع و تفریق‌های زیر را به دست بیاور. (به صورت فرایندی)

$\begin{array}{r} 67 \\ + 32 \\ \hline \dots\dots\dots \\ \dots\dots\dots \\ \hline \dots\dots\dots \end{array}$	$\begin{array}{r} 47 \\ - 24 \\ \hline \dots\dots\dots \\ \dots\dots\dots \\ \hline \dots\dots\dots \end{array}$	$\begin{array}{r} 51 \\ + 16 \\ \hline \dots\dots\dots \\ \dots\dots\dots \\ \hline \dots\dots\dots \end{array}$	$\begin{array}{r} 77 \\ - 47 \\ \hline \dots\dots\dots \\ \dots\dots\dots \\ \hline \dots\dots\dots \end{array}$
--	--	--	--





آفریدگار مهربان همراه من است

کار برگ ۷

درس: ریاضی

عنوان درس: فصل ۲، جمع و تفریق اعداد دو رقمی

پایه: دوم

مفهوم: محاسبه‌ی عددی (جمع و تفریق با استفاده از دسته‌های ده‌تایی و یکی، جمع و تفریق اعداد دو رقمی با دو رقمی) (صفحه ی ۲۸ و ۲۹)

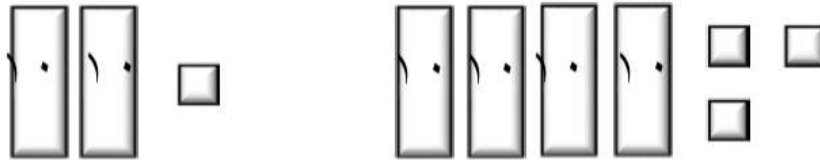
نام دانش آموز:

تاریخ: / /

۱- با توجه به شکل‌ها، حاصل جمع‌های زیر را بنویس.

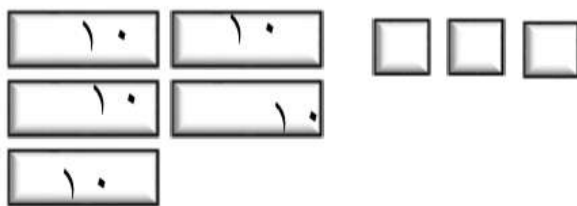


..... + =

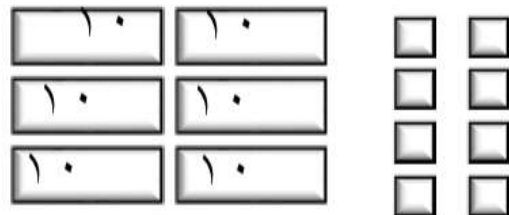


..... + =

۲- با خط زدن دسته‌های ده‌تایی و یکی، حاصل تفریق‌ها را بنویس.



$53 - 21 = \dots\dots\dots$



$\dots\dots - 21 = \dots\dots$