



به نام خدا



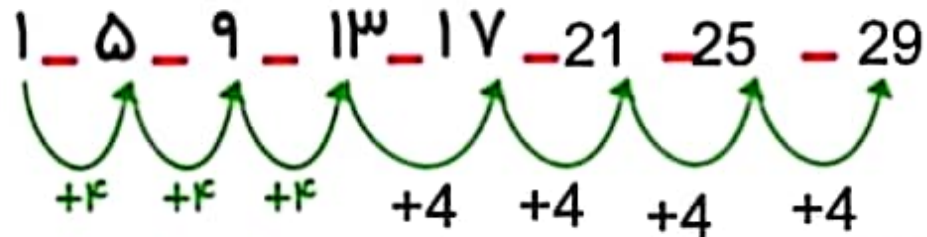
# ریاضی دوم دبستان



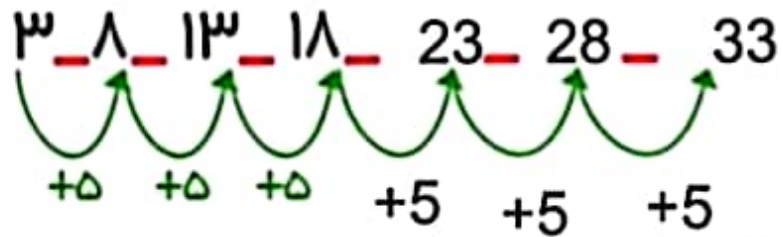
علوی

مدارس هزاره سوم

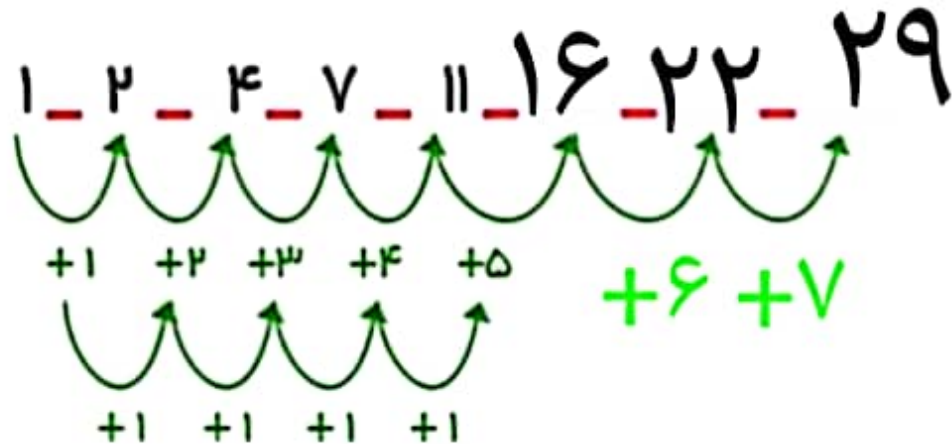
۳ عدد بعدی را بنویسید.



این الگوها، الگوی یک مرحله ای هستند.



به این الگوها دو مرحله ای می گویند.



الگویابی اعداد را ادامه بده .

۱۲ - ۱۴ - ۱۶ - - - - -  
+۲ +۲ +۲

۲۲ - ۲۹ - ۳۶ - - - ۶۴ - - - ۹۲  
+۷ +۷ +۷

۳۰ - ۳۵ - - - - -  
+۵ +۵ +۵

۱۱ - ۲۰ - - - - -  
+۹ +۹ +۹

۳ - ۴ - ۶ - - - - -  
+۱ +۲ +۳ +۴ +۵ +۶  
+۱ +۱

۸ - ۱۳ - ۱۹ - - - - -  
+۵ +۶ +۷ +۸ +۹ +۱۰  
+۱ +۱

۱۰ - ۱۲ - ۱۶ - - - - -  
+۲ +۴ +۶ +۸ +۱۰ +۱۲