

حاصل جمع و تفریق ہارا بدست آورید.

$$\begin{array}{r} ۲۵ \\ + ۳۲ \\ \hline \end{array}$$

$$\begin{array}{r} ۵۶ \\ + ۲۲ \\ \hline \end{array}$$

$$\begin{array}{r} ۷۶ \\ + ۱۳ \\ \hline \end{array}$$

$$\begin{array}{r} ۷۸ \\ - ۴۴ \\ \hline \end{array}$$

$$\begin{array}{r} ۳۹ \\ - ۲۷ \\ \hline \end{array}$$

$$\begin{array}{r} ۸۸ \\ - ۵۵ \\ \hline \end{array}$$

$$\begin{array}{r} ۶۱ \\ + ۳۰ \\ \hline \end{array}$$

$$\begin{array}{r} ۵۳ \\ - ۱۱ \\ \hline \end{array}$$

$$\begin{array}{r} ۹۸ \\ - ۷۷ \\ \hline \end{array}$$

برای ساعت های زیر عقربه بکش.



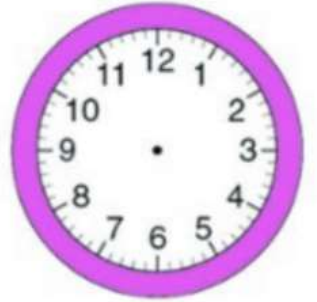
ساعت ۶ و ۳۵ دقیقه



ساعت ۲ و ۱۰ دقیقه



ساعت ۵ و ۵۵ دقیقه



ساعت ۱۰ و ۵ دقیقه



۷:۴۵



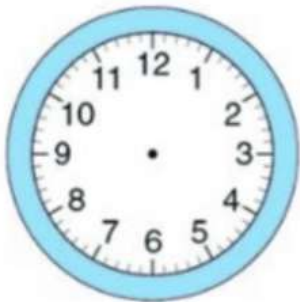
۳:۲۵



۱:۴۵



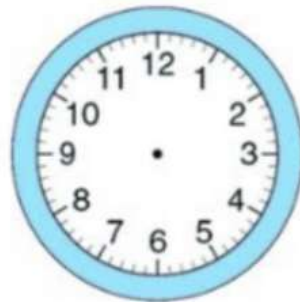
۱۱:۲۰



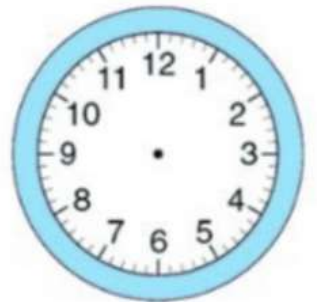
ساعت ۲ و ۴۰ دقیقه



ساعت ۴ و ۳۰ دقیقه



ساعت ۸ و ۳۵ دقیقه



ساعت ۱۰ و ۱۰ دقیقه



کاربرگ ۱

درس: ریاضی

عنوان درس: فصل ۳، اشکال هندسی

پایه: دوم

مفهوم: اشکال هندسی، تعداد ضلع و گوشه در اشکال، تفاوت و تشابه، تقارن، اندازه‌گیری زمان (صفحه ی ۳۸ و ۳۹ و ۴۰)

نام دانش آموز:

تاریخ: / /

۱- در زیر هر شکل نام آن، تعداد ضلع‌ها و گوشه‌ها را بنویس.



نام شکل:

نام شکل:

نام شکل:

نام شکل:

تعداد ضلع:

تعداد ضلع:

تعداد ضلع:

تعداد ضلع:

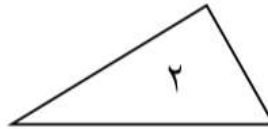
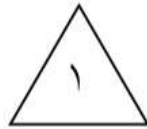
تعداد گوشه:

تعداد گوشه:

تعداد گوشه:

تعداد گوشه:

۲- دو شکل زیر چه تفاوت و شباهت‌هایی با هم دارند؟



تفاوت:

.....

شباهت:

.....

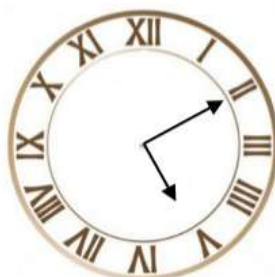
۳- مانند نمونه و با شابلون ۲ شکل بالای خط بکش. در پایین همان شکل‌ها را طوری بکش که اگر کاغذ را از روی خط تا کنیم، شکل‌های دو طرف روی هم بیفتند.



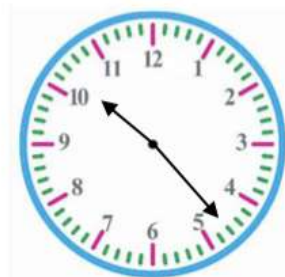
۴- ساعت چند است؟



.....



.....



• •

۵- با شابلون یک مربع و یک مستطیل رسم کن.

تفاوت‌ها و شباهت‌های دو شکل را بنویس.

تفاوت:

.....
.....

شباهت:

.....
.....

