

## فعالیت کلاسی



۱ جاهای خالی را کامل کن.

الف: در هر چند ضلعی تعداد ..... با تعداد ..... برابر است.

ب: یک ۶ ضلعی ..... گوشه دارد.

۲ هر عبارت را به تصویر مربوط به آن وصل کن.

الف: چهار ضلعی که ۴ ضلع برابر و ۴ گوشه دارد.

ب: شکلی که ۲ ضلع و ۳ گوشه دارد.

پ: چهار ضلعی که فقط ضلع‌های رو به رویش با هم برابر است.

ت: شکلی که ضلع و گوشه ندارد.

مثلث



مستطیل



مربع



دایره



# فعالیت کلاسی



۱ جاهای خالی را کامل کن.

الف: در هر چند ضلعی تعداد **ضلع ها** با تعداد **گوشه ها** برابر است.

ب: یک ۶ ضلعی **شش** ... گوشه دارد.

۲ هر عبارت را به تصویر مربوط به آن وصل کن.

الف: چهار ضلعی که ۴ ضلع برابر و ۴ گوشه دارد.

ب: شکلی که ۲ ضلع و ۳ گوشه دارد.

پ: چهار ضلعی که فقط ضلع های رو به رویش با هم برابر است.

ت: شکلی که ضلع و گوشه ندارد.



مستطیل

مربع

دایره

۲

تفاوت و شباهت شکل‌های زیر را بنویس.



تفاوت:

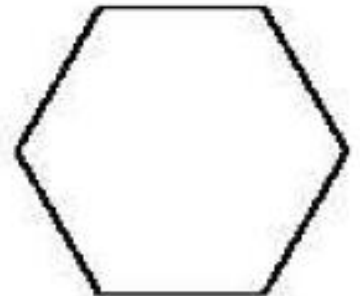

.....

شباهت:

.....

۴

در هر کدام از شکل‌ها گوشه‌ها را رنگ کن.



۲

تفاوت و شباهت شکل‌های زیر را بنویس.

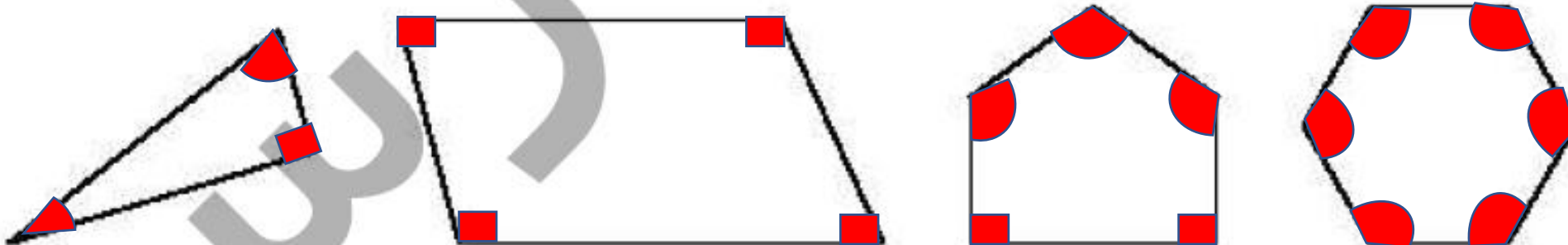


تفاوت: مربع تمام ضلع‌ها برابر هستند، اما مستطیل ضلع‌های رو به رو برابر هستند.

شباهت: هر دو ۴ ضلع و ۴ گوشه دارند.

۴

در هر کدام از شکل‌ها گوشه‌ها را رنگ کن.

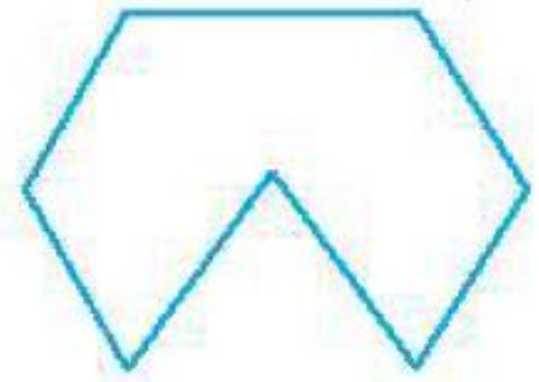


به شکل‌ها با دقت نگاه کن، سپس به تعداد ضلع‌های هر شکل در زیر آن چوب‌خط بکش.

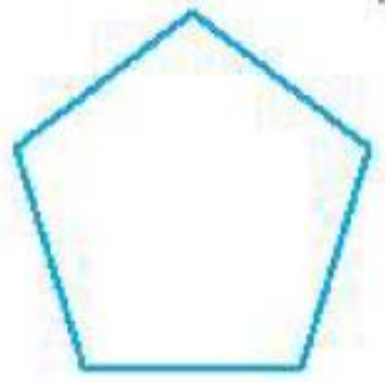
الف:



ب:



پ:



ت:

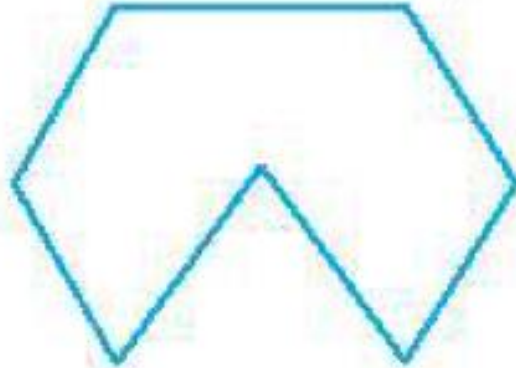


به شکل‌ها با دقت نگاه کن، سپس به تعداد ضلع‌های هر شکل در زیر آن چوب‌خط بکش.

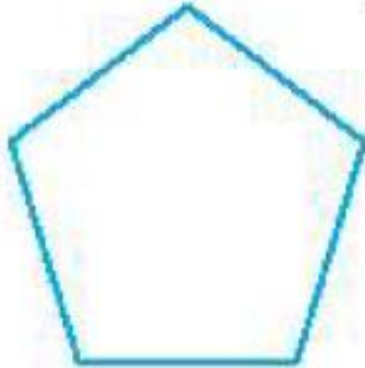
الف:



ب:



پ:



ت:

