

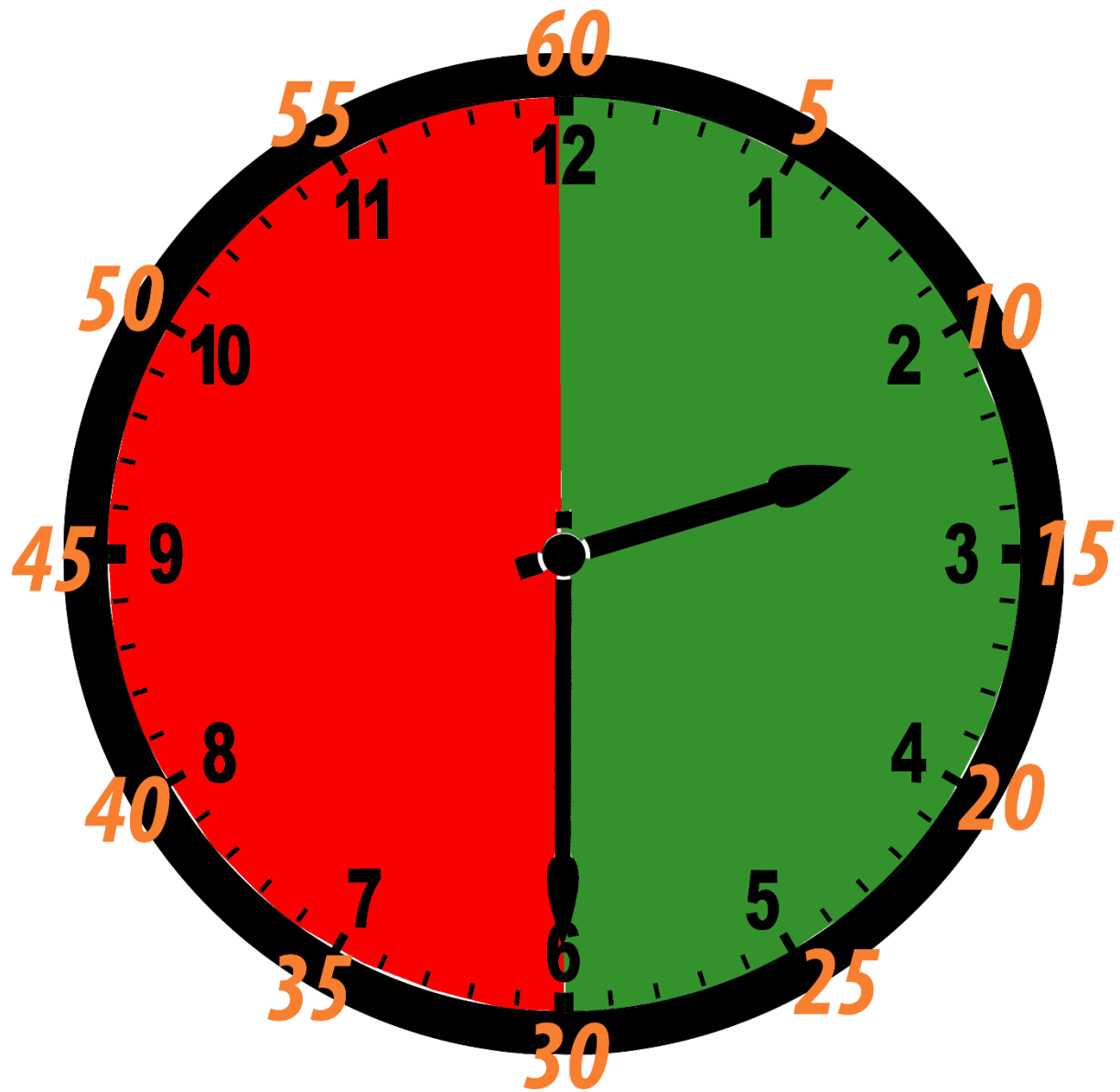
می دانیم که هر ساعت ۶۰ دقیقه است،

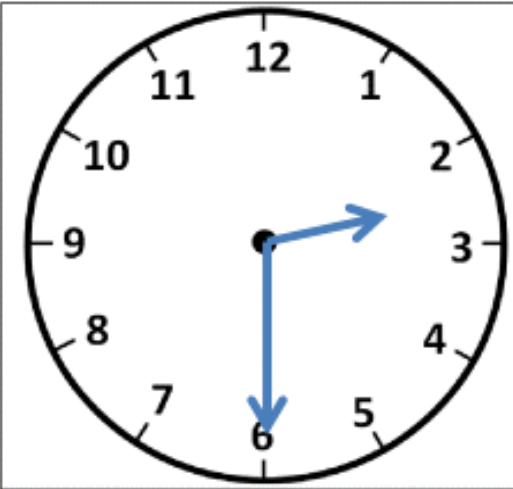
عقربه بزرگ نیمی از ۶۰ دقیقه را طی کرده است. پس می توان گفت:

30 دقیقه بعد از ساعت ۲ را نشان می دهد.

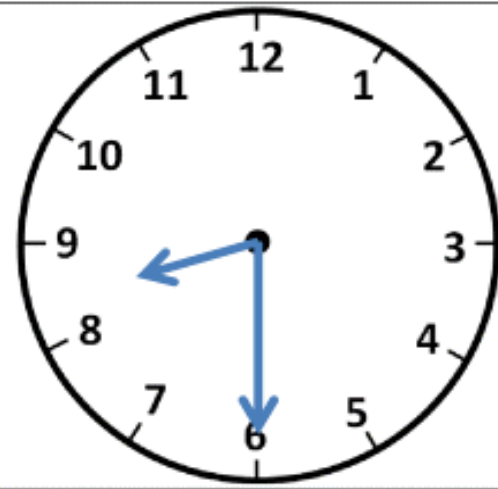
ساعت دو و نیم یا ۲:۳۰ است .



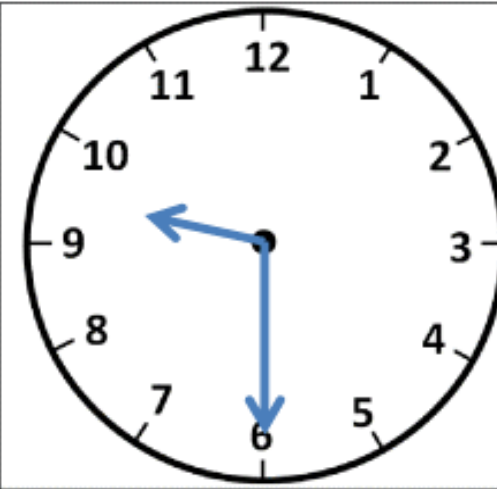




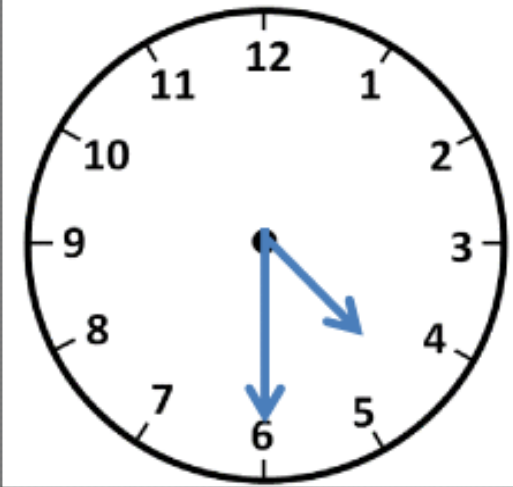
(۱) دو و نیم



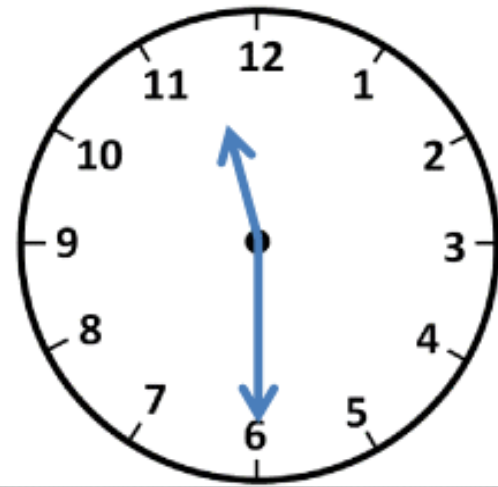
(۲)



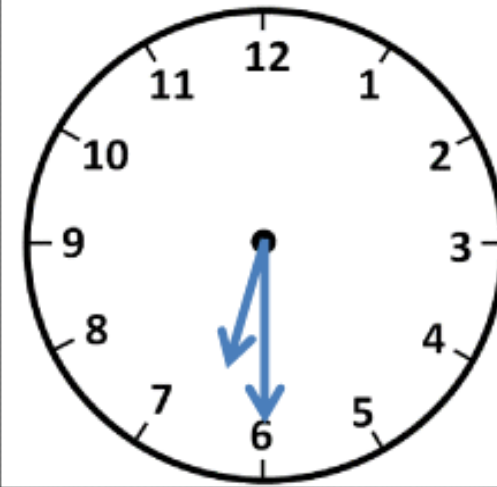
(۳)



(۴)



(۵)



(۶)

علوی

ریاضی

فصل سوم

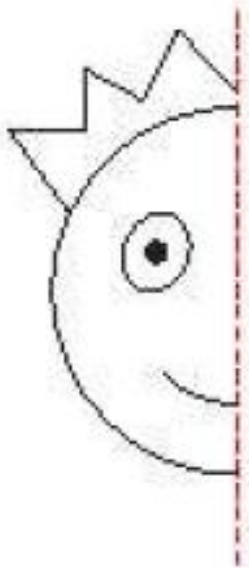
ساعت



فعالیت کلاسی

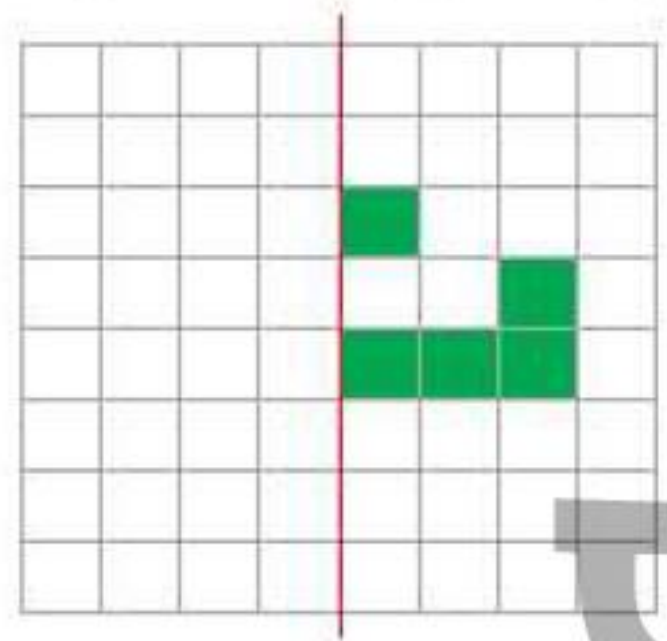


با توجه به خط تقارن، نیمه‌ی دیگر شکل‌ها را کامل کن.



۲

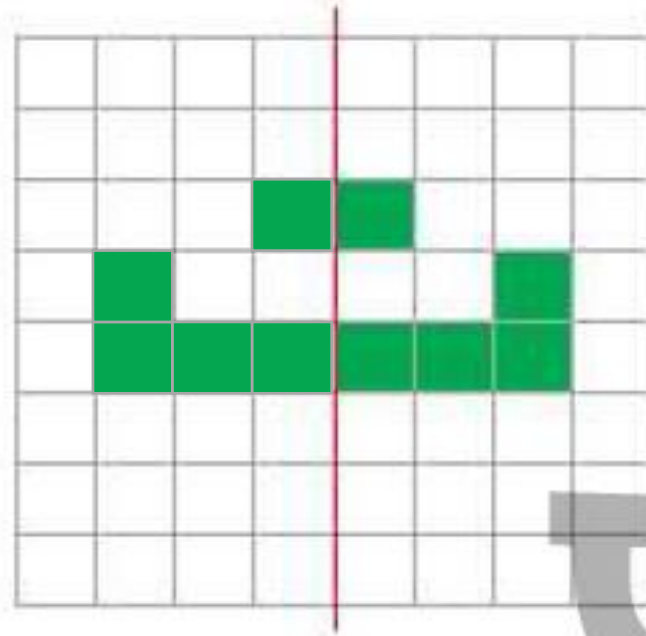
با توجه به خط تقارن، خانه‌های شطرنجی را رنگ کن. بعد از رنگ کردن، کدام «نشانه» دیده می‌شود؟



نشانه **ت** دیده می‌شود.

۲

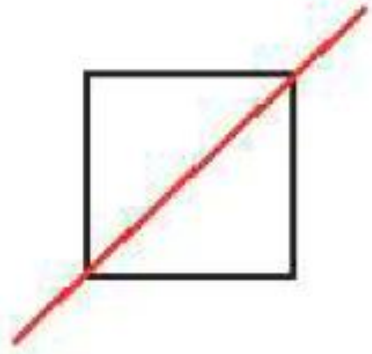
با توجه به خط تقارن، خانه‌های شطرنجی را رنگ کن. بعد از رنگ کردن، کدام «نشانه» دیده می‌شود؟



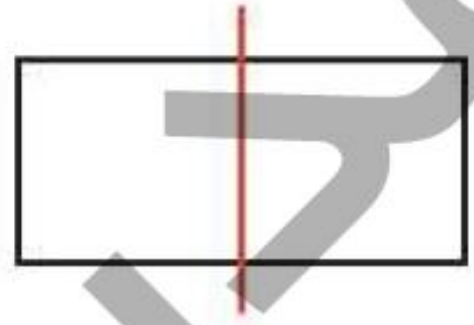
نشانه دیده می‌شود.

۳


خط رسم شده در کدام یک از شکل‌های زیر خط تقارن است؟ (دور آن خط بکش)



پ:



ب:



الف:

۴

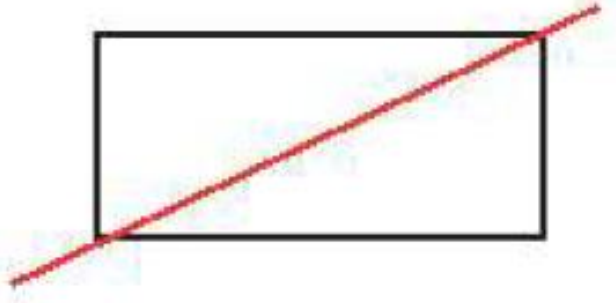
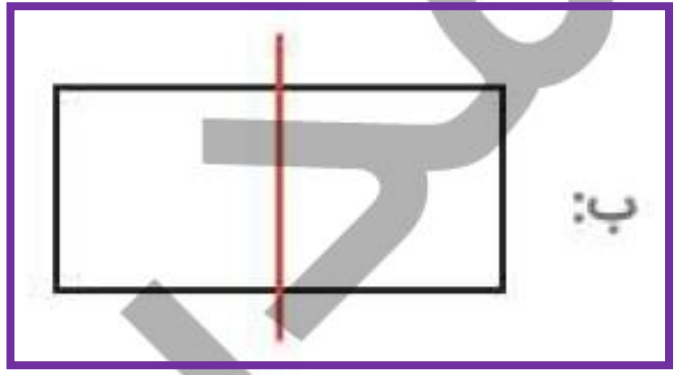
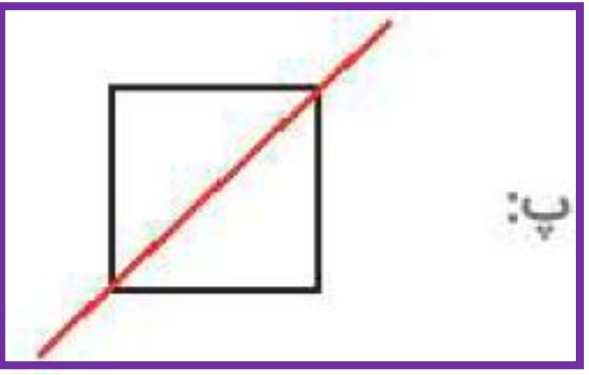
ساعت ۷ است. اگر عقربه‌ی دقیقه شمار، ۳۰ دقیقه (نیم ساعت) حرکت کند. ساعت چند می شود؟ آن را روی ساعت نشان بده.



ساعت می شود.

۳

خط رسم شده در کدام یک از شکل‌های زیر خط تقارن است؟ (دور آن خط بکش)



۴

ساعت ۷ است. اگر عقربه‌ی دقیقه شمار، ۳۰ دقیقه (نیم ساعت) حرکت کند. ساعت چند می شود؟ آن را روی ساعت نشان بده.



ساعت هفت و نیم می شود.


۷:۳۰

در کدام یک از شکل‌های زیر، خط کشیده شده، خط تقارن نیست؟ (دور آن خط بکش)


الف:



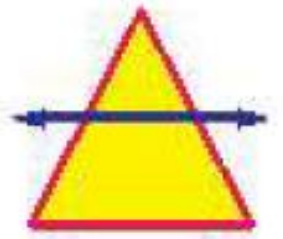
ب:



پ:



ت:



در کدام یک از شکل‌های زیر، خط کشیده شده، خط تقارن نیست؟ (دور آن خط بکش)


الف:



ب:



پ:



ت:

