




در شمارش ۸ تا ۸ عدد قبل ۴۰ را بنویسید.

در شمارش ۸ تا ۸ تا عدد بعد از ۲۴ را پیدا کنید.



یکی از دانش آموزان برای شمارش ۴ تا ۴ تا رنگ کرده  
شما هم با استفاده از مداد رنگی الگو را ادامه دهید.



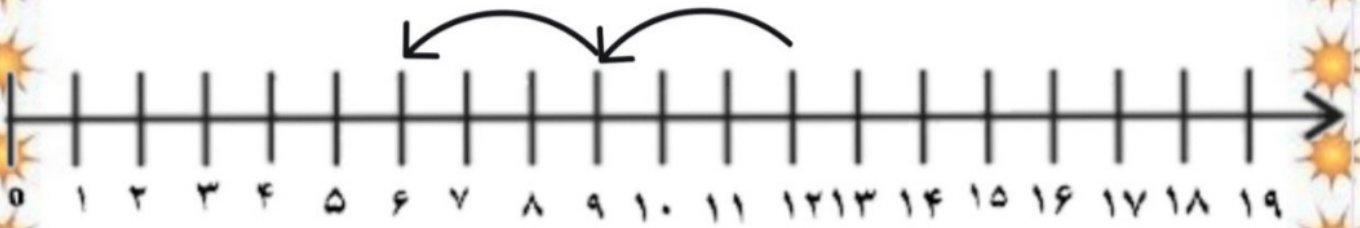
۴ ، ..... ، ..... ، ..... ، ..... ، ..... ، ..... ، ..... ، ..... ، ..... ، .....

الگوی عددی زیر را با رسم چوب خط کامل کنید؟

۸ ، ۱۶ ، ..... ، ..... ، .....



به کمک محور به عقب بشمارید و الگو را کامل کنید؟



..... 6 ..... 6 ..... 6 9 , 12

الگوی عددی زیر را کامل کنید؟

۷ ، ۱۴ ، ..... ، ..... ، .....



در یک ساختمان هر طبقه ۴ واحد آپارتمان دارد.



دو طبقه چند واحد آپارتمان دارد؟.....

سه طبقه چند واحد آپارتمان دارد؟.....

چهار طبقه چند واحد آپارتمان دارد؟.....

پنج طبقه چند واحد آپارتمان دارد؟.....


باتوجه به شکل بالا الگوی عددی را کامل کن.

۴، ۸، ، ، ، .

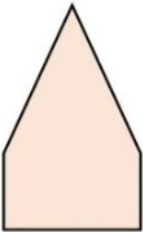
به شکل‌های زیر دقت کن. چه تفاوت و چه شباهت‌هایی دارند؟



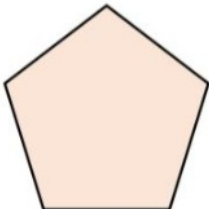
شباهت : .....



تفاوت : .....



شباهت : .....



تفاوت : .....






ضلع‌های هر شکل را قرمز رنگ کن.  
هر شکل چند گوشه و چند ضلع دارد؟



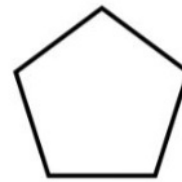
گوشه : .....  
ضلع : .....



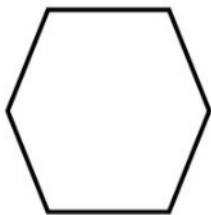
گوشه : .....  
ضلع : .....



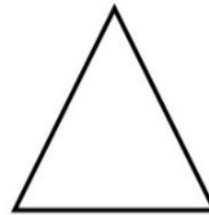
گوشه : .....  
ضلع : .....



گوشه : .....  
ضلع : .....



گوشه : .....  
ضلع : .....



گوشه : .....  
ضلع : .....