



آفریدگار مهربان همراه من است

کار برگ ۱

پایه: دوم	عنوان درس: فصل ۳، اشکال هندسی	درس: ریاضی
تاریخ: / /	مفهوم: اشکال هندسی، تعداد ضلع و گوشه در اشکال، تفاوت و تشابه، تقارن، اندازه گیری زمان (صفحه ی ۳۸ و ۳۹ و ۴۰)	نام دانش آموز:

۱- در زیر هر شکل نام آن، تعداد ضلع ها و گوشه ها را بنویس.



نام شکل:

نام شکل:

نام شکل:

نام شکل:

تعداد ضلع:

تعداد ضلع:

تعداد ضلع:

تعداد ضلع:

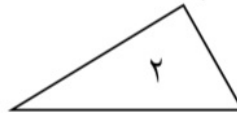
تعداد گوشه:

تعداد گوشه:

تعداد گوشه:

تعداد گوشه:

۲- دو شکل زیر چه تفاوت و شباهتهایی با هم دارند؟



تفاوت:

.....

شباهت:

.....


۳- مانند نمونه و با شابلون ۲ شکل بالای خط بکش. در پایین همان شکل ها را طوری بکش که اگر کاغذ را از روی خط تا کنیم، شکل های دو طرف روی هم بیفتند.



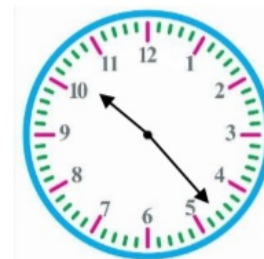
۴- ساعت چند است؟



.....




.....



• •

۵- با شابلون یک مربع و یک مستطیل رسم کن.



تفاوت‌ها و شباهت‌های دو شکل را بنویس.

تفاوت:

.....

شباهت:

.....

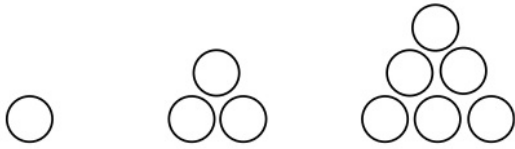


آفریدگار مهربان همراه من است

کاربرگ ۲

پایه: دوم	عنوان درس: فصل ۳، اشکال هندسی	درس: ریاضی
تاریخ: / /	مفهوم: الگویابی شکلی، اعداد دیجیتالی، الگویابی ثابت و متغیر، ساعت با اعداد دیجیتالی (صفحه ی ۴۴ و ۴۵)	نام دانش آموز:

۱- الگویابی زیر را تا ۲ مرحله ادامه بده.



شکل (۱)

شکل (۲)

شکل (۳)

شکل (۴)

شکل (۵)

۲- عددهای مثل هم را با یک رنگ، رنگ بزن.



۳- الگوهای زیر را تا ۳ عدد ادامه بده.

۴-۹-۱۴-۱۹- - -

۲-۳-۵-۸-۱۲- - -

۱-۳-۷-۱۳-۲۱- - -